

UNIVERSITI SAINS MALAYSIA

Peperiksaan Semester Kedua
Sidang Akademik 2004/2005

Mac 2005

BOI 109/4 - Biostatistik

[Masa : 3 jam]

Sila pastikan bahawa kertas peperiksaan ini mengandungi TUJUH muka surat yang bercetak dan lampiran 1 - 8 sebelum anda memulakan peperiksaan ini.

Jawab LIMA daripada ENAM soalan yang diberikan, dalam Bahasa Malaysia.

Tiap-tiap soalan bernilai 20 markah.

[BOI 109/4]

1. (a) Dengan menggunakan contoh yang sesuai, apakah persamaan dan perbezaan antara kaedah pensampelan rawak berstratum, dan rawak berkelompok?
(8 markah)
 - (b) Dengan menggunakan contoh yang sesuai, terangkan mengapa anda sebagai seorang pelajar biologi perlu mempelajari biostatistik?
(6 markah)
 - (c) Huraikan kaedah untuk menentukan saiz sample (n) yang optimum?
(6 markah)
2. (a) Seorang pegawai perubatan telah menjalankan satu kajian tentang indeks berat badan lelaki dewasa yang tinggal di Pulau Tioman dengan menggunakan rumus berikut dan datanya adalah seperti yang tertera di bawah:

$$\text{Indeks Berat Badan (IBB)} = \frac{\text{Berat badan (Kg)}}{\text{Tinggi Badan}^2 (\text{m}^2)}$$

Subjek: 1 2 3 4 5 6 7 8 9 10 11 12 13 14 15 16

IBB: 23 25 21 37 39 22 23 25 32 57 23 26 31 45 44 56

Lakukan analisis statistik yang sesuai untuk menentukan sama ada IBB lelaki dewasa di Pulau Tioman sama dengan IBB populasi lelaki dewasa negara ini, iaitu 35kg/m^2 .

(8 markah)

Nyatakan dua andaian yang digunakan terhadap kes tersebut.

(2 markah)

...3/-

[BOI 109/4]

- (b) Semasa menjalankan kajian di Pulau tersebut, didapati ramai juga perempuan dewasa terlalu gemuk. Sembilan orang dipilih dalam program diet untuk mengurangkan berat badan dengan memakan makanan berkalori rendah selama 25 minggu. Berat badan sebelum dan selepas 25 minggu adalah seperti berikut:

Subjek	1	2	3	4	5	6	7	8	9
Sebelum	117.3	111.4	98.6	104.3	105.3	100.4	81.7	89.5	78.2
Selepas	83.3	85.5	75.5	82.6	83.1	76.5	62.7	63.8	67.4

Lakukan analisis statistik yang sesuai untuk menentukan sama ada program tersebut berkesan atau tidak?

(10 markah)

3. Berikut ialah data kandungan flourida di dalam air dua batang sungai yang tercemar.

Kandungan Fluorida (mg/l)	
Sungai Pinang	Sungai Jeram
11.9	12.7
12.2	13.6
13.2	12.6
17.0	13.7
10.7	10.7
12.9	10.8
9.8	11.3
13.2	12.6
11.8	12.8
9.9	9.8
11.8	10.9

- (a) Adakah nilai varians kedua-dua kandungan flourida di dalam air sungai itu sama?

(4 markah)

...4/-

[BOI 109/4]

- (b) Bolehkah anda membuat kesimpulan bahawa Sungai Jeram lebih tercemar dibandingkan dengan Sungai Pinang?

(12 markah)

- (c) Mengapa anda memilih Ujian Statistik tersebut?

(2 markah)

- (d) Berikan dua andaian yang digunakan untuk kes ini.

(2 markah)

4. Lima spesies *Alocasia* yang berlainan telah ditanam di dalam pasu di rumah tumbuhan untuk menentukan sama ada lima spesies itu mempunyai kadar pertumbuhan yang sama. Oleh kerana kesesakan ruang di rumah tumbuhan, anda hanya diberi enam meja kecil untuk meletakkan pasu itu. Setiap meja hanya dapat dimuatkan lima pasu yang tersusun dalam satu barisan. Setiap meja diletak di tempat yang berbeza di dalam rumah tumbuhan. Selepas dua bulan berat (g) setiap pokok *Alocasia* ditimbang dan data yang dikumpulkan adalah seperti berikut:

Meja	Spesies 1	Spesies 2	Spesies 3	Spesies 4	Spesies 5
1	15.5	21.4	12.9	16.4	19.4
2	20.3	22.1	13.7	14.8	20.0
3	18.2	20.8	13.5	16.4	22.4
4	17.7	21.9	14.7	14.6	21.6
5	16.7	19.8	12.8	15.4	22.0
6	19.8	21.0	14.6	15.6	21.3

- (a) Jalankan ujian statistik untuk menentukan sama ada
- Lima spesies *Alocasia* mempunyai kadar pertumbuhan yang sama.
 - Susunan meja dan keadaan fizikal dalam rumah tumbuhan memberi kesan terhadap kadar pertumbuhan pakok *Alocasia*.

(12 markah)

...5/-

- (b) Lakukan perbandingan min berat spesies secara berpasangan dengan kaedah LSD dan buat kesimpulan anda.

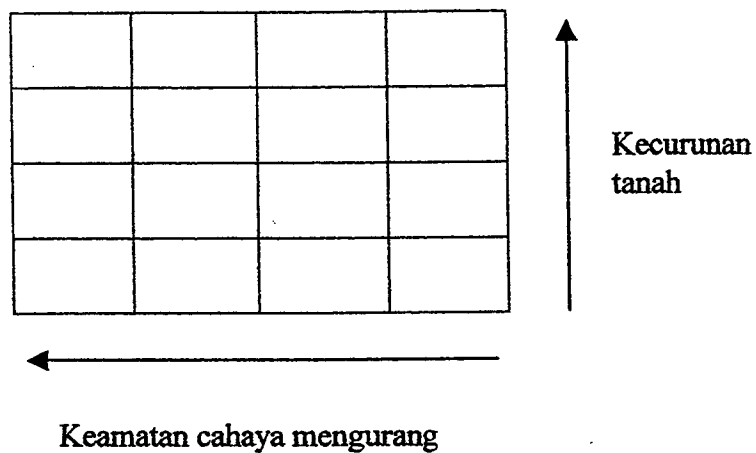
(8 markah)

- 5 Satu eksperimen faktoran 2×2 yang melibatkan dua faktor, N dan M dijalankan ke atas tumbuhan padi. Faktor N ialah baja nitrogen yang diberi pada dua aras n_1 dan n_2 . Faktor M ialah penambahan inokulum mikoriza kepada sistem akar tumbuhan pada aras m_1 dan m_2 .

- (a) Tuliskan formula untuk kesan-kesan utama dan tindakan salingan bagi dua faktor itu.

(6 markah)

- (b) Lukiskan susunatur plot bagi eksperimen faktoran ini sekiranya keadaan lapangan adalah seperti ditunjukkan di bawah:



(4 markah)

- (c) Jadual berikut meringkaskan hasil padi (kg/plot) bagi eksperimen faktor tersebut:

n_1m_1	2.27	2.71	2.46	2.45
n_1m_2	2.52	2.8	2.66	2.57
n_2m_1	5.34	4.83	4.79	4.03
n_2m_2	5.04	5.80	5.87	5.31

Lakukan ujian statistik dengan menggunakan data di atas dan buat kesimpulan anda.

(10 markah)

6. Di dalam satu kajian pencemaran air, penentuan beberapa parameter telah dilakukan di jeti lima pelabuhan. Bilangan bot berenjin yang berlabuh juga dihitung. Data kajian yang dikumpul adalah seperti berikut:

Pelabuhan	Hidrokarbon ($\mu\text{g/liter air}$)	Kandungan minyak dalam sedimen (bsj)	Kandungan minyak dalam usus ikan (bsj)	Bilangan bot berenjin
Kelang	108	87.1	4.6	5040
Kuala Perlis	118	93.1	5.1	6371
Pulau Pinang	89	89.8	4.8	1243
Labuan	71	91.4	4.4	1400
Pulau Ketam	66	99.5	5.9	2894

- (a) Dengan menggunakan data di atas, seorang pelajar menggunakan kaedah analisis varians untuk menentukan sama ada tahap pencemaran air berbeza dengan tempat. Adakah analisis data ini betul? Berikan alasan anda.

(5 markah)

- (b) Lakukan analisis statistik untuk menentukan sama ada terdapat sebarang pertalian di antara bilangan bot berenjin dengan kandungan hidrokarbon di dalam air.

(6 markah)

...7/-

[BOI 109/4]

- (c) Dengan menggunakan kaedah statistik yang sesuai, tunjukkan pertalian di antara kandungan minyak di dalam sedimen dengan yang terdapat di usus ikan dalam bentuk suatu persamaan. Anggarkan kandungan minyak dalam usus ikan apabila kandungan minyak dalam sedimen ialah 90 bsj.

(9 markah)

FORMULA-FORMULA PANDUAN

$$A. z = \frac{\bar{y} - u_0}{\sigma_{\bar{y}}}$$

$$B. t = \frac{(\bar{y}_1 - \bar{y}_2)}{s \sqrt{(1/n_1) + (1/n_2)}}$$

$$C. t = \frac{(\bar{y}_1 - \bar{y}_2)}{\sqrt{(s_1^2/n_1) + (s_2^2/n_2)}}$$

$$D. z = \frac{y - 0.5n}{\sqrt{0.25n}}$$

$$E. t = \frac{\bar{d}}{s_d/\sqrt{n}}$$

$$F. s = \sqrt{\frac{(n_1 - 1)s_1^2 + (n_2 - 1)s_2^2}{n_1 + n_2 - 2}}$$

$$G. |r'| = \frac{(t_1 s_1^2/n_1) + (t_2 s_2^2/n_2)}{(s_1^2/n_1) + (s_2^2/n_2)}$$

Experimen bionomial

$$P(y) = \frac{n!}{y! (n - y)!} p^y q^{n-y}$$

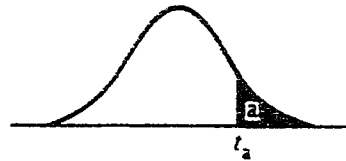
Anggaran kecerunan garis regresi linear

$$\hat{b} = \frac{n \sum x_i y_i - \sum x_i \sum y_i}{n \sum x_i^2 - (\sum x_i)^2} \quad \text{atau} \quad \hat{b} = \frac{\sum x_i y_i - \frac{\sum x_i \sum y_i}{n}}{\sum x_i^2 - \frac{(\sum x_i)^2}{n}}$$

Anggaran pekali korelasi Pearson

$$r = \frac{n \sum x_i y_i - \sum x_i \sum y_i}{\sqrt{[n \sum x_i^2 - (\sum x_i)^2][n \sum y_i^2 - (\sum y_i)^2]}}$$

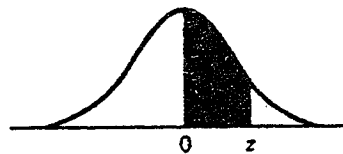
Jadual Titik Peratusan Taburan t



df	$\alpha = .10$	$\alpha = .05$	$\alpha = .025$	$\alpha = .010$	$\alpha = .005$
1	3.078	6.314	12.706	31.821	63.657
2	1.886	2.920	4.303	6.965	9.925
3	1.638	2.353	3.182	4.541	5.841
4	1.533	2.132	2.776	3.747	4.604
5	1.476	2.015	2.571	3.365	4.032
6	1.440	1.943	2.447	3.143	3.707
7	1.415	1.895	2.365	2.998	3.499
8	1.397	1.860	2.306	2.896	3.355
9	1.383	1.833	2.262	2.821	3.250
10	1.372	1.812	2.228	2.764	3.169
11	1.363	1.796	2.201	2.718	3.106
12	1.356	1.782	2.179	2.681	3.055
13	1.350	1.771	2.160	2.650	3.012
14	1.345	1.761	2.145	2.624	2.977
15	1.341	1.753	2.131	2.602	2.947
16	1.337	1.746	2.120	2.583	2.921
17	1.333	1.740	2.110	2.567	2.898
18	1.330	1.734	2.101	2.552	2.878
19	1.328	1.729	2.093	2.539	2.861
20	1.325	1.725	2.086	2.528	2.845
21	1.323	1.721	2.080	2.518	2.831
22	1.321	1.717	2.074	2.508	2.819
23	1.319	1.714	2.069	2.500	2.807
24	1.318	1.711	2.064	2.492	2.797
25	1.316	1.708	2.060	2.485	2.787
26	1.315	1.706	2.056	2.479	2.779
27	1.314	1.703	2.052	2.473	2.771
28	1.313	1.701	2.048	2.467	2.763
29	1.311	1.699	2.045	2.462	2.756
inf.	1.282	1.645	1.960	2.326	2.576

From "Table of Percentage Points of the t-distribution." Computed by Maxine Merrington, *Biometrika*, Vol. 32 (1941), p. 300. Reproduced by permission of the *Biometrika* Trustees.

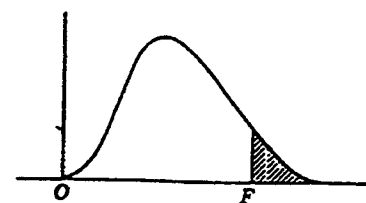
Jadual Luas Lengkong Normal



z	.00	.01	.02	.03	.04	.05	.06	.07	.08	.09
0.0	.0000	.0040	.0080	.0120	.0160	.0199	.0239	.0279	.0319	.0359
0.1	.0398	.0438	.0478	.0517	.0557	.0596	.0636	.0675	.0714	.0753
0.2	.0793	.0832	.0871	.0910	.0948	.0987	.1026	.1064	.1103	.1141
0.3	.1179	.1217	.1255	.1293	.1331	.1368	.1406	.1443	.1480	.1517
0.4	.1554	.1591	.1628	.1664	.1700	.1736	.1772	.1808	.1844	.1879
0.5	.1915	.1950	.1985	.2019	.2054	.2088	.2123	.2157	.2190	.2224
0.6	.2257	.2291	.2324	.2357	.2389	.2422	.2454	.2486	.2517	.2549
0.7	.2580	.2611	.2642	.2673	.2704	.2734	.2764	.2794	.2823	.2852
0.8	.2881	.2910	.2939	.2967	.2995	.3023	.3051	.3078	.3106	.3133
0.9	.3159	.3186	.3212	.3238	.3264	.3289	.3315	.3340	.3365	.3389
1.0	.3413	.3438	.3461	.3485	.3508	.3531	.3554	.3577	.3599	.3621
1.1	.3643	.3665	.3686	.3708	.3729	.3749	.3770	.3790	.3810	.3830
1.2	.3849	.3869	.3888	.3907	.3925	.3944	.3962	.3980	.3997	.4015
1.3	.4032	.4049	.4066	.4082	.4099	.4115	.4131	.4147	.4162	.4177
1.4	.4192	.4207	.4222	.4236	.4251	.4265	.4279	.4292	.4306	.4319
1.5	.4332	.4345	.4357	.4370	.4382	.4394	.4406	.4418	.4429	.4441
1.6	.4452	.4463	.4474	.4484	.4495	.4505	.4515	.4525	.4535	.4545
1.7	.4554	.4564	.4573	.4582	.4591	.4599	.4608	.4616	.4625	.4633
1.8	.4641	.4649	.4656	.4664	.4671	.4678	.4686	.4693	.4699	.4706
1.9	.4713	.4719	.4726	.4732	.4738	.4744	.4750	.4756	.4761	.4767
2.0	.4772	.4778	.4783	.4788	.4793	.4798	.4803	.4808	.4812	.4817
2.1	.4821	.4826	.4830	.4834	.4838	.4842	.4846	.4850	.4854	.4857
2.2	.4861	.4864	.4868	.4871	.4875	.4878	.4881	.4884	.4887	.4890
2.3	.4893	.4896	.4898	.4901	.4904	.4906	.4909	.4911	.4913	.4916
2.4	.4918	.4920	.4922	.4925	.4927	.4929	.4931	.4932	.4934	.4936
2.5	.4938	.4940	.4941	.4943	.4945	.4946	.4948	.4949	.4951	.4952
2.6	.4953	.4955	.4956	.4957	.4959	.4960	.4961	.4962	.4963	.4964
2.7	.4965	.4966	.4967	.4968	.4969	.4970	.4971	.4972	.4973	.4974
2.8	.4974	.4975	.4976	.4977	.4977	.4978	.4979	.4979	.4980	.4981
2.9	.4981	.4982	.4982	.4983	.4984	.4984	.4985	.4985	.4986	.4986
3.0	.4987	.4987	.4987	.4988	.4988	.4989	.4989	.4989	.4990	.4990

This table is abridged from Table I of *Statistical Tables and Formulas*, by A. Hald (New York: John Wiley & Sons, 1952). Reproduced by permission of A. Hald and the publishers, John Wiley & Sons.

Nilai-Nilai Genting Untuk Taburan F Bagi Aras Keertian 5% (Cetakan Biasan) Dan 1% (Cetakan Gelap)



Darjah Kebebasan untuk pembetulan (df ₂)	Darjah Kebebasan Untuk Pengatas (df ₁)																							
	1	2	3	4	5	6	7	8	9	10	11	12	14	16	20	24	30	40	50	75	100	200	500	∞
1	161 4052	200 4999	216 5403	225 5425	230 5764	234 5859	237 5928	239 5981	241 6022	242 6096	243 6082	244 6106	245 6142	246 6169	248 6208	249 6234	250 6258	251 6286	252 6302	253 6323	253 6334	254 6352	254 6361	254 6366
2	18.51 98.45	19.00 99.01	19.16 99.17	19.25 99.25	19.30 99.30	19.33 99.33	19.36 99.34	19.37 99.36	19.38 99.38	19.39 99.40	19.40 99.41	19.41 99.42	19.42 99.43	19.43 99.44	19.44 99.45	19.45 99.46	19.46 99.47	19.47 99.48	19.47 99.48	19.48 99.49	19.49 99.49	19.49 99.49	19.50 99.50	19.50 99.50
3	10.13 34.12	9.55 30.81	9.28 29.46	9.12 28.71	9.01 28.24	8.94 27.91	8.88 27.67	8.84 27.49	8.81 27.34	8.78 27.23	8.76 27.13	8.74 27.05	8.71 26.92	8.69 26.83	8.66 26.69	8.64 26.60	8.62 26.50	8.60 26.41	8.58 26.30	8.57 26.27	8.56 26.23	8.54 26.18	8.54 26.14	8.53 26.12
4	7.71 21.20	6.94 18.00	6.59 16.69	6.39 15.98	6.26 15.52	6.16 15.21	6.09 14.98	6.04 14.80	6.00 14.66	5.96 14.54	5.93 14.45	5.91 14.37	5.87 14.24	5.84 14.15	5.80 14.02	5.77 13.93	5.74 13.83	5.71 13.74	5.70 13.69	5.68 13.61	5.66 13.57	5.65 13.52	5.64 13.48	5.63 13.46
5	6.61 16.26	5.79 13.27	5.41 12.06	5.19 11.39	5.05 10.97	4.95 10.67	4.88 10.45	4.82 10.27	4.78 10.15	4.74 10.05	4.70 9.96	4.68 9.89	4.64 9.77	4.60 9.68	4.56 9.55	4.53 9.47	4.50 9.38	4.46 9.29	4.44 9.24	4.42 9.17	4.40 9.13	4.38 9.07	4.37 9.04	4.36 9.02
6	5.99 13.74	5.14 10.92	4.76 9.78	4.53 9.15	4.39 8.75	4.28 8.47	4.21 8.26	4.15 8.10	4.10 7.98	4.06 7.87	4.03 7.79	4.00 7.72	3.96 7.60	3.92 7.52	3.87 7.39	3.84 7.31	3.81 7.23	3.77 7.14	3.75 7.09	3.72 7.02	3.71 6.99	3.69 6.94	3.68 6.90	3.67 6.88
7	5.59 12.25	4.74 9.55	4.35 8.45	4.12 7.85	3.97 7.46	3.87 7.19	3.79 7.00	3.73 6.84	3.68 6.71	3.63 6.62	3.60 6.54	3.57 6.47	3.52 6.35	3.49 6.27	3.44 6.15	3.41 6.07	3.38 5.98	3.34 5.90	3.32 5.85	3.29 5.78	3.28 5.75	3.25 5.70	3.24 5.67	3.23 5.65
8	5.32 11.26	4.46 8.65	4.07 7.59	3.84 7.01	3.69 6.63	3.58 6.37	3.50 6.19	3.44 6.03	3.39 5.91	3.34 5.82	3.31 5.74	3.28 5.67	3.23 5.56	3.20 5.48	3.15 5.36	3.12 5.28	3.08 5.20	3.05 5.11	3.03 5.06	3.00 5.00	2.98 4.96	2.96 4.91	2.94 4.88	2.93 4.86
9	5.12 10.56	4.26 8.02	3.86 6.99	3.63 6.42	3.48 6.06	3.37 5.80	3.29 5.62	3.23 5.47	3.18 5.35	3.13 5.26	3.10 5.18	3.07 5.11	3.02 5.00	2.98 4.92	2.93 4.80	2.90 4.73	2.86 4.64	2.82 4.56	2.80 4.51	2.77 4.45	2.76 4.41	2.73 4.36	2.72 4.33	2.71 4.31
10	4.96 10.04	4.10 7.56	3.71 6.55	3.48 5.99	3.33 5.64	3.22 5.39	3.14 5.21	3.07 5.06	3.02 4.95	2.97 4.85	2.94 4.78	2.91 4.71	2.86 4.60	2.82 4.52	2.77 4.41	2.74 4.33	2.70 4.25	2.67 4.17	2.64 4.12	2.61 4.05	2.59 4.01	2.56 3.96	2.55 3.93	2.54 3.91
11	4.84 9.65	3.98 7.20	3.59 6.22	3.36 5.67	3.20 5.32	3.09 5.07	3.01 4.88	2.95 4.74	2.90 4.63	2.86 4.54	2.82 4.46	2.79 4.40	2.74 4.29	2.70 4.21	2.65 4.10	2.61 4.02	2.57 3.94	2.53 3.86	2.50 3.80	2.47 3.74	2.45 3.70	2.42 3.65	2.41 3.62	2.40 3.60
12	4.75 9.33	3.88 6.93	3.49 5.95	3.26 5.41	3.11 5.06	3.00 4.82	2.92 4.65	2.85 4.50	2.80 4.39	2.76 4.30	2.72 4.22	2.69 4.16	2.64 4.05	2.60 3.98	2.54 3.86	2.50 3.78	2.46 3.70	2.42 3.61	2.40 3.56	2.36 3.49	2.35 3.46	2.32 3.41	2.31 3.38	2.30 3.36
13	4.67 9.07	3.80 6.70	3.41 5.74	3.18 5.20	3.02 4.86	2.92 4.62	2.84 4.44	2.77 4.30	2.72 4.19	2.67 4.10	2.63 4.02	2.60 3.95	2.55 3.85	2.51 3.78	2.46 3.67	2.42 3.59	2.38 3.51	2.34 3.42	2.32 3.37	2.28 3.30	2.26 3.27	2.24 3.21	2.22 3.18	2.21 3.15
14	4.60 8.86	3.74 6.51	3.34 5.56	3.11 5.03	2.96 4.69	2.85 4.46	2.77 4.28	2.70 4.14	2.65 4.03	2.60 3.94	2.56 3.86	2.53 3.80	2.48 3.70	2.44 3.62	2.39 3.51	2.35 3.43	2.31 3.34	2.27 3.26	2.24 3.21	2.21 3.14	2.19 3.11	2.16 3.06	2.14 3.02	2.13 3.00
15	4.54 8.68	3.68 6.36	3.29 5.42	3.06 4.89	2.90 4.56	2.79 4.32	2.70 4.14	2.64 4.00	2.59 3.89	2.55 3.80	2.51 3.73	2.48 3.67	2.43 3.56	2.39 3.48	2.33 3.36	2.29 3.29	2.25 3.20	2.21 3.12	2.18 3.07	2.15 3.00	2.12 2.97	2.10 2.92	2.08 2.89	2.07 2.87
16	4.49 8.53	3.63 6.23	3.24 5.29	3.01 4.77	2.85 4.44	2.74 4.20	2.66 4.03	2.59 3.89	2.54 3.78	2.49 3.69	2.45 3.61	2.42 3.55	2.37 3.45	2.33 3.37	2.28 3.25	2.24 3.18	2.20 3.10	2.16 3.01	2.13 2.96	2.09 2.89	2.07 2.86	2.04 2.80	2.02 2.77	2.01 2.75
17	4.45 8.40	3.59 6.11	3.20 5.18	2.96 4.67	2.81 4.34	2.70 4.10	2.62 3.93	2.55 3.79	2.50 3.68	2.45 3.59	2.41 3.52	2.38 3.45	2.33 3.35	2.29 3.27	2.23 3.16	2.19 3.08	2.15 3.00	2.11 2.92	2.08 2.86	2.04 2.79	2.02 2.76	1.99 2.70	1.97 2.67	1.96 2.65
18	4.41 8.28	3.55 6.01	3.16 5.09	2.93 4.58	2.77 4.25	2.66 4.01	2.58 3.85	2.51 3.71	2.46 3.60	2.41 3.51	2.37 3.44	2.34 3.37	2.29 3.27	2.25 3.19	2.19 3.07	2.15 3.00	2.11 2.92	2.07 2.83	2.04 2.78	2.00 2.71	1.98 2.68	1.95 2.62	1.93 2.59	1.92 2.57
19	4.38 8.18	3.52 5.93	3.13 5.01	2.90 4.50	2.74 4.17	2.63 3.94	2.55 3.77	2.48 3.63	2.43 3.52	2.38 3.43	2.34 3.36	2.31 3.30	2.26 3.19	2.21 3.12	2.15 3.00	2.11 2.92	2.07 2.84	2.02 2.76	2.00 2.70	1.96 2.63	1.94 2.60	1.91 2.54	1.89 2.51	1.88 2.49
20	4.35 8.10	3.49 5.85	3.10 4.94	2.87 4.43	2.71 4.10	2.60 3.87	2.52 3.71	2.45 3.56	2.40 3.45	2.35 3.37	2.31 3.30	2.28 3.23	2.23 3.13	2.18 3.05	2.12 2.94	2.08 2.86	2.04 2.77	1.99 2.69	1.96 2.63	1.92 2.56	1.90 2.53	1.87 2.47	1.85 2.44	1.84 2.42
21	4.32 8.02	3.47 5.78	3.07 4.87	2.84 4.37	2.68 4.04	2.57 3.81	2.49 3.65	2.42 3.51	2.37 3.40	2.32 3.31	2.28 3.24	2.25 3.17	2.20 3.07	2.15 2.99	2.09 2.88	2.05 2.80	2.00 2.72	1.96 2.63	1.93 2.58	1.89 2.51	1.87 2.47	1.84 2.42	1.82 2.38	1.81 2.36
22	4.30 7.94	3.44 5.72	3.05 4.82	2.82 4.31	2.66 3.99	2.55 3.76	2.47 3.59	2.40 3.45	2.35 3.35	2.30 3.26	2.26 3.18	2.23 3.12	2.18 3.02	2.13 2.94	2.07 2.83	2.03 2.75	1.98 2.67	1.93 2.54	1.91 2.53	1.87 2.46	1.84 2.42	1.81 2.37	1.80 2.33	1.79 2.31
23	4.28 7.88	3.42 5.66	3.03 4.76	2.80 4.26	2.64 3.94	2.53 3.71	2.45 3.54	2.38 3.41	2.32 3.30	2.28 3.21	2.24 3.14	2.20 3.07	2.14 2.97	2.10 2.89	2.04 2.78	2.00 2.70	1.96 2.62	1.91 2.53	1.88 2.48	1.84 2.41	1.82 2.37	1.79 2.32	1.77 2.28	1.76 2.26

Jaduai Titik Peratusan Ujian Julat Berganda Baru Duncan

r = number of ordered steps between means

Error df	α	2	3	4	5	6	7	8	9	10	12	14	16	18	20
1	.05	18.0	18.0	18.0	18.0	18.0	18.0	18.0	18.0	18.0	18.0	18.0	18.0	18.0	18.0
	.01	90.0	90.0	90.0	90.0	90.0	90.0	90.0	90.0	90.0	90.0	90.0	90.0	90.0	90.0
2	.05	6.09	6.09	6.09	6.09	6.09	6.09	6.09	6.09	6.09	6.09	6.09	6.09	6.09	6.09
	.01	14.0	14.0	14.0	14.0	14.0	14.0	14.0	14.0	14.0	14.0	14.0	14.0	14.0	14.0
3	.05	4.50	4.50	4.50	4.50	4.50	4.50	4.50	4.50	4.50	4.50	4.50	4.50	4.50	4.50
	.01	8.26	8.5	8.6	8.7	8.8	8.9	9.0	9.0	9.0	9.0	9.1	9.2	9.3	9.3
4	.05	3.93	4.01	4.02	4.02	4.02	4.02	4.02	4.02	4.02	4.02	4.02	4.02	4.02	4.02
	.01	6.51	6.8	6.9	7.0	7.1	7.1	7.2	7.2	7.3	7.3	7.4	7.4	7.5	7.5
5	.05	3.64	3.74	3.79	3.83	3.83	3.83	3.83	3.83	3.83	3.83	3.83	3.83	3.83	3.83
	.01	5.70	5.96	6.11	6.18	6.26	6.33	6.40	6.44	6.5	6.6	6.6	6.7	6.7	6.8
6	.05	3.46	3.58	3.64	3.68	3.68	3.68	3.68	3.68	3.68	3.68	3.68	3.68	3.68	3.68
	.01	5.24	5.51	5.65	5.73	5.81	5.88	5.95	6.00	6.0	6.1	6.2	6.2	6.3	6.3
7	.05	3.35	3.47	3.54	3.58	3.60	3.61	3.61	3.61	3.61	3.61	3.61	3.61	3.61	3.61
	.01	4.95	5.22	5.37	5.45	5.53	5.61	5.69	5.73	5.8	5.8	5.9	5.9	6.0	6.0
8	.05	3.26	3.39	3.47	3.52	3.55	3.56	3.56	3.56	3.56	3.56	3.56	3.56	3.56	3.56
	.01	4.74	5.00	5.14	5.23	5.32	5.40	5.47	5.51	5.5	5.6	5.7	5.7	5.8	5.8
9	.05	3.20	3.34	3.41	3.47	3.50	3.52	3.52	3.52	3.52	3.52	3.52	3.52	3.52	3.52
	.01	4.60	4.86	4.99	5.08	5.17	5.25	5.32	5.36	5.4	5.5	5.5	5.6	5.7	5.7
10	.05	3.15	3.30	3.37	3.43	3.46	3.47	3.47	3.47	3.47	3.47	3.47	3.47	3.47	3.48
	.01	4.48	4.73	4.88	4.96	5.06	5.13	5.20	5.24	5.28	5.36	5.42	5.48	5.54	5.55
11	.05	3.11	3.27	3.35	3.39	3.43	3.44	3.45	3.46	3.46	3.46	3.46	3.46	3.47	3.48
	.01	4.39	4.63	4.77	4.86	4.94	5.01	5.06	5.12	5.15	5.24	5.28	5.34	5.38	5.39
12	.05	3.08	3.23	3.33	3.36	3.40	3.42	3.44	3.44	3.46	3.46	3.46	3.46	3.47	3.48
	.01	4.32	4.55	4.68	4.76	4.84	4.92	4.96	5.02	5.07	5.13	5.17	5.22	5.23	5.26
13	.05	3.06	3.21	3.30	3.35	3.38	3.41	3.42	3.44	3.45	3.45	3.46	3.46	3.47	3.47
	.01	4.26	4.48	4.62	4.69	4.74	4.84	4.88	4.94	4.98	5.04	5.08	5.13	5.14	5.15
14	.05	3.03	3.18	3.27	3.33	3.37	3.39	3.41	3.42	3.44	3.45	3.46	3.46	3.47	3.47
	.01	4.21	4.42	4.55	4.63	4.70	4.78	4.83	4.87	4.91	4.96	5.00	5.06	5.06	5.07
15	.05	3.01	3.16	3.25	3.31	3.36	3.38	3.40	3.42	3.43	3.44	3.45	3.46	3.47	3.47
	.01	4.17	4.37	4.50	4.58	4.64	4.72	4.76	4.79	4.84	4.90	4.94	4.97	4.99	5.00
16	.05	3.00	3.15	3.23	3.30	3.34	3.37	3.39	3.41	3.43	3.44	3.45	3.46	3.47	3.47
	.01	4.13	4.34	4.45	4.54	4.60	4.67	4.72	4.76	4.79	4.84	4.88	4.91	4.93	4.94
17	.05	2.98	3.13	3.22	3.28	3.33	3.36	3.38	3.40	3.42	3.44	3.45	3.46	3.47	3.47
	.01	4.10	4.30	4.41	4.50	4.56	4.63	4.68	4.72	4.75	4.80	4.83	4.86	4.88	4.89
18	.05	2.97	3.12	3.21	3.27	3.32	3.35	3.37	3.39	3.41	3.43	3.45	3.46	3.47	3.47
	.01	4.07	4.27	4.38	4.46	4.53	4.59	4.64	4.68	4.71	4.76	4.79	4.82	4.84	4.85
19	.05	2.96	3.11	3.19	3.26	3.31	3.35	3.37	3.39	3.41	3.43	3.44	3.46	3.47	3.47
	.01	4.05	4.24	4.35	4.43	4.50	4.56	4.61	4.64	4.67	4.72	4.76	4.79	4.81	4.82
20	.05	2.95	3.10	3.18	3.25	3.30	3.34	3.36	3.38	3.40	3.43	3.44	3.46	3.46	3.47
	.01	4.02	4.22	4.33	4.40	4.47	4.53	4.58	4.61	4.65	4.69	4.73	4.76	4.78	4.79
22	.05	2.93	3.08	3.17	3.24	3.29	3.32	3.35	3.37	3.39	3.42	3.44	3.45	3.46	3.47
	.01	3.99	4.17	4.28	4.36	4.42	4.48	4.53	4.57	4.60	4.65	4.68	4.71	4.74	4.75
24	.05	2.92	3.07	3.15	3.22	3.28	3.31	3.34	3.37	3.38	3.41	3.44	3.45	3.46	3.47
	.01	3.96	4.14	4.24	4.33	4.39	4.44	4.49	4.53	4.57	4.62	4.64	4.67	4.70	4.72
26	.05	2.91	3.06	3.14	3.21	3.27	3.30	3.34	3.36	3.38	3.41	3.43	3.45	3.46	3.47
	.01	3.93	4.11	4.21	4.30	4.36	4.41	4.46	4.50	4.53	4.58	4.62	4.65	4.67	4.69
28	.05	2.90	3.04	3.13	3.20	3.26	3.30	3.33	3.35	3.37	3.40	3.43	3.45	3.46	3.47
	.01	3.91	3.08	4.18	4.28	4.34	4.39	4.43	4.47	4.51	4.56	4.60	4.62	4.65	4.67
30	.05	2.89	3.04	3.12	3.20	3.25	3.29	3.32	3.35	3.37	3.40	3.43	3.44	3.46	3.47
	.01	3.89	4.06	4.16	4.22	4.32	4.36	4.41	4.45	4.48	4.54	4.58	4.61	4.63	4.65
40	.05	2.86	3.01	3.10	3.17	3.22	3.27	3.30	3.33	3.35	3.39	3.42	3.44	3.46	3.47
	.01	3.82	3.99	4.10	4.17	4.24	4.30	4.34	4.37	4.41	4.46	4.51	4.54	4.57	4.59
60	.05	2.83	2.98	3.06	3.14	3.20	3.24	3.28	3.31	3.33	3.37	3.40	3.43	3.45	3.47
	.01	3.76	3.92	4.03	4.12	4.17	4.23	4.27	4.31	4.34	4.39	4.44	4.47	4.50	4.53
100	.05	2.80	2.95	3.05	3.12	3.18	3.22	3.26	3.29	3.32	3.36	3.40	3.42	3.45	3.47
	.01	3.71	3.86	3.93	4.06	4.11	4.17	4.21	4.25	4.29	4.35	4.38	4.42	4.45	4.48
∞	.05	2.77	2.92	3.02	3.09	3.15	3.19	3.23	3.26	3.29	3.34	3.38	3.41	3.44	3.47
	.01	3.64	3.80	3.90	3.98	4.04	4.09	4.14	4.17	4.20	4.26	4.31	4.34	4.38	4.41

Reproduced from: D.B. Duncan, Multiple Range and Multiple F Tests, *Biometrics*, 11: 1-42, 1955. With permission from the Biometric Society and the author.

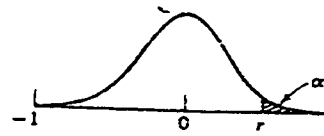
UPPER 5% PERCENTAGE POINTS, Q , IN THE STUDENTIZED RANGE*

Degrees of Freedom, f	Number of Treatments, a																			
	2	3	4	5	6	7	8	9	10	11	12	13	14	15	16	17	18	19	20	
1	18.0	27.0	32.8	37.2	40.5	43.1	45.4	47.3	49.1	50.6	51.9	53.2	54.3	55.4	56.3	57.2	58.0	58.8	59.6	
2	6.09	8.33	9.80	10.89	11.73	12.43	13.03	13.54	13.99	14.39	14.75	15.08	15.38	15.65	15.91	16.14	16.36	16.57	16.77	
3	4.50	5.91	6.83	7.51	8.04	8.47	8.85	9.18	9.46	9.72	9.95	10.16	10.35	10.52	10.69	10.84	10.98	11.12	11.24	
4	3.93	5.04	5.76	6.29	6.71	7.06	7.35	7.60	7.83	8.03	8.21	8.37	8.52	8.67	8.80	8.92	9.03	9.14	9.24	
5	3.64	4.60	5.22	5.67	6.03	6.33	6.58	6.80	6.99	7.17	7.32	7.47	7.60	7.72	7.83	7.93	8.03	8.12	8.21	
6	3.46	4.34	4.90	5.31	5.63	5.89	6.12	6.32	6.49	6.65	6.79	6.92	7.04	7.14	7.24	7.34	7.43	7.51	7.59	
7	3.34	4.16	4.68	5.06	5.35	5.59	5.80	5.99	6.15	6.29	6.42	6.54	6.65	6.75	6.84	6.93	7.01	7.08	7.16	
8	3.26	4.04	4.53	4.89	5.17	5.40	5.60	5.77	5.92	6.05	6.18	6.29	6.39	6.48	6.57	6.65	6.73	6.80	6.87	
9	3.20	3.95	4.42	4.76	5.02	5.24	5.43	5.60	5.74	5.87	5.98	6.09	6.19	6.28	6.36	6.44	6.51	6.58	6.65	
10	3.15	3.88	4.33	4.66	4.91	5.12	5.30	5.46	5.60	5.72	5.83	5.93	6.03	6.12	6.20	6.27	6.34	6.41	6.47	
11	3.11	3.82	4.26	4.58	4.82	5.03	5.20	5.35	5.49	5.61	5.71	5.81	5.90	5.98	6.06	6.14	6.20	6.27	6.33	
12	3.08	3.77	4.20	4.51	4.75	4.95	5.12	5.27	5.40	5.51	5.61	5.71	5.80	5.88	5.95	6.02	6.09	6.15	6.21	
13	3.06	3.73	4.15	4.46	4.69	4.88	5.05	5.19	5.32	5.43	5.53	5.63	5.71	5.79	5.86	5.93	6.00	6.06	6.11	
14	3.03	3.70	4.11	4.41	4.64	4.83	4.99	5.13	5.25	5.36	5.46	5.56	5.64	5.72	5.79	5.86	5.92	5.98	6.03	
15	3.01	3.67	4.08	4.37	4.59	4.78	4.94	5.08	5.20	5.31	5.40	5.49	5.57	5.65	5.72	5.79	5.85	5.91	5.96	
16	3.00	3.65	4.05	4.34	4.56	4.74	4.90	5.03	5.15	5.26	5.35	5.44	5.52	5.59	5.66	5.73	5.79	5.84	5.90	
17	2.98	3.62	4.02	4.31	4.52	4.70	4.86	4.99	5.11	5.21	5.31	5.39	5.47	5.55	5.61	5.68	5.74	5.79	5.84	
18	2.97	3.61	4.00	4.28	4.49	4.67	4.83	4.96	5.07	5.17	5.27	5.35	5.43	5.50	5.57	5.63	5.69	5.74	5.79	
19	2.96	3.59	3.98	4.26	4.47	4.64	4.79	4.92	5.04	5.14	5.23	5.32	5.39	5.46	5.53	5.59	5.65	5.70	5.75	
20	2.95	3.58	3.96	4.24	4.45	4.62	4.77	4.90	5.01	5.11	5.20	5.28	5.36	5.43	5.50	5.56	5.61	5.66	5.71	
24	2.92	3.53	3.90	4.17	4.37	4.54	4.68	4.81	4.92	5.01	5.10	5.18	5.25	5.32	5.38	5.44	5.50	5.55	5.59	
30	2.89	3.48	3.84	4.11	4.30	4.46	4.60	4.72	4.83	4.92	5.00	5.08	5.15	5.21	5.27	5.33	5.38	5.43	5.48	
40	2.86	3.44	3.79	4.04	4.23	4.39	4.52	4.63	4.74	4.82	4.90	4.98	5.05	5.11	5.17	5.22	5.27	5.32	5.36	
60	2.83	3.40	3.74	3.98	4.16	4.31	4.44	4.55	4.65	4.73	4.81	4.88	4.94	5.00	5.06	5.11	5.15	5.20	5.24	
120	2.80	3.36	3.69	3.92	4.10	4.24	4.36	4.47	4.56	4.64	4.71	4.78	4.84	4.90	4.95	5.00	5.04	5.09	5.13	
∞	2.77	3.32	3.63	3.86	4.03	4.17	4.29	4.39	4.47	4.55	4.62	4.68	4.74	4.80	4.84	4.89	4.93	4.97	5.01	

* Reprinted from *Biometrika*, 39:192 (1952) by permission of the author, Joyce M. May, and the editor.

Nilai-Nilai Genting Untuk Pekali Korelasi Pearson, r

Untuk ujian dua hujung, α ialah dua kali nilai aras keertian yang tercatat di pangkal sifir setiap lajur untuk nilai-nilai genting bagi r . Misalnya bagi $\alpha = 0.05$, pilih lajur untuk 0.025.



$n \backslash \alpha$	0.05	0.025	0.010	0.005
5	0.805	0.878	0.934	0.959
6	0.729	0.811	0.882	0.917
7	0.669	0.754	0.833	0.875
8	0.621	0.707	0.789	0.834
9	0.582	0.666	0.750	0.798
10	0.549	0.632	0.716	0.765
11	0.521	0.602	0.685	0.735
12	0.497	0.576	0.658	0.708
13	0.476	0.553	0.634	0.684
14	0.457	0.532	0.612	0.661
15	0.441	0.514	0.592	0.641
16	0.426	0.497	0.574	0.623

$n \backslash \alpha$	0.05	0.025	0.010	0.005
17	0.412	0.482	0.558	0.606
18	0.400	0.468	0.542	0.590
19	0.389	0.456	0.528	0.575
20	0.378	0.444	0.516	0.561
25	0.337	0.396	0.462	0.505
30	0.306	0.361	0.423	0.463
40	0.264	0.312	0.366	0.402
50	0.235	0.279	0.328	0.361
60	0.214	0.254	0.300	0.330
80	0.185	0.220	0.260	0.286
100	0.165	0.196	0.232	0.256

Tables VI dan VII are from Paul G. Hoel, *Elementary Statistics*, 3rd ed., © 1971, John Wiley and Sons, Inc., New York, pp. 289, 292 - 294.