

Angka Giliran: _____

UNIVERSITI SAINS MALAYSIA

Peperiksaan Semester Tambahan
Sidang Akademik 1995/96

Mei/Jun 1996

JSE 241 - Ekonomi Antarabangsa I

Masa: [3 jam]

ARAHAN KEPADA CALON

1. Sila pastikan bahawa kertas peperiksaan ini mengandungi **DUA BELAS** muka surat yang bercetak sebelum anda memulakan peperiksaan ini.
2. Jawab **soalan 1** di Bahagian A dan **2 soalan** di bahagian B.
3. Tuliskan jawapan untuk soalan 1 di ruang kosong yang disediakan; tuliskan jawapan untuk soalan Bahagian B di buku jawapan.
4. Alat pengira elektronik tak berprogram boleh digunakan.

UNTUK KEGUNAAN PEJABAT

BAHAGIAN A		BAHAGIAN B	
A	1	2	
B		3	
C		4	
D		5	
E		6	
F		7	
G			
H			
I			
J			

BAHAGIAN A (70 markah)

1. Jawab **SEMUA** soalan berikut ([A] - [J]). Tuliskan jawapan anda di ruang kosong yang disediakan.

[A] Pertimbangkan maklumat yang terkandung di dalam jadual di bawah. Berasaskan jadual ini:

Kes 1 Negara A mempunyai **kebaikan mutlak** dalam pengeluaran komoditi _____

Negara B mempunyai **kebaikan mutlak** dalam pengeluaran komoditi _____

Kes 2 Negara A mempunyai **kebaikan mutlak** dalam pengeluaran komoditi _____

Negara B mempunyai **kebaikan bandingan** dalam pengeluaran komoditi _____

Kes 3 Negara A mempunyai **kebaikan bandingan** dalam pengeluaran komoditi _____

Negara B mempunyai **kebaikan bandingan** dalam pengeluaran komoditi _____

Kes 4 Jika negara A dan negara B berdagangan, negara A akan **mengeksport** komoditi _____ dan negara B akan **mengeksport** komoditi _____

Kes 5 Setelah negara A dan Negara B berdagang, satu **kadar pertukaran** komoditi antara negara A dan negara B yang akan menguntungkan kedua-dua negara ialah **1X: _____ M.**

	Output per unit input									
	Kes 1		Kes 2		Kes 3		Kes 4		Kes 5	
	X	M	X	M	X	M	X	M	X	M
A	2	2	1	2	12	6	0.3	0.9	10	50
B	5	3	2	1	40	30	1.2	2.0	5	80

(5 markah)

...3/-

[B] (a) Apabila negara berdagang, apakah **jenis faedah** yang dapat dinikmati?

[1] _____

[2] _____

(b) Kaji Rajah B. Rajah ini menunjukkan keluk transformasi sebuah negara kecil dan titik autarki bertanda **a**. Dalam keadaan autarki, harga relatif **X** ialah 10. Andaikan harga relatif **X** di pasaran dunia ialah 5 dan negara ini berdagang.

Tandakan **titik pengeluaran** negara ini dengan huruf **k**.

Lukiskan **garisan harga relatif** dalam keadaan perdagangan ini; tandakannya dengan huruf **P**.

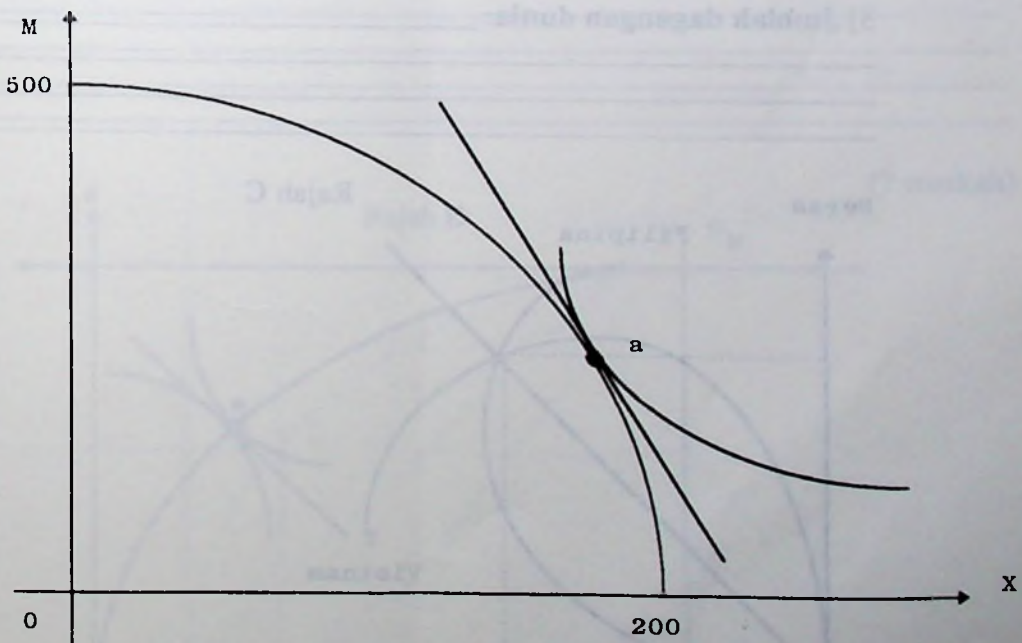
Tandakan **titik penggunaan** dengan huruf **c** dan lukiskan **keluk sama puas masyarakat**.

Hitamkan kawasan yang menunjukkan **segitiga niaga**.

Tunjukkan di atas rajah ini **faedah dari penggunaan** dan **faedah dari pengkhususan** kerana negara ini berdagang.

(7 markah)

Rajah B



... 4/-

[C] Takrifkan heluk tawaran: _____

Takrifkan segi tiga niaga: _____

Kaji Rajah C.

Apakah yang **diimport** oleh negara Filipina? _____

Apakah yang **diimport** oleh negara Vietnam? _____

Andaikan secara serentak kejutan berikut telah berlaku: Rakyat negara Filipina semakin **cenderung mengguna beras** manakala rakyat negara Vietnam semakin **tidak gemar mengguna minyak kelapa..**

Wakikan perubahan cita rasa ini di rajah C.

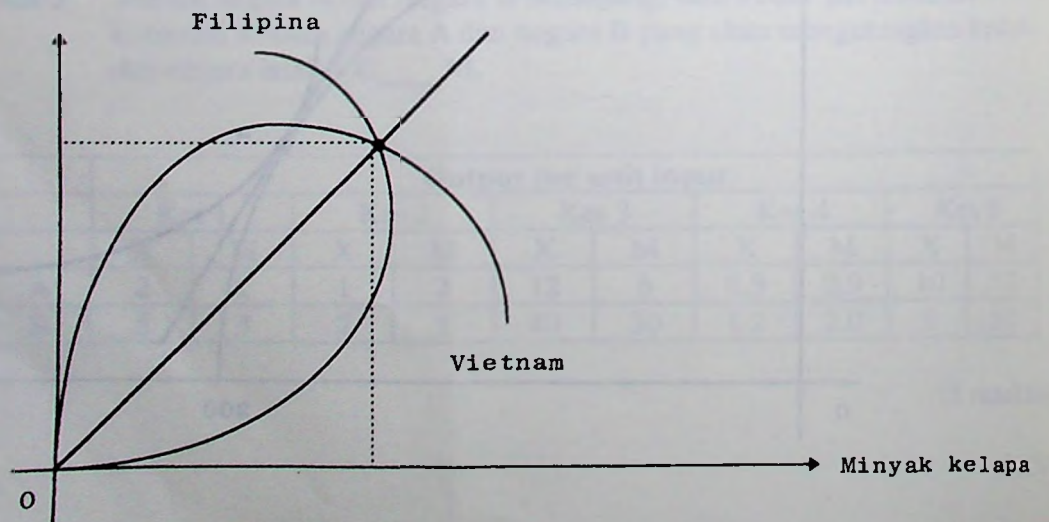
Jelaskan perubahan ini terhadap:

1] Syarat niaga negara Filipina: _____

2] Kabajikan masyarakat negara Vietnam: _____

3] Jumlah dagangan dunia: _____

Beras Rajah C (7 markah)



[D] Rajah berikut menunjukkan kotak penganugerahan faktor sebuah negara yang kaya modal (K); X dan M ialah dua komoditi. Titik bertanda **a** ialah titik agihan penggunaan faktor dalam keadaan autarki. Sudut garisan bertanda **f** mengukur harga relatif faktor buruh (L).

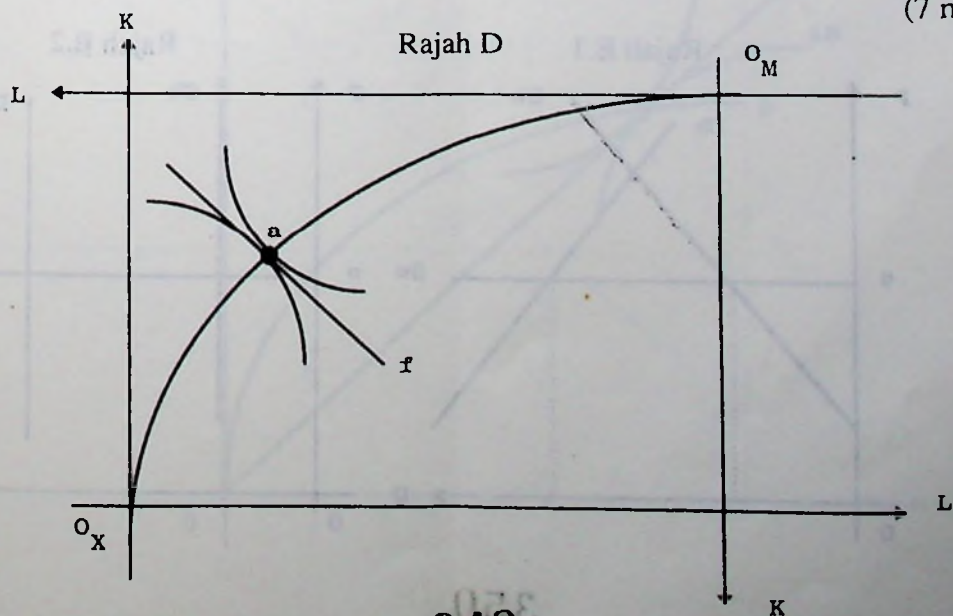
Andaikan negara ini berdagang.

1] Tunjukkan **titik agihan penggunaan faktor** dalam keadaan perdagangan; tandakannya dengan huruf **b**. Lukiskan garisan yang mengukur **harga relatif faktor** dalam keadaan **perdagangan bebas** ini.

2] Output apakah yang telah **meningkat** pengeluarannya? _____
 Mengapa? _____

3] Jelaskan bagaimana perdagangan bebas ini telah mengubah **pulangan relatif** kepada faktor pengeluaran.

(7 markah)



[E] 1] Apakah yang dimaksudkan dengan **kesan lindungan**?

2] Apakah yang dimaksudkan dengan **tarif ad valorem**?

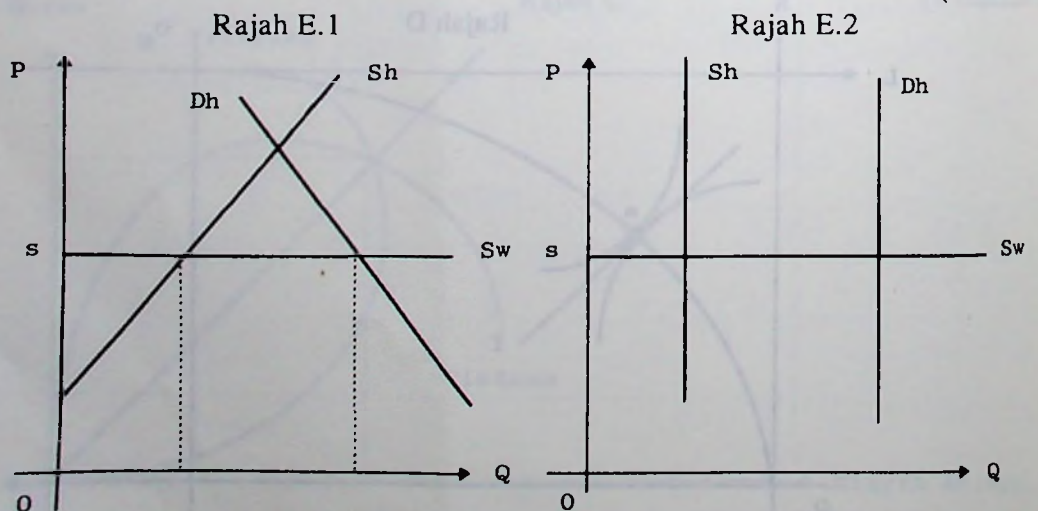
3] Apakah yang dimaksudkan dengan **kesan penggunaan**?

4] Kaji Rajah E.1 dan Rajah E.2. Di antara dua rajah ini:

(a) Rajah manakah yang menunjukkan **kesan penggunaan** yang lebih tinggi jika **tarif** dikenakan? Jelaskan.

(b) Rajah manakah yang menunjukkan **kesan hasil** yang lebih tinggi jika **tarif** pada kadar yang sama dikenakan? Jelaskan.

(7 markah)



[F] Mengapakah sebuah **negara kecil** tidak boleh **memperbaiki syarat niaganya** dengan mengenakan **tarif**?

Kaji Rajah F yang menunjukkan keluk tawaran negara A (OA) dan negara B (OB); keseimbangan perdagangan antara dua negara ini ditunjukkan oleh titik x.

Andaikan **negara besar** mengenakan **tarif**.

Lukiskan **keluk herotan tarif** negara ini dan tandakannya dengan huruf **Z**.

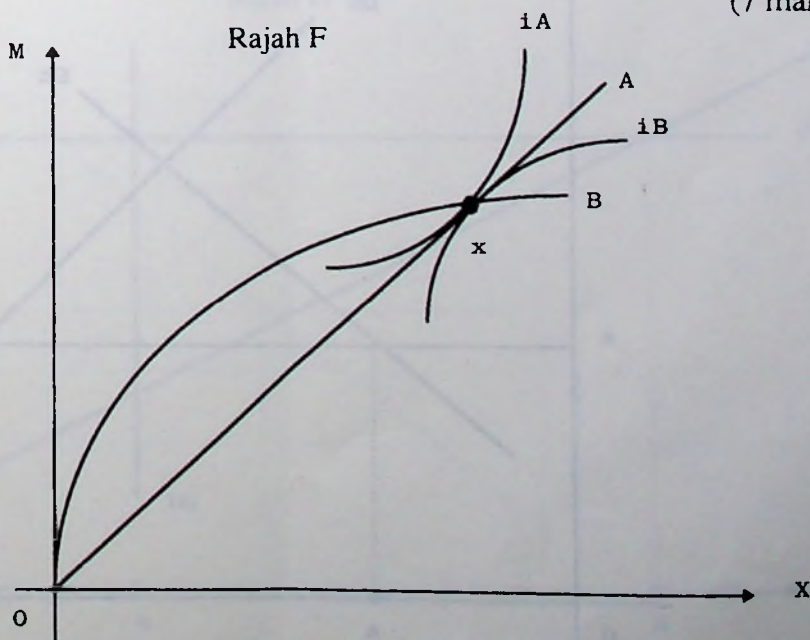
Tandakan **titik imbangan baru** dengan huruf **y**.

Di titik imbangang baru ini, lukiskan **keluk sama puas niaga** kedua-dua negara dan tandakan kedua-dua keluk ini.

Apakah kesan pengenaan tarif ini terhadap:

- 1] **Syarat niaga** negara A? _____
- 2] **Syarat niaga** negara B? _____
- 3] **Kebajikan masyarakat** negara A? _____
- 4] **Kebajikan masyarakat** negara B? _____
- 5] **Jumlah dagangan susu**. _____
- 6] **Jumlah dagangan rambutan**. _____

(7 markah)

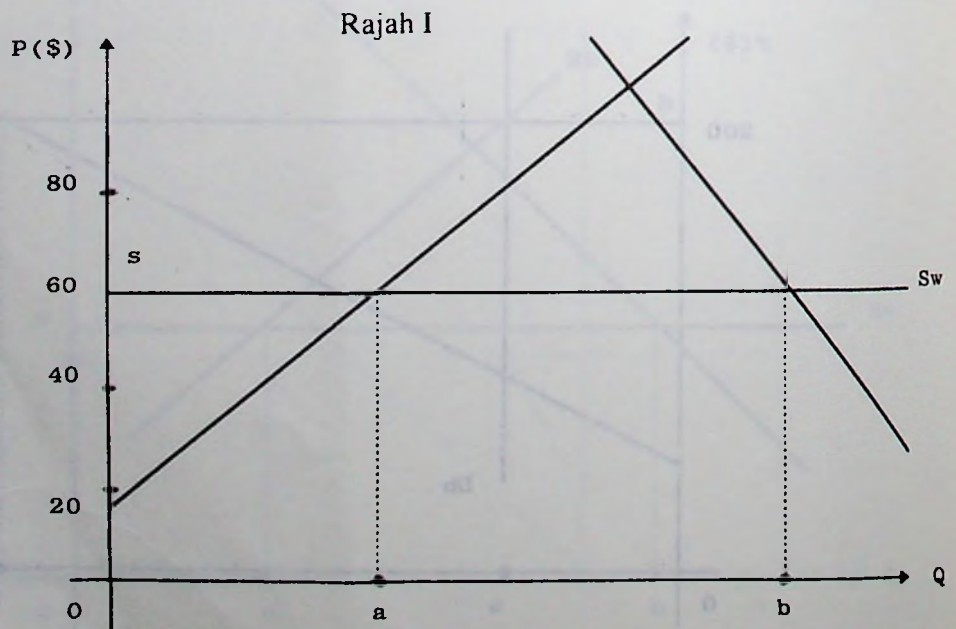


[1] Rajah I menunjukkan pasar beras di sebuah negara kecil. Andaikan secara serentak kerajaan mengenakan (a) **cukai pengeluaran** pada kadar 20% dan (b) **tarif tepat** pada kadar RM20/unit. Analisis kesan tindakan ini terhadap:

1] **kebijakan masyarakat** negara ini: _____

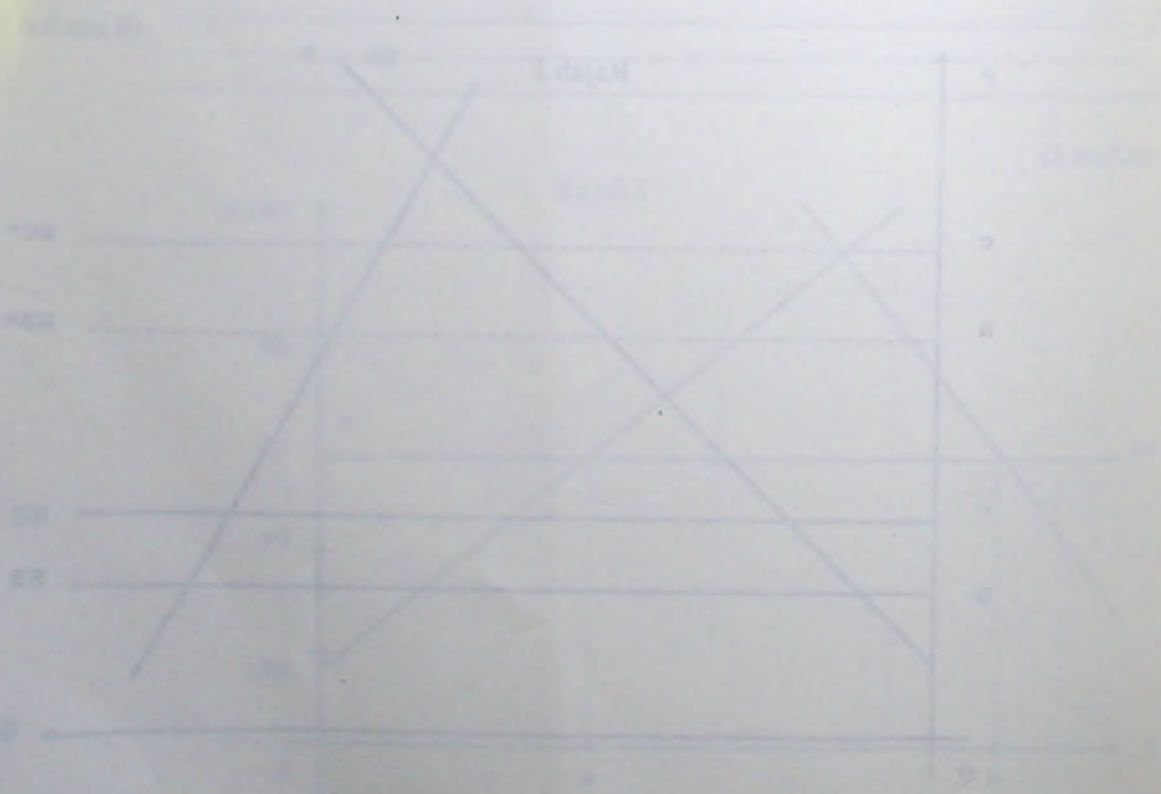
2] **perdagangan antarabangsa** negara ini: _____

(8 markah)



11. (10 points) Suppose that the market for widgets is initially in long-run equilibrium. A technological advance shifts the supply curve to the right. In the short run, the price of widgets falls and the quantity produced increases. In the long run, the price of widgets returns to the long-run equilibrium price and the quantity produced increases.

12. (10 points) Suppose that the market for widgets is initially in long-run equilibrium. A technological advance shifts the supply curve to the right. In the short run, the price of widgets falls and the quantity produced increases. In the long run, the price of widgets returns to the long-run equilibrium price and the quantity produced increases.



BAHAGIAN B (30 markah)Jawab **DUA** soalan.

2. Walaupun Malaysia masih mempunyai kebaikan bandingan dalam pengeluaran beberapa komoditi pertanian, semenjak tahun 70an kebaikan bandingan dalam pengeluaran beberapa barangan pembuatan juga telah dicapai oleh Malaysia. Jelaskan **maksud kebaikan bandingan** dan **bagaimana pindahan kebaikan bandingan** ini berlaku.
(15 markah)
3. Jelaskan bagaimana **tarif perlindungan** boleh mengubah kebaikan bandingan sesebuah negara dalam jangka panjang.
(15 markah)
4. Andaikan Negara Maju mengeksport barangan pembuatan dan Negara Membangun mengeksport barangan pertanian. Dengan bantuan rajah **keluk tawaran**, analisis kesan peningkatan permintaan Negara Maju terhadap eksport Negara Membangun dan kesan peningkatan permintaan Negara Membangun terhadap eksport Negara Maju.
(15 markah)
5. Jelaskan bagaimana pengenaan **cukai domestik** boleh mempengaruhi **perdagangan antarabangsa** sesebuah negara.
(15 markah)
6. "Pengenaan tarif akan meninggalkan kesan perlindungan dan kesan penggunaan." Setujukan anda dengan pernyataan ini? Huraikan.
(15 markah)
7. Penubuhan **kesatuan kastam** antara negara-negara ASEAN akan meningkatkan kebajikan negara ahli dalam jangka pendek dan juga dalam jangka panjang. Jelaskan.
(15 markah)

ooOoo

BAHAGIAN B (30 markah)

1999 DUA soalan

1. (12 markah)

Walaupun Malaysia adalah negara yang sedang membangun, ia telah mencapai kemajuan yang signifikan dalam sektor perindustrian. Namun demikian, sektor perindustrian masih menghadapi banyak cabaran. Sebagai contoh, sektor perindustrian masih menghadapi masalah kekurangan tenaga kerja terlatih, teknologi yang ketinggalan zaman, dan persaingan yang semakin sengit dengan negara-negara maju.
2. (12 markah)

Jelaskan bagaimana sektor perindustrian telah menyumbang kepada pembangunan negara. Sertakan contoh-contoh yang relevan.
3. (12 markah)

Analisis faktor-faktor yang mempengaruhi pertumbuhan sektor perindustrian Malaysia. Sertakan cadangan-cadangan yang relevan untuk meningkatkan prestasi sektor ini.
4. (12 markah)

Jelaskan bagaimana peranan cukai domestik boleh menyumbang kepada pembangunan antara-bangsa secara nasional.
5. (12 markah)

"Perdagangan antarabangsa akan meningkatkan taraf hidup masyarakat." Sertakan bukti-bukti yang relevan untuk menyokong pernyataan ini.
6. (12 markah)

Pembinaan kestabilan ekonomi negara ASEAN akan meningkatkan kedudukan negara-negara ini dalam jangka panjang. Sertakan bukti-bukti yang relevan untuk menyokong pernyataan ini.