
UNIVERSITI SAINS MALAYSIA

Peperiksaan Semester Kedua
Sidang Akademik 2003/2004

Februari/Mac 2004

BOI 109/4 - Biostatistik

Masa : [3 jam]

Sila pastikan bahawa kertas peperiksaan ini mengandungi **LIMA BELAS** muka surat yang bercetak sebelum anda memulakan peperiksaan ini.

Jawab LIMA daripada ENAM soalan yang diberikan, dalam Bahasa Malaysia.

Tiap-tiap soalan bernilai 20 markah.

1. Berikut ialah hasil sayur sawi (kg/plot) di Cameron Highlands yang ditanam dengan kaedah penanaman dan pengawalan perosak menurut Perladangan Biasa berbanding dengan penanaman secara Perladangan Organik:

Perladangan Biasa: 5.5, 6.4, 7.1, 5.8, 4.4, 6.0, 5.6, 6.4, 7.2, 6.6, 6.8, 7.1, 6.8, 6.4, 5.6, 7.2, 4.9, 4.9, 6.9, 4.4, 7.3, 5.7, 5.6, 4.4, 4.3, 5.8, 7.2, 6.5, 5.9, 6.7.

Perladangan Organik: 4.4, 5.3, 6.2, 4.9, 4.3, 5.1, 5.8, 4.9, 3.2, 6.5, 3.6, 5.1, 4.8, 5.4, 3.6, 4.2, 3.9, 4.9, 5.9, 4.4, 4.3, 4.4, 6.0, 5.6, 6.4, 5.2, 5.6, 5.8, 5.1, 6.8.

- (a) Kedua-dua data di atas ialah data jenis
- (b) Min hasil sayur sawi yang ditanam menurut Perladangan Biasa ialah
- (c) Median sayur sawi yang ditanam menurut Perladangan Biasa ialah
- (d) Sisihan piawai sayur sawi yang ditanam menurut Perladangan Biasa ialah
- (e) Varians sayur sawi yang ditanam menurut Perladangan Biasa ialah
- (f) Mod sayur sawi yang ditanam menurut Perladangan Biasa ialah
- (g) Berdasarkan data di Pejabat MARDI Cameron Highlands, peratus percambahan biji sawi tersebut ialah 75%. Jika anda mengecambahkan 12 biji, kebarangkalian mendapat 5 anak benih sawi ialah.....
- (h) Lakarkan histogram taburan frekuensi bagi data hasil sayur sawi yang ditanam menurut kaedah Perladangan Organik.

(20 markah)

[BOI 109/4]

2. (a) Dengan menggunakan data yang sama seperti dalam soalan No. 1, persembahkan data ini dalam satu bentuk lain yang anda anggap sesuai dan jelas.

(5 markah)

- (b) Dengan aras keertian 0.05 dan juga 0.001, apakah hasil sayur sawi yang ditanam menurut amalan perladangan biasa sama dengan hasil sayur sawi yang ditanam secara perladangan organik?

(15 markah)

3. (a) Seorang penyelidik membuat kajian sama ada ayam Belanda lebih sesuai dipelihara di kawasan beriklim lebih sejuk, iaitu di Cameron Highlands dengan membandingkan data yang diperolehi di Ipoh, sebagai berikut. Apakah penyelidik ini mempunyai alasan yang munasabah untuk mengatakan ayam Belanda lebih sesuai dipelihara di kawasan beriklim lebih sejuk pada aras keertian 0.05?

(12 markah)

No. Reban	Berat ayam Belanda (kg)	
	Cameron Highlands	Ipoh
1	3.2	3.0
2	3.3	2.5
3	3.5	3.0
4	2.7	2.5
5	2.9	2.9
6	3.1	2.1
7	3.9	1.9
8	3.3	2.8
9	3.5	3.2

3. (b) Oleh kerana tempat untuk membangun reban ayam di Cameron Highlands sangat terhad, hanya ada 7 reban sahaja (Reban 1 hingga 7) sedangkan data dari Ipoh tetap. Apakah penyelidik ini akan membuat kesimpulan yang sama?

(8 markah)

4. Data di dalam jadual berikut ialah hitungan kepadatan satu spesies serangga pada aras-aras ketinggian yang berlainan di dalam hutan.

Aras	Kepadatan serangga (bilangan /m ²)			
Kanopi pokok besar	69	53	58	41
Lapisan pokok kecil	84	51	73	66
Lapisan herba	140	121	96	82
Permukaan tanah	24	36	29	40

- (a) Gunakan data di atas untuk menguji hipotesis bahawa pada amnya kepadatan serangga itu berbeza dengan aras, iaitu serangga dalam hutan menunjukkan sesuatu taburan menegak tertentu.

(10 markah)

4. (b) Sekiranya anda dapati daripada bahagian (a) di atas bahawa kepadatan serangga itu memang berbeza dengan aras, lakukan perbandingan min kepadatan serangga dengan kaedah LSD untuk menentukan sama ada perbezaan antara satu aras dengan yang lain bererti atau tidak dari segi statistik. Daripada keputusan ini, huraikan taburan menegak serangga itu, iaitu pada aras yang mana ia suka hidup.

(10 markah)

5. Seorang ahli mikrobiologi mengkaji kesan jenis medium kultur dan dua tempoh masa ke atas pertumbuhan suatu jenis virus. Dia menggunakan enam replikat bagi eksperimen faktor 2^2 . Keputusan daripada kajian ini diberikan di bawah. Nilai-nilai di dalam kotak adalah di dalam sesuatu unit ukuran pertumbuhan virus.

Tempoh pertumbuhan	Medium 1		Medium 2	
12 jam	21	22	25	26
	23	28	24	25
	20	26	29	27
18 jam	37	39	31	34
	38	38	29	33
	35	36	30	35

- (a) Hitungkan:
- (i) Min kesan-kesan ringkas bagi faktor A dan faktor B.
 - (ii) Min kesan-kesan utama bagi faktor A dan faktor B.
 - (ii) Tindakan saling antara faktor A dan faktor B.

(6 markah)

- (b) Tunjukkan tindakan salingan antara faktor A dan faktor B secara gambarajah. Adakah tindakan antara dua faktor ini mempunyai makna praktik bagi kajian ini?

(4 markah)

- (c) Jalankan ujian statistik dengan menggunakan data yang diberikan untuk menentukan sama ada jenis medium kultur dan tempoh masa pertumbuhan memberikan kesan yang bererti terhadap pertumbuhan virus.

(10 markah)

6. Dalam satu kajian fisiologi manusia, kadar penggunaan oksigen untuk respirasi ditentukan untuk olahragawan yang dikenakan latihan pada mesin "treadmill", iaitu alat yang dipasang kederasan berlari. Data yang diperolehi adalah seperti berikut:

Penggunaan oksigen (ml/g/jam)	Kecepatan berlari (m/min)
4.9	2
6.7	4
7.5	6
7.4	8
9.0	10
10.7	12
10.9	14
11.5	16
12.2	18
14.1	20
15.4	23

[BOI 109/4]

6. (a) Sediakan plot serakan untuk menggambarkan pertalian di antara dua variabel ini. Haruskah data ini digunakan secara langsung untuk mencari pertalian linear antara penggunaan oksigen dan kecepatan berlari?
(4 markah)
- (b) Namakan variabel peramal dan variabel penindak untuk kes ini.
(2 markah)
- (c) Dapatkan pertalian linear antara dua variable ini.
(9 markah)
- (d) Hitungkan kadar penggunaan oksigen untuk olahragawan ini, iaitu ml oksigen/g/jam per m/min.
(2 markah)
- (e) Hitungkan penggunaan oksigen oleh olahragawan itu sekiranya kelajuan berlari ditetapkan pada 15 m/min.
(3 markah)

FORMULA-FORMULA PANDUAN

$$A. z = \frac{\bar{y} - u_0}{\sigma_{\bar{y}}}$$

$$B. t = \frac{(\bar{y}_1 - \bar{y}_2)}{s\sqrt{(1/n_1) + (1/n_2)}}$$

$$C. t = \frac{(\bar{y}_1 - \bar{y}_2)}{\sqrt{(s_1^2/n_1) + (s_2^2/n_2)}}$$

$$D. z = \frac{y - 0.5n}{\sqrt{0.25n}}$$

$$E. t = \frac{\bar{d}}{s_d/\sqrt{n}}$$

$$F. s = \sqrt{\frac{(n_1 - 1)s_1^2 + (n_2 - 1)s_2^2}{n_1 + n_2 - 2}}$$

$$G. |r| = \frac{(t_1 s_1^2/n_1) + (t_2 s_2^2/n_2)}{(s_1^2/n_1) + (s_2^2/n_2)}$$

Experimen bionomial

$$P(y) = \frac{n!}{y! (n - y)!} p^y q^{n-y}$$

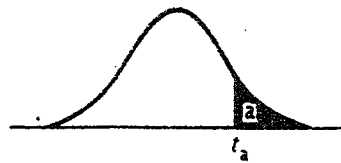
Anggaran kecerunan garis regresi linear

$$\hat{b} = \frac{n \sum x_i y_i - \sum x_i \sum y_i}{n \sum x_i^2 - (\sum x_i)^2} \quad \text{atau} \quad \hat{b} = \frac{\sum x_i y_i - \frac{\sum x_i \sum y_i}{n}}{\sum x_i^2 - \frac{(\sum x_i)^2}{n}}$$

Anggaran pekali korelasi Pearson

$$r = \frac{n \sum x_i y_i - \sum x_i \sum y_i}{\sqrt{[n \sum x_i^2 - (\sum x_i)^2][n \sum y_i^2 - (\sum y_i)^2]}}$$

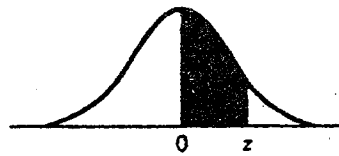
Jadual Titik Peratusan Taburan t



df	$\alpha = .10$	$\alpha = .05$	$\alpha = .025$	$\alpha = .010$	$\alpha = .005$
1	3.078	6.314	12.706	31.821	63.657
2	1.886	2.920	4.303	6.965	9.925
3	1.638	2.353	3.182	4.541	5.841
4	1.533	2.132	2.776	3.747	4.604
5	1.476	2.015	2.571	3.365	4.032
6	1.440	1.943	2.447	3.143	3.707
7	1.415	1.895	2.365	2.998	3.499
8	1.397	1.860	2.306	2.896	3.355
9	1.383	1.833	2.262	2.821	3.250
10	1.372	1.812	2.228	2.764	3.169
11	1.363	1.796	2.201	2.718	3.106
12	1.356	1.782	2.179	2.681	3.055
13	1.350	1.771	2.160	2.650	3.012
14	1.345	1.761	2.145	2.624	2.977
15	1.341	1.753	2.131	2.602	2.947
16	1.337	1.746	2.120	2.583	2.921
17	1.333	1.740	2.110	2.567	2.898
18	1.330	1.734	2.101	2.552	2.878
19	1.328	1.729	2.093	2.539	2.861
20	1.325	1.725	2.086	2.528	2.845
21	1.323	1.721	2.080	2.518	2.831
22	1.321	1.717	2.074	2.508	2.819
23	1.319	1.714	2.069	2.500	2.807
24	1.318	1.711	2.064	2.492	2.797
25	1.316	1.708	2.060	2.485	2.787
26	1.315	1.706	2.056	2.479	2.779
27	1.314	1.703	2.052	2.473	2.771
28	1.313	1.701	2.048	2.467	2.763
29	1.311	1.699	2.045	2.462	2.756
inf.	1.282	1.645	1.960	2.326	2.576

From "Table of Percentage Points of the t-distribution." Computed by Maxine Merrington, *Biometrika*, Vol. 32 (1941), p. 300. Reproduced by permission of the *Biometrika* Trustees.

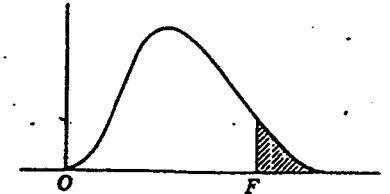
Jadual Luas Lengkong Normal



z	.00	.01	.02	.03	.04	.05	.06	.07	.08	.09
0.0	.0000	.0040	.0080	.0120	.0160	.0199	.0239	.0279	.0319	.0359
0.1	.0398	.0438	.0478	.0517	.0557	.0596	.0636	.0675	.0714	.0753
0.2	.0793	.0832	.0871	.0910	.0948	.0987	.1026	.1064	.1103	.1141
0.3	.1179	.1217	.1255	.1293	.1331	.1368	.1406	.1443	.1480	.1517
0.4	.1554	.1591	.1628	.1664	.1700	.1736	.1772	.1808	.1844	.1879
0.5	.1915	.1950	.1985	.2019	.2054	.2088	.2123	.2157	.2190	.2224
0.6	.2257	.2291	.2324	.2357	.2389	.2422	.2454	.2486	.2517	.2549
0.7	.2580	.2611	.2642	.2673	.2704	.2734	.2764	.2794	.2823	.2852
0.8	.2881	.2910	.2939	.2967	.2995	.3023	.3051	.3078	.3106	.3133
0.9	.3159	.3186	.3212	.3238	.3264	.3289	.3315	.3340	.3365	.3389
1.0	.3413	.3438	.3461	.3485	.3508	.3531	.3554	.3577	.3599	.3621
1.1	.3643	.3665	.3686	.3708	.3729	.3749	.3770	.3790	.3810	.3830
1.2	.3849	.3869	.3888	.3907	.3925	.3944	.3962	.3980	.3997	.4015
1.3	.4032	.4049	.4066	.4082	.4099	.4115	.4131	.4147	.4162	.4177
1.4	.4192	.4207	.4222	.4236	.4251	.4265	.4279	.4292	.4306	.4319
1.5	.4332	.4345	.4357	.4370	.4382	.4394	.4406	.4418	.4429	.4441
1.6	.4452	.4463	.4474	.4484	.4495	.4505	.4515	.4525	.4535	.4545
1.7	.4554	.4564	.4573	.4582	.4591	.4599	.4608	.4616	.4625	.4633
1.8	.4641	.4649	.4656	.4664	.4671	.4678	.4686	.4693	.4699	.4706
1.9	.4713	.4719	.4726	.4732	.4738	.4744	.4750	.4756	.4761	.4767
2.0	.4772	.4778	.4783	.4788	.4793	.4798	.4803	.4808	.4812	.4817
2.1	.4821	.4826	.4830	.4834	.4838	.4842	.4846	.4850	.4854	.4857
2.2	.4861	.4864	.4868	.4871	.4875	.4878	.4881	.4884	.4887	.4890
2.3	.4893	.4896	.4898	.4901	.4904	.4906	.4909	.4911	.4913	.4916
2.4	.4918	.4920	.4922	.4925	.4927	.4929	.4931	.4932	.4934	.4936
2.5	.4938	.4940	.4941	.4943	.4945	.4946	.4948	.4949	.4951	.4952
2.6	.4953	.4955	.4956	.4957	.4959	.4960	.4961	.4962	.4963	.4964
2.7	.4965	.4966	.4967	.4968	.4969	.4970	.4971	.4972	.4973	.4974
2.8	.4974	.4975	.4976	.4977	.4977	.4978	.4979	.4979	.4980	.4981
2.9	.4981	.4982	.4982	.4983	.4984	.4984	.4985	.4985	.4986	.4986
3.0	.4987	.4987	.4987	.4988	.4988	.4989	.4989	.4989	.4990	.4990

This table is abridged from Table I of *Statistical Tables and Formulas*, by A. Hald (New York: John Wiley & Sons, 1952). Reproduced by permission of A. Hald and the publishers, John Wiley & Sons.

Nilai-nilai Penting Untuk Taburan F Bagi Aras Keertian 5% (Cetakan Biasan) Dan 1% (Cetakan Gelap)



Darjah Kebebasan untuk pembawa (df_2)	Darjah Kebebasan Untuk Pengatas (df_1)																							
	1	2	3	4	5	6	7	8	9	10	11	12	14	16	20	24	30	40	50	75	100	200	500	∞
1	161 4052	200 4999	216 5403	225 5625	230 5764	234 5859	237 5928	239 5981	241 6022	242 6056	243 6082	244 6106	245 6142	246 6169	248 6208	249 6234	250 6258	251 6286	252 6302	253 6323	253 6334	254 6352	254 6361	254 6366
2	18.51 98.49	19.00 99.01	19.16 99.17	19.25 99.25	19.30 99.30	19.33 99.33	19.36 99.34	19.37 99.36	19.38 99.38	19.39 99.40	19.40 99.41	19.41 99.42	19.42 99.43	19.43 99.44	19.44 99.45	19.45 99.46	19.46 99.47	19.47 99.48	19.47 99.48	19.48 99.49	19.49 99.49	19.49 99.49	19.50 99.50	19.50 99.50
3	10.13 34.12	9.55 30.81	9.28 29.46	9.12 28.71	9.01 28.24	8.94 27.91	8.88 27.67	8.84 27.49	8.81 27.34	8.78 27.23	8.76 27.13	8.74 27.05	8.71 26.92	8.69 26.83	8.66 26.69	8.64 26.60	8.62 26.50	8.60 26.41	8.58 26.30	8.57 26.27	8.56 26.23	8.54 26.18	8.54 26.14	8.53 26.12
4	7.71 21.20	6.94 18.00	6.59 16.69	6.39 15.98	6.26 15.52	6.16 15.21	6.09 14.98	6.04 14.80	6.00 14.66	5.96 14.54	5.93 14.45	5.91 14.37	5.87 14.24	5.84 14.15	5.80 14.02	5.77 13.93	5.74 13.83	5.71 13.74	5.70 13.69	5.68 13.61	5.66 13.57	5.65 13.52	5.64 13.48	5.63 13.46
5	6.61 16.26	5.79 13.27	5.41 12.06	5.19 11.39	5.05 10.97	4.95 10.67	4.88 10.45	4.82 10.27	4.78 10.15	4.74 10.05	4.70 9.96	4.68 9.89	4.64 9.77	4.60 9.68	4.56 9.55	4.53 9.47	4.50 9.38	4.46 9.29	4.44 9.24	4.42 9.17	4.40 9.13	4.38 9.07	4.37 9.04	4.36 9.01
6	5.99 13.74	5.14 10.92	4.76 9.78	4.53 9.15	4.39 8.75	4.28 8.47	4.21 8.26	4.15 8.10	4.10 7.98	4.06 7.87	4.03 7.79	4.00 7.72	3.96 7.60	3.92 7.52	3.87 7.39	3.84 7.31	3.81 7.23	3.77 7.14	3.75 7.09	3.72 7.02	3.71 6.99	3.69 6.94	3.68 6.94	3.67 6.88
7	5.59 12.25	4.74 9.55	4.35 8.45	4.12 7.85	3.97 7.46	3.87 7.19	3.79 7.00	3.73 6.84	3.68 6.71	3.63 6.62	3.60 6.54	3.57 6.47	3.52 6.35	3.49 6.27	3.44 6.15	3.41 6.07	3.38 5.98	3.34 5.90	3.32 5.85	3.29 5.78	3.28 5.75	3.25 5.70	3.24 5.67	3.23 5.65
8	5.32 11.26	4.46 8.65	4.07 7.59	3.84 7.01	3.69 6.63	3.58 6.37	3.50 6.19	3.44 6.03	3.39 5.91	3.34 5.82	3.31 5.74	3.28 5.67	3.23 5.56	3.20 5.48	3.15 5.36	3.12 5.28	3.08 5.20	3.05 5.11	3.03 5.06	3.00 5.00	2.98 4.96	2.96 4.91	2.94 4.88	2.93 4.86
9	5.12 10.56	4.26 8.02	3.86 6.99	3.63 6.42	3.48 6.06	3.37 5.80	3.29 5.62	3.23 5.47	3.18 5.35	3.13 5.26	3.10 5.18	3.07 5.11	3.02 5.00	2.98 4.92	2.93 4.80	2.90 4.73	2.86 4.64	2.82 4.56	2.80 4.51	2.77 4.45	2.76 4.41	2.73 4.36	2.72 4.33	2.71 4.31
10	4.96 10.04	4.10 7.56	3.71 6.55	3.48 5.99	3.33 5.64	3.22 5.39	3.14 5.21	3.07 5.06	3.02 4.95	2.97 4.85	2.94 4.78	2.91 4.71	2.86 4.60	2.82 4.52	2.77 4.41	2.74 4.33	2.70 4.25	2.67 4.17	2.64 4.12	2.61 4.05	2.59 4.01	2.56 3.96	2.55 3.93	2.54 3.91
11	4.84 9.65	3.98 7.20	3.59 6.22	3.36 5.67	3.20 5.32	3.09 5.07	3.01 4.88	2.95 4.74	2.90 4.63	2.86 4.54	2.82 4.46	2.79 4.40	2.74 4.29	2.70 4.21	2.65 4.10	2.61 4.02	2.57 3.94	2.53 3.86	2.50 3.80	2.47 3.74	2.45 3.70	2.42 3.65	2.41 3.62	2.40 3.60
12	4.75 9.33	3.88 6.93	3.49 5.95	3.26 5.41	3.11 5.06	3.00 4.82	2.92 4.65	2.85 4.50	2.80 4.39	2.76 4.30	2.72 4.22	2.69 4.16	2.64 4.05	2.60 3.98	2.54 3.86	2.50 3.78	2.46 3.70	2.42 3.61	2.40 3.56	2.36 3.49	2.35 3.46	2.32 3.41	2.31 3.38	2.30 3.36
13	4.67 9.07	3.80 6.70	3.41 5.74	3.18 5.20	3.02 4.86	2.92 4.62	2.84 4.44	2.77 4.30	2.72 4.19	2.67 4.10	2.63 4.02	2.60 3.96	2.55 3.85	2.51 3.78	2.46 3.67	2.42 3.59	2.38 3.51	2.34 3.42	2.32 3.37	2.28 3.30	2.26 3.27	2.24 3.21	2.22 3.18	2.21 3.15
14	4.60 8.86	3.74 6.51	3.34 5.56	3.11 5.03	2.96 4.69	2.85 4.46	2.77 4.28	2.70 4.14	2.65 4.03	2.56 3.94	2.52 3.86	2.48 3.80	2.43 3.70	2.39 3.64	2.34 3.51	2.29 3.43	2.25 3.34	2.22 3.26	2.24 3.21	2.21 3.14	2.19 3.11	2.16 3.06	2.14 3.02	2.13 3.00
15	4.54 8.68	3.68 6.36	3.29 5.42	3.06 4.89	2.90 4.56	2.79 4.32	2.70 4.14	2.64 4.00	2.59 3.89	2.55 3.80	2.51 3.73	2.48 3.67	2.43 3.56	2.39 3.48	2.33 3.36	2.29 3.29	2.25 3.20	2.21 3.12	2.18 3.07	2.15 3.00	2.12 2.97	2.08 2.92	2.07 2.89	2.07 2.87
16	4.49 8.53	3.63 6.23	3.24 5.29	3.01 4.77	2.85 4.44	2.74 4.20	2.66 4.03	2.59 3.89	2.54 3.78	2.49 3.69	2.45 3.61	2.42 3.55	2.37 3.45	2.33 3.37	2.28 3.25	2.24 3.18	2.20 3.10	2.16 3.01	2.13 2.96	2.09 2.89	2.07 2.86	2.04 2.80	2.02 2.77	2.01 2.75
17	4.45 8.40	3.59 6.11	3.20 5.18	2.96 4.67	2.81 4.34	2.70 4.10	2.62 3.93	2.55 3.79	2.50 3.68	2.45 3.59	2.41 3.51	2.38 3.45	2.33 3.35	2.29 3.27	2.23 3.16	2.19 3.08	2.15 3.00	2.11 2.92	2.08 2.86	2.04 2.79	2.02 2.76	1.99 2.70	1.97 2.67	1.95 2.65
18	4.41 8.28	3.55 6.01	3.16 5.09	2.93 4.58	2.77 4.25	2.66 4.01	2.58 3.85	2.51 3.71	2.46 3.60	2.41 3.51	2.37 3.44	2.34 3.37	2.29 3.27	2.25 3.19	2.19 3.07	2.15 3.00	2.11 2.91	2.07 2.83	2.04 2.78	2.00 2.71	1.98 2.68	1.95 2.62	1.93 2.59	1.92 2.57
19	4.38 8.18	3.52 5.93	3.13 5.01	2.90 4.50	2.74 4.17	2.63 3.94	2.55 3.77	2.48 3.63	2.43 3.52	2.38 3.43	2.34 3.36	2.31 3.30	2.26 3.19	2.21 3.12	2.15 3.00	2.11 2.92	2.07 2.84	2.02 2.76	1.96 2.70	1.96 2.63	1.94 2.60	1.91 2.54	1.89 2.51	1.88 2.49
20	4.35 8.10	3.49 5.85	3.10 4.94	2.87 4.43	2.71 4.10	2.60 3.87	2.52 3.71	2.45 3.56	2.40 3.45	2.35 3.37	2.31 3.30	2.28 3.23	2.23 3.13	2.18 3.05	2.12 2.94	2.08 2.86	2.04 2.77	1.99 2.69	1.96 2.63	1.92 2.56	1.90 2.53	1.87 2.47	1.85 2.44	1.84 2.42
21	4.32 8.02	3.47 5.78	3.07 4.87	2.84 4.37	2.68 4.04	2.57 3.81	2.49 3.65	2.42 3.51	2.37 3.40	2.32 3.31	2.28 3.24	2.25 3.17	2.20 3.07	2.15 2.99	2.09 2.88	2.05 2.80	2.00 2.72	1.96 2.63	1.93 2.58	1.89 2.51	1.87 2.47	1.84 2.42	1.82 2.38	1.81 2.36
22	4.30 7.94	3.44 5.72	3.05 4.82	2.82 4.31	2.66 3.99	2.55 3.76	2.47 3.59	2.40 3.45	2.35 3.35	2.30 3.26	2.26 3.18	2.23 3.12	2.18 3.02	2.13 2.94	2.07 2.83	2.03 2.75	1.98 2.67	1.93 2.58	1.91 2.53	1.87 2.46	1.84 2.42	1.81 2.37	1.80 2.33	1.79 2.31
23	4.28 7.88	3.42 5.66	3.03 4.76	2.80 4.26	2.64 3.94	2.53 3.71	2.45 3.54	2.38 3.41	2.32 3.30	2.28 3.21	2.24 3.14	2.20 3.07	2.14 2.97	2.10 2.89	2.04 2.78	2.00 2.70	1.96 2.62	1.91 2.53	1.88 2.48	1.84 2.41	1.82 2.37	1.79 2.32	1.77 2.28	1.75 2.26

Jadual Titik Peratusan Ujian Julat Berganda Baru Duncan

r = number of ordered steps between means

Error	df	α	2	3	4	5	6	7	8	9	10	12	14	16	18	20
1	.05	18.0	18.0	18.0	18.0	18.0	18.0	18.0	18.0	18.0	18.0	18.0	18.0	18.0	18.0	18.0
	.01	90.0	90.0	90.0	90.0	90.0	90.0	90.0	90.0	90.0	90.0	90.0	90.0	90.0	90.0	90.0
2	.05	6.09	6.09	6.09	6.09	6.09	6.09	6.09	6.09	6.09	6.09	6.09	6.09	6.09	6.09	6.09
	.01	14.0	14.0	14.0	14.0	14.0	14.0	14.0	14.0	14.0	14.0	14.0	14.0	14.0	14.0	14.0
3	.05	4.50	4.50	4.50	4.50	4.50	4.50	4.50	4.50	4.50	4.50	4.50	4.50	4.50	4.50	4.50
	.01	8.26	8.5	8.6	8.7	8.8	8.9	8.9	9.0	9.0	9.0	9.0	9.1	9.2	9.3	9.3
4	.05	3.93	4.01	4.02	4.02	4.02	4.02	4.02	4.02	4.02	4.02	4.02	4.02	4.02	4.02	4.02
	.01	6.51	6.8	6.9	7.0	7.1	7.1	7.2	7.2	7.3	7.3	7.3	7.4	7.4	7.5	7.5
5	.05	3.64	3.74	3.79	3.83	3.83	3.83	3.83	3.83	3.83	3.83	3.83	3.83	3.83	3.83	3.83
	.01	5.70	5.96	6.11	6.18	6.26	6.33	6.40	6.44	6.5	6.6	6.6	6.6	6.7	6.7	6.8
6	.05	3.46	3.58	3.64	3.68	3.68	3.68	3.68	3.68	3.68	3.68	3.68	3.68	3.68	3.68	3.68
	.01	5.24	5.51	5.65	5.73	5.81	5.88	5.95	6.00	6.0	6.1	6.2	6.2	6.3	6.3	6.3
7	.05	3.35	3.47	3.54	3.58	3.60	3.61	3.61	3.61	3.61	3.61	3.61	3.61	3.61	3.61	3.61
	.01	4.95	5.22	5.37	5.45	5.53	5.61	5.69	5.73	5.8	5.8	5.8	5.9	5.9	6.0	6.0
8	.05	3.26	3.39	3.47	3.52	3.55	3.56	3.56	3.56	3.56	3.56	3.56	3.56	3.56	3.56	3.56
	.01	4.74	5.00	5.14	5.23	5.32	5.40	5.47	5.51	5.5	5.6	5.7	5.7	5.7	5.8	5.8
9	.05	3.20	3.34	3.41	3.47	3.50	3.52	3.52	3.52	3.52	3.52	3.52	3.52	3.52	3.52	3.52
	.01	4.60	4.86	4.99	5.08	5.17	5.25	5.32	5.36	5.4	5.5	5.5	5.6	5.6	5.7	5.7
10	.05	3.15	3.30	3.37	3.43	3.46	3.47	3.47	3.47	3.47	3.47	3.47	3.47	3.47	3.47	3.48
	.01	4.48	4.73	4.88	4.96	5.06	5.13	5.20	5.24	5.28	5.36	5.42	5.48	5.54	5.55	5.55
11	.05	3.11	3.27	3.35	3.39	3.43	3.44	3.45	3.46	3.46	3.46	3.46	3.46	3.46	3.47	3.48
	.01	4.39	4.63	4.77	4.86	4.94	5.01	5.06	5.12	5.15	5.24	5.28	5.34	5.38	5.39	5.39
12	.05	3.08	3.23	3.33	3.36	3.40	3.42	3.44	3.44	3.46	3.46	3.46	3.46	3.46	3.47	3.48
	.01	4.32	4.55	4.68	4.76	4.84	4.92	4.96	5.02	5.07	5.13	5.17	5.22	5.23	5.26	5.26
13	.05	3.06	3.21	3.30	3.35	3.38	3.41	3.42	3.44	3.45	3.45	3.46	3.46	3.46	3.47	3.47
	.01	4.26	4.48	4.62	4.69	4.74	4.84	4.88	4.94	4.98	5.04	5.08	5.13	5.14	5.15	5.15
14	.05	3.03	3.18	3.27	3.33	3.37	3.39	3.41	3.42	3.44	3.45	3.46	3.46	3.46	3.47	3.47
	.01	4.21	4.42	4.55	4.63	4.70	4.78	4.83	4.87	4.91	4.96	5.00	5.04	5.06	5.07	5.07
15	.05	3.01	3.16	3.25	3.31	3.36	3.38	3.40	3.42	3.43	3.44	3.45	3.46	3.46	3.47	3.47
	.01	4.17	4.37	4.50	4.58	4.64	4.72	4.77	4.81	4.84	4.90	4.94	4.97	4.99	5.00	5.00
16	.05	3.00	3.15	3.23	3.30	3.34	3.37	3.39	3.41	3.43	3.44	3.45	3.46	3.46	3.47	3.47
	.01	4.13	4.34	4.45	4.54	4.60	4.67	4.72	4.76	4.79	4.84	4.88	4.91	4.93	4.94	4.94
17	.05	2.98	3.13	3.22	3.28	3.33	3.36	3.38	3.40	3.42	3.44	3.45	3.46	3.46	3.47	3.47
	.01	4.10	4.30	4.41	4.50	4.56	4.63	4.68	4.72	4.75	4.80	4.83	4.86	4.88	4.89	4.89
18	.05	2.97	3.12	3.21	3.27	3.32	3.35	3.37	3.39	3.41	3.43	3.45	3.46	3.47	3.47	3.47
	.01	4.07	4.27	4.38	4.46	4.53	4.59	4.64	4.68	4.71	4.76	4.79	4.82	4.84	4.85	4.85
19	.05	2.96	3.11	3.19	3.26	3.31	3.35	3.37	3.39	3.41	3.43	3.44	3.46	3.46	3.47	3.47
	.01	4.05	4.24	4.35	4.43	4.50	4.56	4.61	4.64	4.67	4.72	4.76	4.79	4.81	4.82	4.82
20	.05	2.95	3.10	3.18	3.25	3.30	3.34	3.36	3.38	3.40	3.43	3.44	3.46	3.46	3.47	3.47
	.01	4.02	4.22	4.33	4.40	4.47	4.53	4.58	4.61	4.65	4.69	4.73	4.76	4.78	4.79	4.79
22	.05	2.93	3.08	3.17	3.24	3.29	3.32	3.35	3.37	3.39	3.42	3.44	3.45	3.46	3.47	3.47
	.01	3.99	4.17	4.28	4.36	4.42	4.48	4.53	4.57	4.60	4.65	4.68	4.71	4.74	4.75	4.75
24	.05	2.92	3.07	3.15	3.22	3.28	3.31	3.34	3.37	3.38	3.41	3.44	3.45	3.46	3.47	3.47
	.01	3.96	4.14	4.24	4.33	4.39	4.44	4.49	4.53	4.57	4.62	4.64	4.67	4.70	4.72	4.72
26	.05	2.91	3.06	3.14	3.21	3.27	3.30	3.34	3.36	3.38	3.41	3.43	3.45	3.46	3.47	3.47
	.01	3.93	4.11	4.21	4.30	4.36	4.41	4.46	4.50	4.53	4.58	4.62	4.65	4.67	4.69	4.69
28	.05	2.90	3.04	3.13	3.20	3.26	3.30	3.33	3.35	3.37	3.40	3.43	3.45	3.46	3.47	3.47
	.01	3.91	3.08	4.18	4.28	4.34	4.39	4.43	4.47	4.51	4.56	4.60	4.62	4.65	4.67	4.67
30	.05	2.89	3.04	3.12	3.20	3.25	3.29	3.32	3.35	3.37	3.40	3.43	3.44	3.46	3.47	3.47
	.01	3.89	4.06	4.16	4.22	4.32	4.36	4.41	4.45	4.48	4.54	4.58	4.61	4.63	4.65	4.65
40	.05	2.86	3.01	3.10	3.17	3.22	3.27	3.30	3.33	3.35	3.39	3.42	3.44	3.46	3.47	3.47
	.01	3.82	3.99	4.10	4.17	4.24	4.30	4.34	4.37	4.41	4.46	4.51	4.54	4.57	4.59	4.59
60	.05	2.83	2.98	3.08	3.14	3.20	3.24	3.28	3.31	3.33	3.37	3.40	3.43	3.45	3.47	3.47
	.01	3.76	3.92	4.03	4.12	4.17	4.23	4.27	4.31	4.34	4.39	4.44	4.47	4.50	4.53	4.53
100	.05	2.80	2.95	3.05	3.12	3.18	3.22	3.26	3.29	3.32	3.36	3.40	3.42	3.45	3.47	3.47
	.01	3.71	3.86	3.93	4.06	4.11	4.17	4.21	4.25	4.29	4.35	4.38	4.42	4.45	4.48	4.48
∞	.05	2.77	2.92	3.02	3.09	3.15	3.19	3.23	3.26	3.29	3.34	3.38	3.41	3.44	3.47	3.47
	.01	3.64	3.80	3.90	3.98	4.04	4.09	4.14	4.17	4.20	4.26	4.31	4.34	4.38	4.41	4.41

Reproduced from: D.B. Duncan, Multiple Range and Multiple *F* Tests, *Biometrics*, 11: 1-42, 1955. With permission from the Biometric Society and the author.

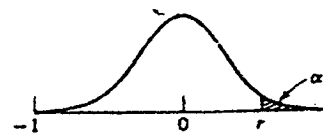
UPPER 5% PERCENTAGE POINTS, Q , IN THE STUDENTIZED RANGE*

Degrees of Freedom, f	Number of Treatments, a																			
	2	3	4	5	6	7	8	9	10	11	12	13	14	15	16	17	18	19	20	
1	18.0	27.0	32.8	37.2	40.5	43.1	45.4	47.3	49.1	50.6	51.9	53.2	54.3	55.4	56.3	57.2	58.0	58.8	59.6	
2	6.09	8.33	9.80	10.89	11.73	12.43	13.03	13.54	13.99	14.39	14.75	15.08	15.38	15.65	15.91	16.14	16.36	16.57	16.77	
3	4.50	5.91	6.83	7.51	8.04	8.47	8.85	9.18	9.46	9.72	9.95	10.16	10.35	10.52	10.69	10.84	10.98	11.12	11.24	
4	3.93	5.04	5.76	6.29	6.71	7.06	7.35	7.60	7.83	8.03	8.21	8.37	8.52	8.67	8.80	8.92	9.03	9.14	9.24	
5	3.64	4.60	5.22	5.67	6.03	6.33	6.58	6.80	6.99	7.17	7.32	7.47	7.60	7.72	7.83	7.93	8.03	8.12	8.21	
6	3.46	4.34	4.90	5.31	5.63	5.89	6.12	6.32	6.49	6.65	6.79	6.92	7.04	7.14	7.24	7.34	7.43	7.51	7.59	
7	3.34	4.16	4.68	5.06	5.35	5.59	5.80	5.99	6.15	6.29	6.42	6.54	6.65	6.75	6.84	6.93	7.01	7.08	7.16	
8	3.26	4.04	4.53	4.89	5.17	5.40	5.60	5.77	5.92	6.05	6.18	6.29	6.39	6.48	6.57	6.65	6.73	6.80	6.87	
9	3.20	3.95	4.42	4.76	5.02	5.24	5.43	5.60	5.74	5.87	5.98	6.09	6.19	6.28	6.36	6.44	6.51	6.58	6.65	
10	3.15	3.88	4.33	4.66	4.91	5.12	5.30	5.46	5.60	5.72	5.83	5.93	6.03	6.12	6.20	6.27	6.34	6.41	6.47	
11	3.11	3.82	4.26	4.58	4.82	5.03	5.20	5.35	5.49	5.61	5.71	5.81	5.90	5.98	6.06	6.14	6.20	6.27	6.33	
12	3.08	3.77	4.20	4.51	4.75	4.95	5.12	5.27	5.40	5.51	5.61	5.71	5.80	5.88	5.95	6.02	6.09	6.15	6.21	
13	3.06	3.73	4.15	4.46	4.69	4.88	5.05	5.19	5.32	5.43	5.53	5.63	5.71	5.79	5.86	5.93	6.00	6.06	6.11	
14	3.03	3.70	4.11	4.41	4.64	4.83	4.99	5.13	5.25	5.36	5.46	5.56	5.64	5.72	5.79	5.86	5.92	5.98	6.03	
15	3.01	3.67	4.08	4.37	4.59	4.78	4.94	5.08	5.20	5.31	5.40	5.49	5.57	5.65	5.72	5.79	5.85	5.91	5.96	
16	3.00	3.65	4.05	4.34	4.56	4.74	4.90	5.03	5.15	5.26	5.35	5.44	5.52	5.59	5.66	5.73	5.79	5.84	5.90	
17	2.98	3.62	4.02	4.31	4.52	4.70	4.86	4.99	5.11	5.21	5.31	5.39	5.47	5.55	5.61	5.68	5.74	5.79	5.84	
18	2.97	3.61	4.00	4.28	4.49	4.67	4.83	4.96	5.07	5.17	5.27	5.35	5.43	5.50	5.57	5.63	5.69	5.74	5.79	
19	2.96	3.59	3.98	4.26	4.47	4.64	4.79	4.92	5.04	5.14	5.23	5.32	5.39	5.46	5.53	5.59	5.65	5.70	5.75	
20	2.95	3.58	3.96	4.24	4.45	4.62	4.77	4.90	5.01	5.11	5.20	5.28	5.36	5.43	5.50	5.56	5.61	5.66	5.71	
24	2.92	3.53	3.90	4.17	4.37	4.54	4.68	4.81	4.92	5.01	5.10	5.18	5.25	5.32	5.38	5.44	5.50	5.55	5.59	
30	2.89	3.48	3.84	4.11	4.30	4.46	4.60	4.72	4.83	4.92	5.00	5.08	5.15	5.21	5.27	5.33	5.38	5.43	5.48	
40	2.86	3.44	3.79	4.04	4.23	4.39	4.52	4.63	4.74	4.82	4.90	4.98	5.05	5.11	5.17	5.22	5.27	5.32	5.36	
60	2.83	3.40	3.74	3.98	4.16	4.31	4.44	4.55	4.65	4.73	4.81	4.88	4.94	5.00	5.06	5.11	5.15	5.20	5.24	
120	2.80	3.36	3.69	3.92	4.10	4.24	4.36	4.47	4.56	4.64	4.71	4.78	4.84	4.90	4.95	5.00	5.04	5.09	5.13	
∞	2.77	3.32	3.63	3.86	4.03	4.17	4.29	4.39	4.47	4.55	4.62	4.68	4.74	4.80	4.84	4.89	4.93	4.97	5.01	

* Reprinted from *Biometrika*, 39:192 (1952) by permission of the author, Joyce M. May, and the editor.

Nilai-Nilai Genting Untuk Pekali Korelasi Pearson, r

Untuk ujian dua hujung, α ialah dua kali nilai aras keertian yang tercatat di pangkal sifir setiap lajur untuk nilai-nilai genting bagi r . Misalnya bagi $\alpha = 0.05$, pilih lajur untuk 0.025.



$n \backslash \alpha$	0.05	0.025	0.010	0.005
5	0.805	0.878	0.934	0.959
6	0.729	0.811	0.882	0.917
7	0.669	0.754	0.833	0.875
8	0.621	0.707	0.789	0.834
9	0.582	0.666	0.750	0.798
10	0.549	0.632	0.716	0.765
11	0.521	0.602	0.685	0.735
12	0.497	0.576	0.658	0.708
13	0.476	0.553	0.634	0.684
14	0.457	0.532	0.612	0.661
15	0.441	0.514	0.592	0.641
16	0.426	0.497	0.574	0.623

$n \backslash \alpha$	0.05	0.025	0.010	0.005
17	0.412	0.482	0.558	0.606
18	0.400	0.468	0.542	0.590
19	0.389	0.456	0.528	0.575
20	0.378	0.444	0.516	0.561
25	0.337	0.396	0.462	0.505
30	0.306	0.361	0.423	0.463
40	0.264	0.312	0.366	0.402
50	0.235	0.279	0.328	0.361
60	0.214	0.254	0.300	0.330
80	0.185	0.220	0.260	0.286
100	0.165	0.196	0.232	0.256