
UNIVERSITI SAINS MALAYSIA

Peperiksaan Kursus Semester Cuti Panjang
Sidang Akademik 2002/2003

April 2003

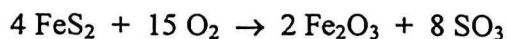
IEK 101 – PENGHITUNGAN PROSES KIMIA

Masa : 3 jam

Sila pastikan bahawa kertas peperiksaan ini mengandungi DUABELAS mukasurat (termasuk TUJUH keping Lampiran) yang bercetak sebelum anda memulakan peperiksaan ini.

Jawab LIMA (5) soalan. Semua soalan mesti dijawab dalam Bahasa Malaysia.

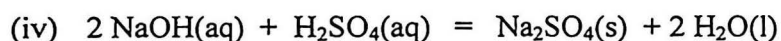
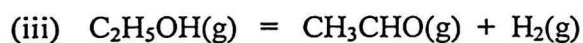
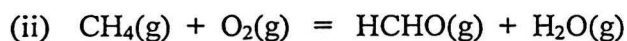
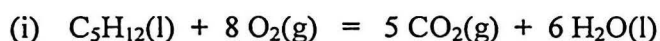
1. (a) Menurut tindak balas berikut:



- (i) Hitungkan berat pirit (FeS_2) dan berat oksigen dikehendaki dan berat Fe_2O_3 terbentuk untuk menghasilkan 100 kg SO_3 ;
- (ii) Apakah isipadu SO_3 akan menempati pada keadaan standard (STP) ?
Isipadu suatu gas pada STP ialah 22.414 L/g-mol.

(50 markah)

(b) Kirakan haba tindak balas kimia untuk tindak balas berikut:



Diberi: $\text{CO}_2(\text{g})$, $\Delta H_f = -393.5 \text{ kJ}$; $\text{H}_2\text{O}(\text{l})$, $\Delta H_f = -285.84 \text{ kJ}$
 $\text{C}_5\text{H}_{12}(\text{l})$, $\Delta H_f = -173.0 \text{ kJ}$; $\text{CH}_4(\text{g})$, $\Delta H_f = -74.85 \text{ kJ}$
 $\text{HCHO}(\text{g})$, $\Delta H_f = -115.9 \text{ kJ}$; $\text{H}_2\text{O}(\text{g})$, $\Delta H_f = -241.83 \text{ kJ}$
 $\text{C}_2\text{H}_5\text{OH}(\text{g})$, $\Delta H_c = -1409.25 \text{ kJ}$; $\text{CH}_3\text{CHO}(\text{g})$, $\Delta H_c = -1192.4 \text{ kJ}$
 $\text{H}_2(\text{g})$, $\Delta H_c = -285.84 \text{ kJ}$; $\text{NaOH}(\text{aq})$, $\Delta H_f = -469.4 \text{ kJ}$
 $\text{H}_2\text{SO}_4(\text{aq})$, $\Delta H_f = -907.51 \text{ kJ}$; $\text{Na}_2\text{SO}_4(\text{s})$, $\Delta H_f = -1384.5 \text{ kJ}$

(50 markah)

2. Suatu gas pengeluar daripada arang kok mempunyai komposisi berikut mengikut mol:

CO	38.0 %
CO ₂	3.0 %
<u>N₂</u>	<u>59.0 %</u>
	100.0 %

Campuran gas ini akan dibakar dengan oksigen daripada udara yang dibekalkan 25 % kelebihan. Jika proses pembakaran adalah 90 % sempurna, hitungkan berat dan komposisi dalam % isipadu gas-gas yang meninggalkan kamar pembakaran bagi setiap 100 kg-mol gas pengeluar yang dibakar.

(100 markah)

3. (a) Suatu campuran gas yang mengandungi 25 % mol CO₂ dan 75 % NH₃ akan diserapkan oleh searus larutan asid untuk menyingkirkan ammonia. Campuran gas yang meninggalkan alat penyerap itu mengandungi 37.5 % NH₃. Anggapkan bahawa larutan asid tersebut hanya dapat menyerapkan ammonia. Apakah peratusan ammonia asal telah disingkirkan ?

(50 markah)

- (b) Suatu larutan yang berkepekatan 40 % mol etilena diklorida di dalam toluene adalah disuapkan pada kadar 100 kg-mol/h ke dalam satu turus penyulingan. Dalam keadaan mantap, hasil atas proses penyulingan ini mengandungi 95 % mol etilena diklorida dan hasil bawah mengandungi 10 % mol etilena diklorida. Kirakan kadar aliran untuk kedua-dua arus hasil atas dan hasil bawah.

(50 markah)

4. Sulfur dioksida (SO_2) dibakar dengan 100 % kelebihan udara. Proses pembakaran tersebut adalah 80 % sempurna. Gas-gas memasuki reaktor pada 300°C dan keluar pada 500°C . Kirakan haba, dalam kcal, yang terlibat per kg-mol SO_2 dibakar.



(100 markah)

5. (a) Penuhkan jadual berikut bagi air. Lukis semula jadual ini dalam kertas jawapan anda.

Suhu($^\circ\text{C}$)	Tekanan (kPa)	h (kJ/kg)	x (kualiti)	Penerangan Fasa
250		1500		
	100		0	
300		3000		

(40 markah)

- (b) 200 g air tepu diwapkan sepenuhnya pada tekanan malar 100 kPa. Tentukan

- perubahan isipadu
- jumlah tenaga yang ditambah kepada air
- lakarkan proses ini dalam gambarajah P-v merujuk kepada garisan tepu.

(30 markah)

- (c) Tentukan isipadu spesifik bagi wap panas lampau (H_2O) pada 8MPa dan 400°C menggunakan:

- persamaan gas unggul
- jadual stim

Kaedah manakah akan memberi nilai yang paling jitu?

(30 markah)

...5/-

6. (a) Satu gas mempunyai komposisi berikut:

CO ₂	10%
CH ₄	40%
C ₂ H ₄	50%

36 lb gas ini perlu dimasukkan dalam setiap silinder. Silinder hendaklah direkabentuk supaya tekanan maksimum tidak melebihi 2400 psig apabila suhu ialah 180°F. Hitung isipadu silinder yang perlu menggunakan kaedah pseudokritik/Kay.

(40 markah)

(b) Satu pekerja memasukkan udara kering kepada satu paip tegar (garispusat dalaman 30 mm dan 20 m panjang) untuk memeriksa samada terdapat kebocoran. Suhu dan tekanan mutlak udara di dalam paip adalah 35°C dan 205kPa. Pekerja tersebut kembali selepas 24 jam dan mendapati bahawa tekanan mutlak telah jatuh kepada 183 kPa, dan suhu di dalam paip adalah 21°C. Adakah paip tersebut bocor? Jika ya, kira jisim udara yang telah keluar disebabkan kebocoran.

(30 markah)

(c) Satu injap tertebat digunakan untuk untuk mendikitkan (*throttle*) stim daripada 8 MPa dan 500°C kepada 6MPa.. Tentukan suhu akhir stim tersebut.

(30 markah)

TABLE MEAN MOLAL HEAT CAPACITIES OF GASES BETWEEN 25 AND $t^{\circ}\text{C}$ ($p = 0$)
g-cal/(g-mole)(K⁻¹)

t	H ₂	N ₂	CO	Air	O ₂	NO	H ₂ O	CO ₂	HCl	Cl ₂	CH ₄	SO ₂	C ₂ H ₄	SO ₃	C ₂ H ₆
25	6.894	6.961	6.965	6.972	7.017	7.134	8.024	8.884	6.96	8.12	8.55	9.54	10.45	12.11	12.63
100	6.924	6.972	6.983	6.996	7.083	7.144	8.084	9.251	6.97	8.24	8.98	9.85	11.35	12.84	13.76
200	6.957	6.996	7.017	7.021	7.181	7.224	8.177	9.701	6.98	8.37	9.62	10.25	12.53	13.74	15.27
300	6.970	7.036	7.070	7.073	7.293	7.252	8.215	10.108	7.00	8.48	10.29	10.62	13.65	14.54	16.72
400	6.982	7.089	7.136	7.152	7.406	7.301	8.409	10.462	7.02	8.55	10.97	10.94	14.67	15.22	18.11
500	6.995	7.159	7.210	7.225	7.515	7.389	8.539	10.776	7.06	8.61	11.65	11.22	15.60	15.82	19.39
600	7.011	7.229	7.289	7.299	7.616	7.470	8.678	11.053	7.10	8.66	12.27	11.45	16.45	16.33	20.58
700	7.032	7.298	7.365	7.374	7.706	7.549	8.816	11.303	7.15	8.70	12.90	11.66	17.22	16.77	21.68
800	7.060	7.369	7.443	7.447	7.792	7.630	8.963	11.53	7.21	8.73	13.48	11.84	17.95	17.17	22.72
900	7.076	7.443	7.521	7.520	7.874	7.708	9.109	11.74	7.27	8.77	14.04	12.01	18.63	17.52	23.69
1000	7.128	7.507	7.587	7.593	7.941	7.773	9.246	11.92	7.33	8.80	14.56	12.15	19.23	17.86	24.56
1100	7.169	7.574	7.653	7.660	8.009	7.839	9.389	12.10	7.39	8.82	15.04	12.28	19.81	18.17	25.40
1200	7.209	7.635	7.714	7.719	8.068	7.898	9.524	12.25	7.45	8.94	15.49	12.39	20.33	18.44	26.15
1300	7.252	7.692	7.772	7.778	8.123	7.952	9.66	12.39							
1400	7.288	7.738	7.818	7.824	8.166	7.994	9.77	12.50							
1500	7.326	7.786	7.866	7.873	8.203	8.039	9.89	12.69							
1600	7.386	7.844	7.922	7.929	8.269	8.092	9.95	12.75							
1700	7.421	7.879	7.958	7.965	8.305	8.124	10.13	12.70							
1800	7.467	7.924	8.001	8.010	8.349	8.164	10.24	12.94							
1900	7.505	7.957	8.033	8.043	8.383	8.192	10.34	13.01							
2000	7.548	7.994	8.069	8.081	8.423	8.225	10.43	13.10							
2100	7.588	8.028	8.101	8.115	8.460	8.255	10.52	13.17							
2200	7.624	8.054	8.127	8.144	8.491	8.277	10.61	13.24							

...7.

CONVERSION FACTORS AND CONSTANTS OF NATURE

To convert from	To	Multiply by†
acre	ft ²	43,560*
	m ²	4046.85
atm	N/m ²	1.01325 × 10 ⁵
	lb _f /in. ²	14.696
Avogadro number	particles/g mol	6.022169 × 10 ²³
	ft ³	5.6146
barrel (petroleum)	gal (U.S.)	42*
	m ³	0.15899
bar	N/m ²	1 × 10 ⁵
	lb _f /in. ²	14.504
Boltzmann constant	J/K	1.380622 × 10 ⁻²³
Btu	cal _{IT}	251.996
	ft-lb _f	778.17
	J	1055.06
	kWh	2.9307 × 10 ⁻⁴
	cal _{IT} /g	0.55556
Btu/lb	cal _{IT} /g-°C	1*
Btu/lb-°F	cal _{IT} /g-°C	1*
Btu/ft ² -h	W/m ²	3.1546
Btu/ft ² -h-°F	W/m ² -°C	5.6783
Btu-ft/ft ² -h-°F	kcal/m ² -h-K	4.882
	W-m/m ² -°C	1.73073
cal _{IT}	kcal/m-h-K	1.488
	Btu	3.9683 × 10 ⁻³
cal	ft-lb _f	3.0873
	J	4.1868*
cm	J	4.184*
cm ³	in.	0.39370
	ft	0.0328084
cP (centipoise)	ft ³	3.531467 × 10 ⁻³
	gal (U.S.)	2.64172 × 10 ⁻⁴
cSt (centistoke)	kg/m-s	1 × 10 ⁻³
	lb/ft-h	2.4191
faraday	lb/ft-s	6.7197 × 10 ⁻⁴
	m ² /s	1 × 10 ⁻⁶
ft	C/g mol	9.648670 × 10 ⁴
ft-lb _f	m	0.3048*
	Btu	1.2851 × 10 ⁻³
ft-lb _f /s	cal _{IT}	0.32383
	J	1.35582
ft ² /h	Btu/h	4.6262
	hp	1.81818 × 10 ⁻³
ft ³	m ² /s	2.581 × 10 ⁻³
	cm ² /s	0.2581
ft ³ -atm	cm ³	2.8316839 × 10 ⁴
	gal (U.S.)	7.48052
ft ³ /s	L	28.31684
	Btu	2.71948
gal (U.S.)	cal _{IT}	685.29
	J	2.8692 × 10 ³
gravitational constant	gal (U.S.)/min	448.83
	ft ³	0.13368
gravity acceleration, standard	in. ³	231*
	N-m ² /kg ²	6.673 × 10 ⁻¹¹
h	m/s ²	9.80665*
	min	60*
hp	s	3600*
	Btu/h	2544.43
hp/1000 gal	kW	0.74624
	kW/m ³	0.197
in.	cm	2.54*
	cm ³	16.3871
in. ³	erg	1 × 10 ⁷
	ft-lb _f	0.73756
J	lb	2.20462
	Btu	3412.1
kg	m ³	1 × 10 ⁻³
	kg	0.45359237*
kWh	kg/m ³	16.018
	g/cm ³	0.016018
L	N/m ²	6.89473 × 10 ³
	kg mol/m ² -s	1.3562 × 10 ⁻³
lb	g mol/cm ² -s	1.3562 × 10 ⁻⁴
	m/s	2.997925 × 10 ⁸
lb/ft ²	ft	3.280840
	in.	39.3701
light, speed of	ft ³	35.3147
	gal (U.S.)	264.17
m	dyn	1 × 10 ⁵
	lb _f	0.22481
m ³	lb _f /in. ²	1.4498 × 10 ⁻⁴
	J-s	6.626196 × 10 ⁻³⁴
N	percent alcohol by volume	0.5
	kg	1016
N/m ²	lb	2240*
	lb	2000*
Planck constant	kg	1000*
	lb	2204.6
proof (U.S.)	ft	3*
	m	0.9144*
ton (long)		
ton (short)		
ton (metric)		
yd		

† Values that end in an asterisk are exact, by definition.

Appendix

ATOMIC WEIGHTS AND NUMBERS

TABLE B.1 Relative Atomic Weights, 1965 (Based on the Atomic Mass of $^{12}\text{C} = 12$)
 The values for atomic weights given in the table apply to elements as they exist in nature without artificial alteration of their isotopic composition, and, further, to natural mixtures. They do not include isotopes of radiogenic origin.


Name	Symbol	Atomic Number	Atomic Weight	Name	Symbol	Atomic Number	Atomic Weight
Actinium	Ac	89	—	Mercury	Hg	80	200.59
Aluminum	Al	13	26.9815	Molybdenum	Mo	42	95.94
Americium	Am	95	—	Neodymium	Nd	60	144.24
Antimony	Sb	51	121.75	Neon	Ne	10	20.183
Argon	Ar	18	39.948	Neptunium	Np	93	—
Arsenic	As	33	74.9216	Nickel	Ni	28	58.71
Astatine	At	85	—	Niobium	Nb	41	92.906
Barium	Ba	56	137.34	Nitrogen	N	7	14.0067
Berkelium	Bk	97	—	Nobelium	No	102	—
Beryllium	Be	4	9.0122	Osmium	Os	75	190.2
Bismuth	Bi	83	208.980	Oxygen	O	8	15.9994
Boron	B	5	10.811	Palladium	Pd	46	106.4
Bromine	Br	35	79.904	Phosphorus	P	15	30.9738
Cadmium	Cd	48	112.40	Platinum	Pt	78	195.09
Caesium	Cs	55	132.905	Plutonium	Pu	94	—
Calcium	Ca	20	40.08	Polonium	Po	84	—
Californium	Cf	98	—	Potassium	K	19	39.102
Carbon	C	6	12.01115	Praseodym	Pr	59	140.907
Cerium	Ce	58	140.12	Promethium	Pm	61	—
Chlorine	Cl	17	35.453 ^b	Protactinium	Pa	91	—
Chromium	Cr	24	51.996 ^b	Radium	Ra	88	—
Cobalt	Co	27	58.9332	Radon	Rn	86	—
Copper	Cu	29	63.546 ^b	Rhenium	Rc	75	186.2
Curium	Cm	96	—	Rhodium	Rh	45	102.905
Dysprosium	Dy	66	162.50	Rubidium	Rb	37	84.57
Einsteinium	Es	99	—	Ruthenium	Ru	44	101.07
Erbium	Er	68	167.26	Samarium	Sm	62	150.35
Europium	Eu	63	151.96	Scandium	Sc	21	44.956
Fermium	Fm	100	—	Selenium	Se	34	78.96
Flourine	F	9	18.9984	Silicon	Si	14	28.086
Francium	Fr	87	—	Silver	Ag	47	107.868
Gadolinium	Gd	64	157.25	Sodium	Na	11	22.9898
Gallium	Ga	31	69.72	Strontium	Sr	38	87.62
Germanium	Ge	32	72.59	Sulfur	S	16	32.064
Gold	Au	79	196.967	Tantalum	Ta	73	180.948
Hafnium	Hf	72	178.49	Technetium	Tc	43	—
Helium	He	2	4.0026	Tellurium	Te	52	127.60
Holmium	Ho	67	164.930	Terbium	Tb	65	158.924
Hydrogen	H	1	1.00797	Thallium	Tl	81	204.37
Indium	In	49	114.82	Thorium	Th	90	232.038
Iodine	I	53	126.9044	Thulium	Tm	59	168.934
Iridium	Ir	77	192.2	Tin	Sn	50	118.69
Iron	Fe	26	55.847	Titanium	Ti	22	47.90
Krypton	Kr	36	83.80	Tungsten	W	74	183.85
Lanthanum	La	57	138.91	Uranium	U	92	238.03
Lawrencium	Lr	103	—	Vanadium	V	23	50.942
Lead	Pb	82	207.19	Xenon	Xe	54	131.30
Lithium	Li	3	6.939	Ytterbium	Yb	70	173.04
Lutetium	Lu	71	174.97	Yttrium	Y	39	88.905
Magnesium	Mg	12	24.312	Zinc	Zn	30	65.37
Manganese	Mn	25	54.9380	Zirconium	Zr	40	91.22
Mendelevium	Md	101	—				

Keadaan Standard Biasa bagi Gas Unggul

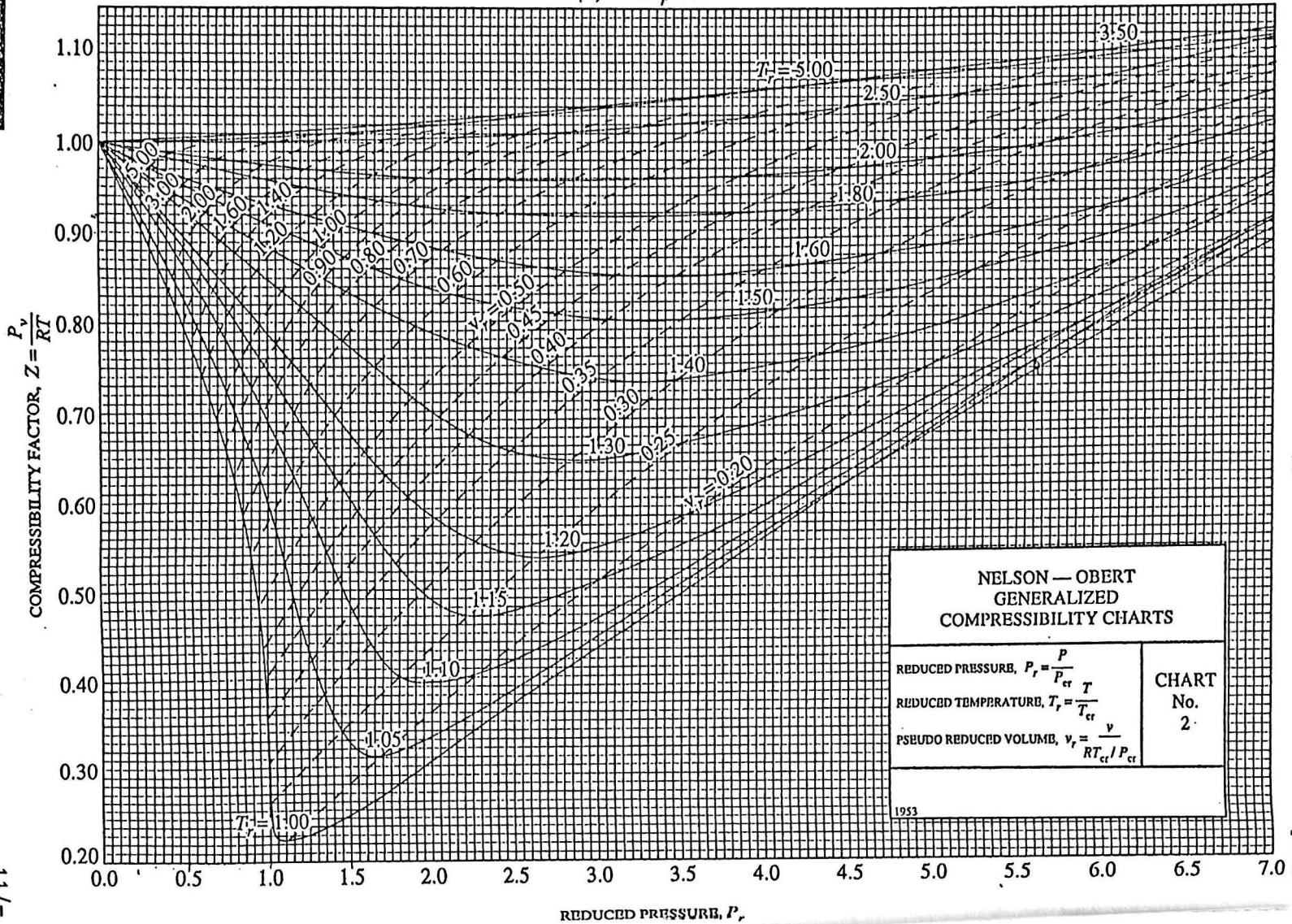
Sistem	T	p	\hat{V}
SI	273.15K	101.325 kPa	22.415 m ³ /kg mol
Universal scientific	0.0°C	760 mm Hg	22.415 liters/g mol
Natural gas industry	60.0°C	14.696 psia (15.0°C)	379.4 ft ³ /lb mol (101.325 kPa)
American engineering	32°F	1 atm	359.05 ft ³ /lb mol

FIGURE A-30b

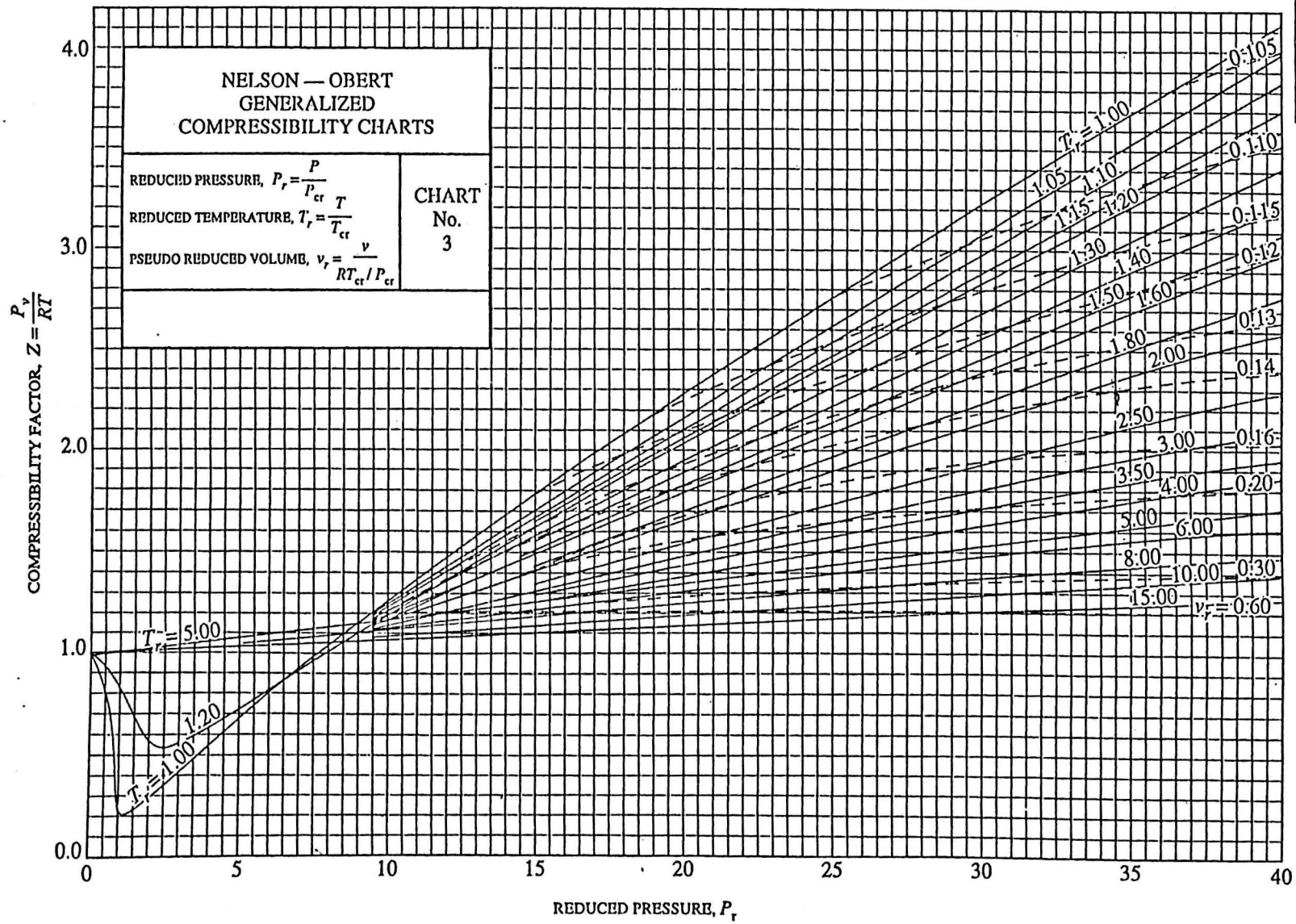
Nelson–Obert generalized compressibility chart—*intermediate pressures*. (Used with permission of Dr. Edward E. Obert, University of Wisconsin.)



(b) $0 < P_r < 7$



(c) $0 < P_r < 40$

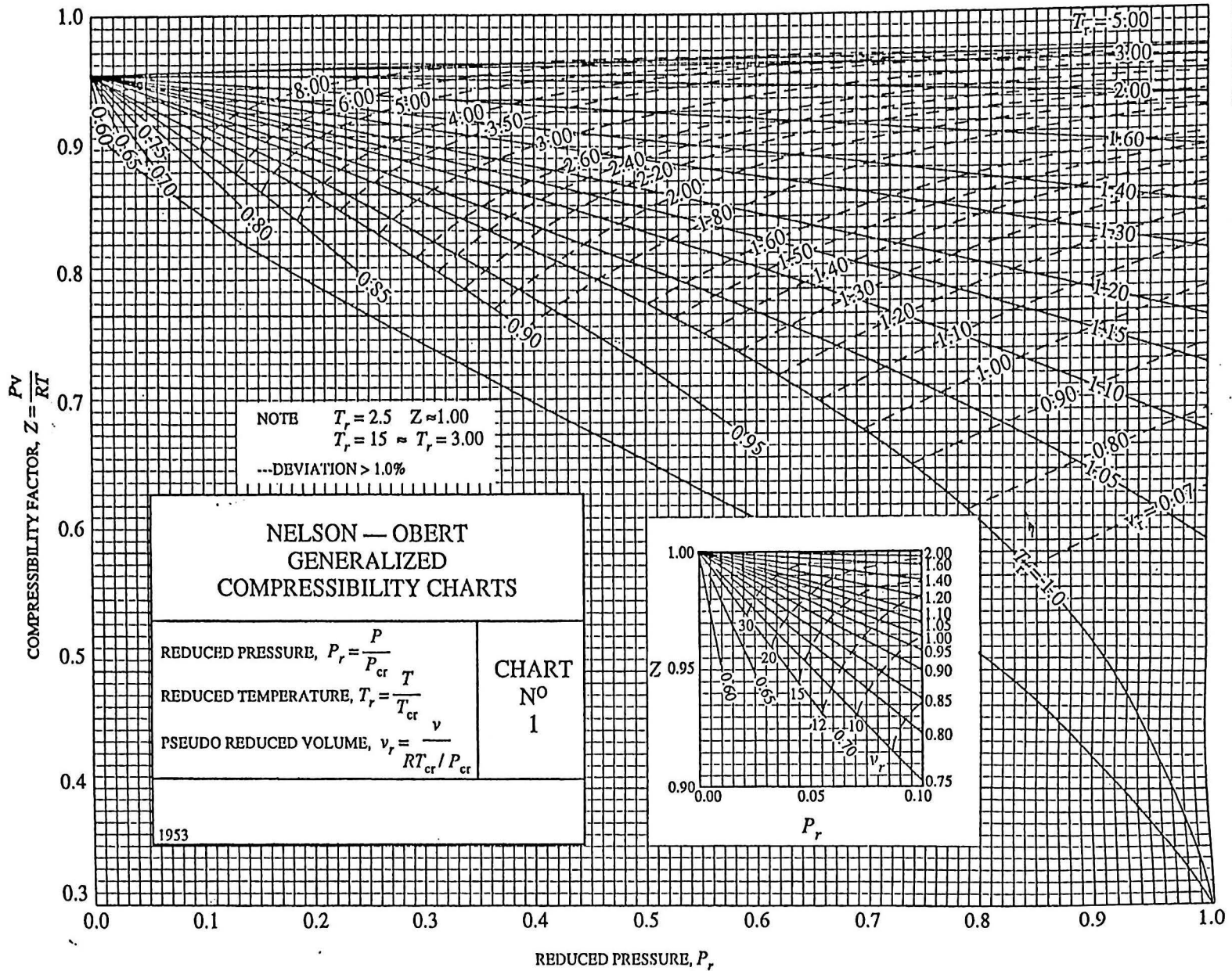


11

- 11 -

[IEK 101]

...12/-



0000000000

12