

UNIVERSITI SAINS MALAYSIA

Peperiksaan Semester Pertama
Sidang Akademik 1997/98

September 1997

EEE 350 - Sistem Kawalan

Masa : [3 jam]

ARAHAN KEPADA CALON :

Sila pastikan bahawa kertas peperiksaan ini mengandungi TUJUH (7) muka surat berserta Lampiran (2 mukasurat) bercetak dan ENAM (6) soalan sebelum anda memulakan peperiksaan ini.

Jawab LIMA (5) soalan.

Agihan markah bagi soalan diberikan di sut sebelah kanan soalan berkenaan.

Jawab semua soalan di dalam Bahasa Malaysia.

...2/-

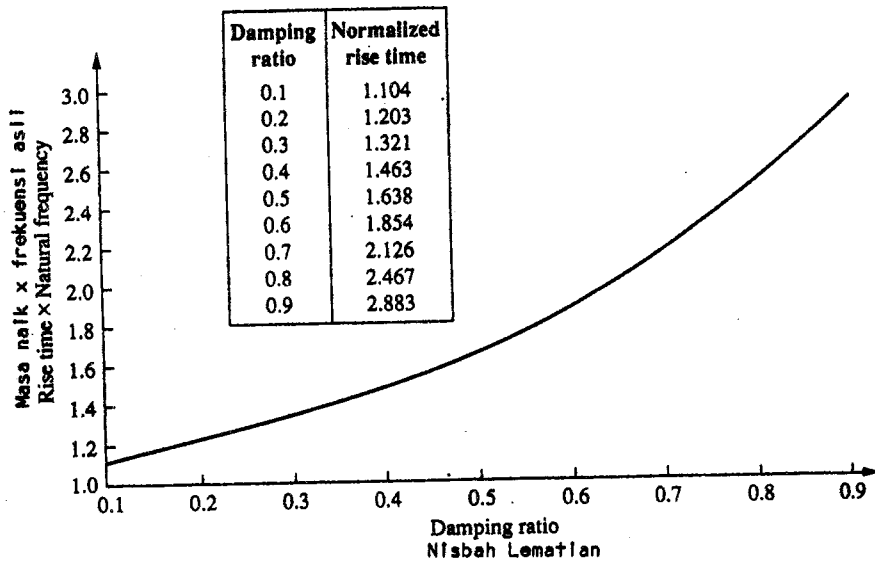
535

1. Fungsi pindah yang menghubungkan keluaran $\Theta(s)$ kepada masukan $R(s)$ dalam suatu sistem kawalan ialah

$$\frac{\Theta(s)}{R(s)} = \frac{0.125 (s + 0.435)}{(s + 1.23) (s^2 + 0.226s + 0.0169)}$$

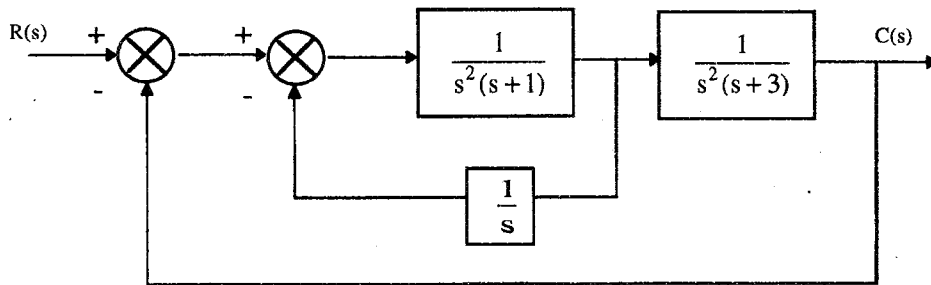
- (a) Dengan menggunakan hanya kutub-kutub tertib-kedua yang ditunjukkan dalam fungsi pindah, anggarkan peratus lajakan, masa naik, masa puncak dan masa penetapan. (25%)
- (b) Dengan menggunakan jelmaan Laplace. Cari ungkapan analitik untuk sambutan keluaran kepada suatu masukan langkah. (25%)
- (c) Nilaikan kesan kutub dan sifar tambahan ke atas kesahihan pendekatan tertib-kedua. (25%)
- (d) Lakarkan sambutan langkah sistem dan buktikan kesahihan keputusan-keputusan yang anda telah dapati dalam bahagian c di atas. (25%)

Catatan: Rajah 1 ialah masa naik x frekuensi asli lawan nisbah lematian untuk rujukan anda.



Rajah 1

2. (a) Diberikan sistem dalam Rajah 2, cari yang berikut
- (i) Fungsi pindah gelung tertutup. (10%)
 - (ii) Jenis Sistem (10%)
 - (iii) Ralat keadaan mantap untuk input $5u(t)$ (10%)
 - (iv) Ralat keadaan mantap untuk input $5tu(t)$ (10%)
 - (v) Bincangkan kesahihan jawapan anda dalam bahagian (iii) dan (iv). (10%)



Rajah 2

(b) Diberikan sistem kawalan suapbalik uniti dalam Rajah 3, di mana

$$G(s) = \frac{K}{s(s + \beta)}$$

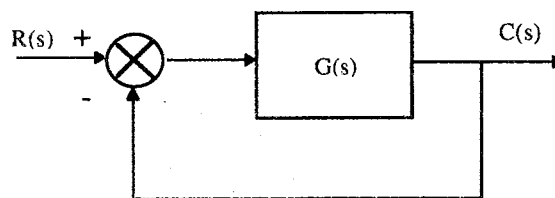
Cari yang berikut:

(i) K dan β untuk menghasilkan $K_v = 1000$ dan lajukan 20%.

(25%)

(iii) K dan β untuk menghasilkan 1% ralat keadaan mantap dan 10% lajukan.

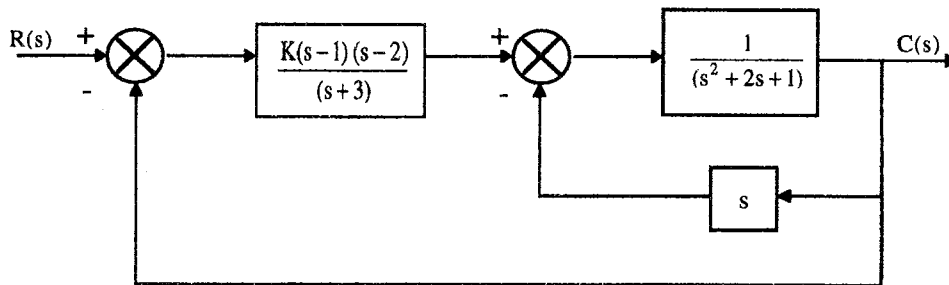
(25%)



Rajah 3

3. Diberi sistem seperti dalam Rajah 4. Cari yang berikut:

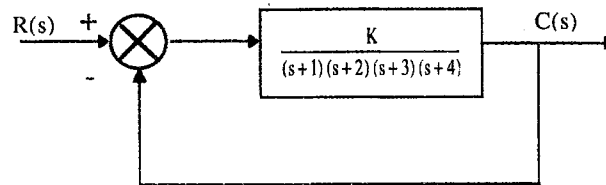
- (a) Julat K yang mengekalkan sistem stabil. (30%)
- (b) Nilai K yang membuatkan sistem berayun. (30%)
- (c) Frekuensi ayunan bila K disetkan kepada nilai yang menyebabkan sistem berayun. (40%)



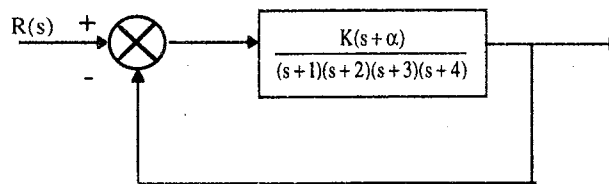
Rajah 4

4. Untuk sistem dalam Rajah 5(a), lakarkan londar punca dan cari yang berikut:

- (a) Asimptot (10%)
- (b) Titik jalan putus (10%)
- (c) Julat K untuk kestabilan (10%)
- (d) Nilai K untuk menghasilkan nisbah lemati 0.7 untuk pasangan tertib kedua yang perusa. (20%)



Rajah 5(a)



Rajah 5(b)

Untuk memperbaiki kestabilan, kita memerlukan londar punca melintasi paksi- $j\omega$ pada $j5.5$. Untuk melaksanakan ini fungsi gelung terbuka dikaskadkan dengan satu sifar seperti yang ditunjukkan dalam Rajah 5(b).

- (e) Cari nilai α dan lakarkan londar punca baharu. (15%)
- (f) Ulang bahagian (c) untuk londar punca baharu. (15%)
- (g) Bandingkan hasil-hasil dalam bahagian (c) dan (f). Apakah peningkatan sambutan fana yang anda catatkan. (20%)

5. Untuk sistem suapbalik uniti dalam Rajah 6 di mana $G(s) = K/[s(s+3)(s+6)]$, cari dengan kaedah Nyquist.

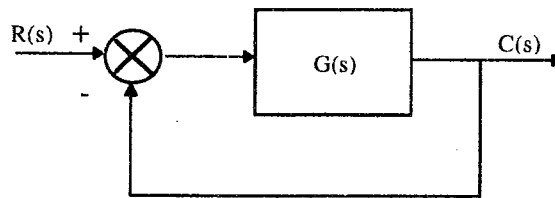
- (a) Julat untung K untuk kestabilan dan ketakstabilan. (40%)

(b) Nilai untung untuk kestabilan sut.

(30%)

(c) Frekuensi ayunan

(30%)

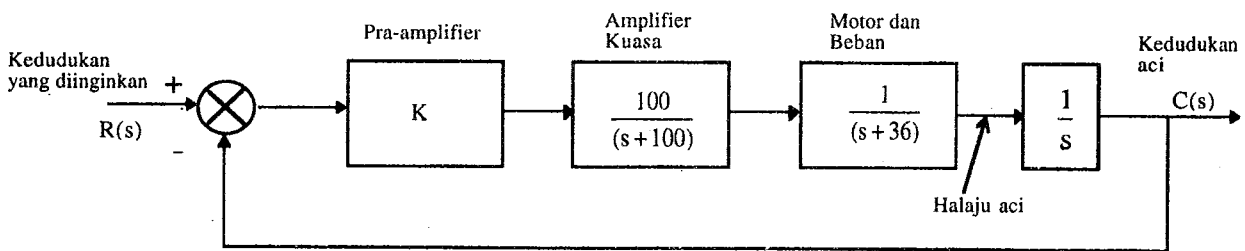


Rajah 6

6. Untuk soalan ini anda dikehendaki menggunakan hanya kaedah Bode. Sistem kawalan kedudukan ditunjukkan dalam Rajah 7.

Cari nilai untung pra-amplifier K untuk menghasilkan sambutan fana yang berlajakan 9.48% untuk masukan langkah.

(100%)



Rajah 6

ooo0ooo

APPENDIX (LAMPIRAN)

Jadual Jelmaan Laplace
Laplace Transform Techniques

$f(t) = \mathcal{L}^{-1}\{F(s)\}$	$F(s) = \mathcal{L}\{f(t)\}$
$\delta(t)$	1
$u(t)$	$\frac{1}{s}$
$tu(t)$	$\frac{1}{s^2}$
$\frac{t^{n-1}}{(n-1)!} u(t), n = 1, 2, \dots$	$\frac{1}{s^n}$
$e^{-\alpha t} u(t)$	$\frac{1}{s + \alpha}$
$te^{-\alpha t} u(t)$	$\frac{1}{(s + \alpha)^2}$
$\frac{t^{n-1}}{(n-1)!} e^{-\alpha t} u(t), n = 1, 2, \dots$	$\frac{1}{(s + \alpha)^n}$
$\frac{1}{\beta - \alpha} (e^{-\alpha t} - e^{-\beta t}) u(t)$	$\frac{1}{(s + \alpha)(s + \beta)}$
$\sin \omega t u(t)$	$\frac{\omega}{s^2 + \omega^2}$
$\cos \omega t u(t)$	$\frac{s}{s^2 + \omega^2}$
$\sin(\omega t + \theta) u(t)$	$\frac{s \sin \theta + \omega \cos \theta}{s^2 + \omega^2}$
$\cos(\omega t + \theta) u(t)$	$\frac{s \cos \theta - \omega \sin \theta}{s^2 + \omega^2}$
$e^{-\alpha t} \sin \omega t u(t)$	$\frac{\omega}{(s + \alpha)^2 + \omega^2}$
$e^{-\alpha t} \cos \omega t u(t)$	$\frac{s + \alpha}{(s + \alpha)^2 + \omega^2}$

Operation	$f(t)$	$F(s)$
Addition	$f_1(t) \pm f_2(t)$	$F_1(s) \pm F_2(s)$
Scalar multiplication	$kf(t)$	$kF(s)$
Time differentiation	$\frac{df}{dt}$	$sF(s) - f(0^-)$
	$\frac{d^2f}{dt^2}$	$s^2F(s) - sf(0^-) - f'(0^-)$
	$\frac{d^3f}{dt^3}$	$s^3F(s) - s^2f(0^-) - sf'(0^-) - f''(0^-)$
Time integration	$\int_0^t f(t) dt$	$\frac{1}{s} F(s)$
	$\int_{-\infty}^t f(t) dt$	$\frac{1}{s} F(s) + \frac{1}{s} \int_{-\infty}^0 f(t) dt$
Convolution	$f_1(t) * f_2(t)$	$F_1(s)F_2(s)$
Time shift	$f(t-a)u(t-a),$ $a \geq 0$	$e^{-as}F(s)$
Frequency shift	$f(t)e^{-at}$	$F(s+a)$
Frequency differentiation	$-tf(t)$	$\frac{dF(s)}{ds}$
Frequency integration	$\frac{f(t)}{t}$	$\int_s^{\infty} F(s) ds$
Scaling	$f(at), a \geq 0$	$\frac{1}{a} F\left(\frac{s}{a}\right)$
Initial value	$f(0^-)$	$\lim_{s \rightarrow \infty} sF(s)$
Final value	$f(\infty)$	$\lim_{s \rightarrow 0} sF(s),$ all poles of $sF(s)$ in LHP
Time periodicity	$f(t) = f(t+nT),$ $n = 1, 2, \dots$	$\frac{1}{1 - e^{-Ts}} F_1(s),$ where $F_1(s) = \int_0^T f(t)e^{-st} dt$