

Angka Giliran: \_\_\_\_\_

UNIVERSITI SAINS MALAYSIA

Peperiksaan Semester Pertama  
Sidang Akademik 1992/93

Oktober/November 1992

SEU 314 - Ekonomi Antarabangsa

Masa : [3 jam]

---

Sila pastikan bahawa kertas peperiksaan ini mengandungi LAPAN BELAS muka surat yang bercetak sebelum anda memulakan peperiksaan ini.

Jawab soalan no. 1 dalam Bahagian A dan SATU soalan dari Bahagian B. Tuliskan jawapan anda di ruang kosong yang disediakan.

...2/-



[SEU 314]  
Angka Giliran: \_\_\_\_\_

[B] (a) Takrifkan:

[1] Laba penggunaan: \_\_\_\_\_

[2] Laba pengkhususan: \_\_\_\_\_

(b) Rajah B menunjukkan keluk transformasi negara A, yang bertanda  $A^*A$ , dan keluk transformasi negara B, yang bertanda  $A^*B$ . Titik penggunaan bersama dalam keadaan perdagangan bebas bertanda  $x^*$ . Tunjukkan laba penggunaan yang dinikmati oleh negara A dan laba pengkhususan yang dinikmati oleh negara B. Berikan catatan ringkas untuk menunjukkan laba-laba ini.

---

---

---

---

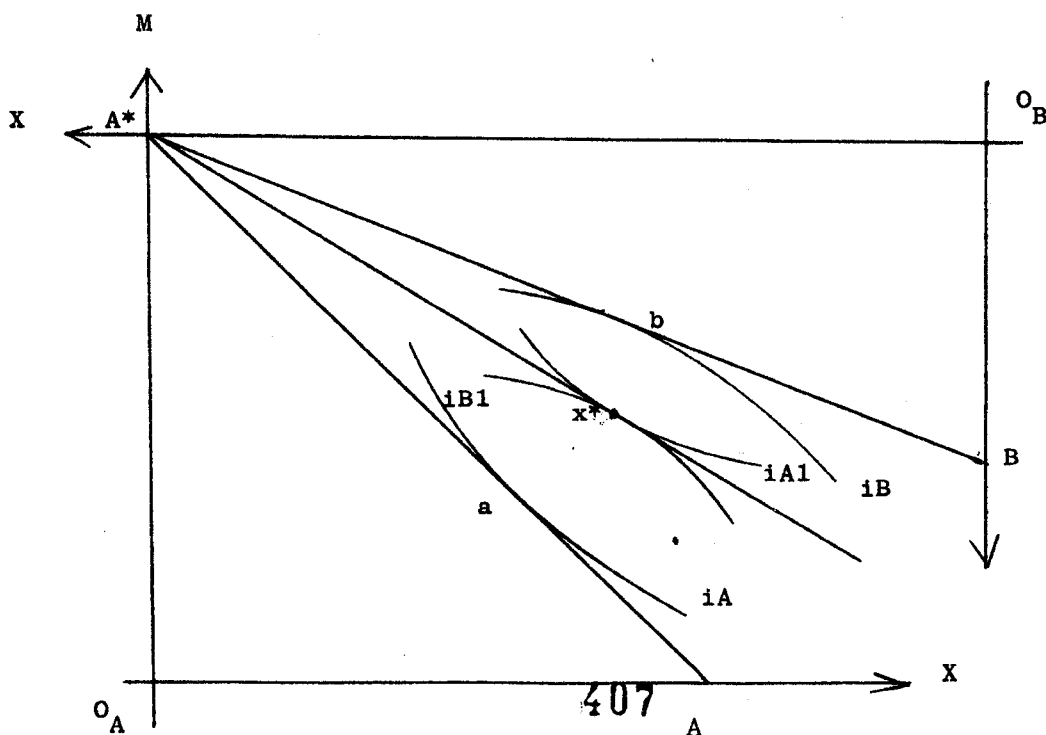
---

---

---

---

Rajah B



[SEU 314]  
Angka Giliran: \_\_\_\_\_

[C] (a) Takrifkan syarat niaga: \_\_\_\_\_

(b) Rajah C menunjukkan keluk tawaran negara Malaysiana dan keluk tawaran negara Singapura. Andaikan kejutan berikut telah berlaku secara serentak: Malaysiana menerima buruh asing sebanyak 20% daripada buruh yang ada pada masa ini di Malaysiana dan masyarakat Singapura pula semakin gemar mengguna barangan pertanian.

[1] Tunjukkan kejutan-kejutan ini di dalam Rajah C.

[2] Terangkan kesan kejutan-kejutan ini terhadap jumlah perdagangan antarabangsa, syarat niaga negara Malaysiana dan kebajikan masyarakat negara Singapura.

---

---

---

---

---

---

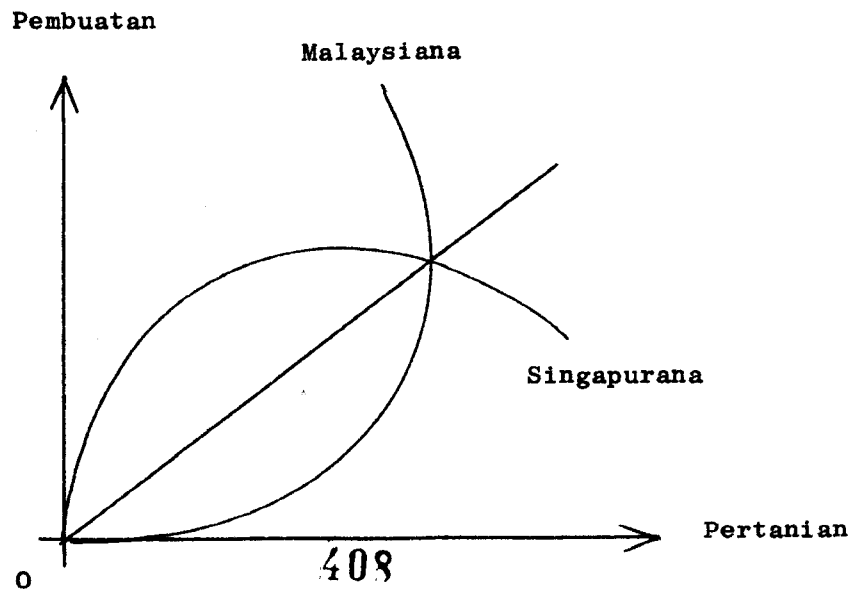
---

---

---

---

Rajah C



[SEU 314]

Angka Giliran: \_\_\_\_\_

(D) (a) Berikan dua takrifan kekayaan faktor mengikut model Heckscher-Ohlin:

[1] \_\_\_\_\_

\_\_\_\_\_

\_\_\_\_\_

[2] \_\_\_\_\_

\_\_\_\_\_

\_\_\_\_\_

(b) Berikan 1 penjelasan mengapa aliran perdagangan sebenar sesebuah negara boleh bertentangan dengan arah aliran perdagangan seperti yang diramalkan oleh model Heckscher-Ohlin.

\_\_\_\_\_

\_\_\_\_\_

\_\_\_\_\_

\_\_\_\_\_

\_\_\_\_\_

\_\_\_\_\_

\_\_\_\_\_

\_\_\_\_\_

\_\_\_\_\_

\_\_\_\_\_

\_\_\_\_\_

\_\_\_\_\_

\_\_\_\_\_

\_\_\_\_\_

[SEU 314]  
Angka Giliran: \_\_\_\_\_

[E] (a) Takrifkan lambakan: \_\_\_\_\_

\_\_\_\_\_

(b) Dengan bantuan rajah yang sesuai, jelaskan asas ekonomi mengapa lambakan berterusan (persistent dumping) diamalkan oleh pengeksport.

\_\_\_\_\_

\_\_\_\_\_

\_\_\_\_\_

\_\_\_\_\_

\_\_\_\_\_

\_\_\_\_\_

\_\_\_\_\_

\_\_\_\_\_

\_\_\_\_\_

\_\_\_\_\_

\_\_\_\_\_

\_\_\_\_\_

\_\_\_\_\_

\_\_\_\_\_

\_\_\_\_\_

\_\_\_\_\_

\_\_\_\_\_

\_\_\_\_\_

\_\_\_\_\_

\_\_\_\_\_

\_\_\_\_\_

\_\_\_\_\_

\_\_\_\_\_

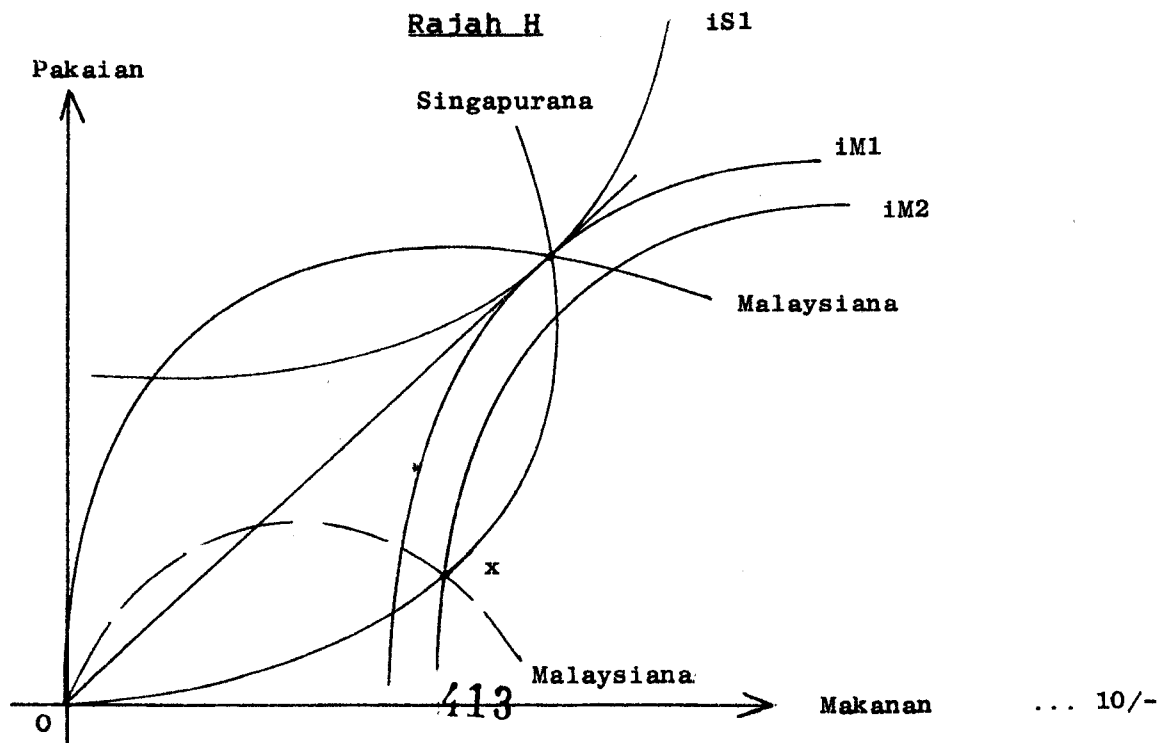






[H] (a) Takrifkan tarif optimum: \_\_\_\_\_

(b) Rajah H menunjukkan keluk tawaran Malaysiana dan keluk tawaran Singapura. Titik x menunjukkan keadaan keseimbangan perdagangan tidak bebas. Adakah negara Malaysiana telah mengenakan tarif optimum? Apakah buktinya? Negara manakah akan menikmati keuntungan jika Singapura mengambil tindakan balas dengan mengenakan tarif terhadap importnya? Buktikan.



[SEU 314]

Angka Giliran: \_\_\_\_\_

[I] Rajah I menunjukkan keadaan pasar minyak kelapa sawit -- pengeluaran, penggunaan domestik dan jumlah eksport -- sebuah negara kecil. Di antara pengenaan cukai penggunaan pada kadar  $dd^*$  dengan pemberian subsidi eksport pada kadar yang sama, yang mana satukah:

(a) lebih berkesan jika matlamat kerajaan ialah untuk meningkatkan jumlah eksport? Jelaskan.

---

---

---

---

---

---

(b) lebih merugikan masyarakat? Jelaskan.

---

---

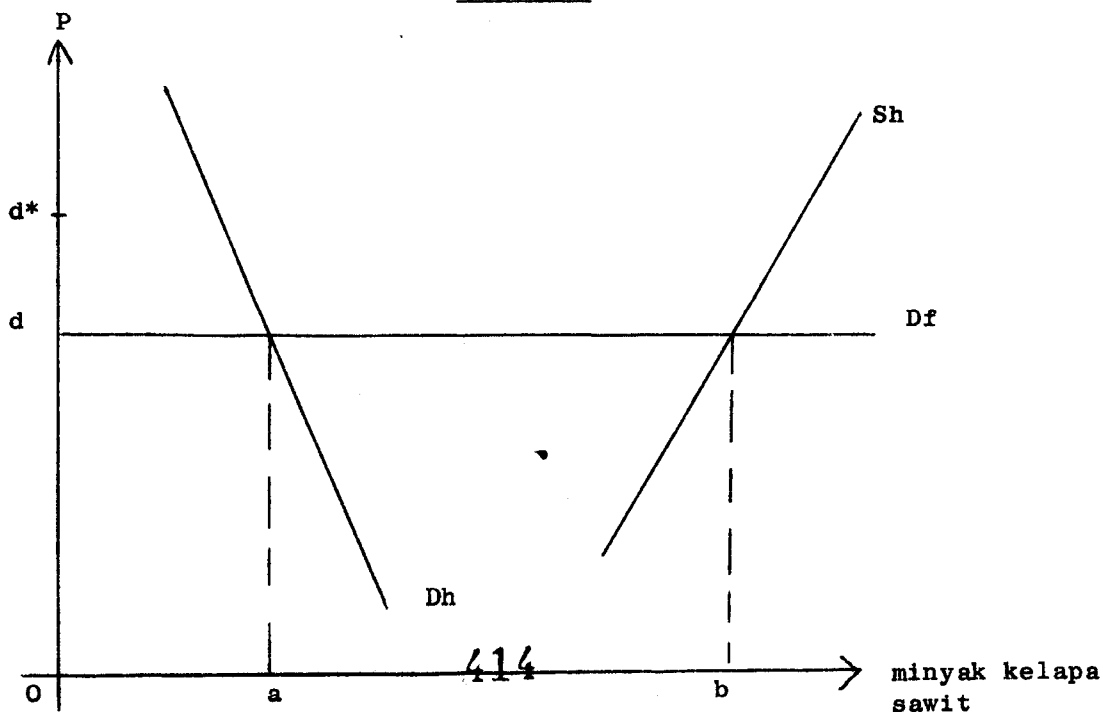
---

---

---

---

Rajah I



minyak kelapa sawit  
... 11/-

[SEU 314]

Angka Giliran: \_\_\_\_\_

[J] Dengan bantuan rajah yang sesuai, jelaskan arah aliran perdagangan yang diasaskan kepada teori kitaran output (product cycle theory).

---

---

---

---

---

---

---

---

---

---

---

---

---

---

---

---

---

---

---

---

---

---

---

---

[SEU 314]  
Angka Giliran: \_\_\_\_\_

[K] (a) Takrifkan:

(i) Lencongan dagangan: \_\_\_\_\_  
\_\_\_\_\_

(ii) Ciptaan dagangan: \_\_\_\_\_  
\_\_\_\_\_

(b) Rajah K menunjukkan keadaan pasar satu komoditi di negara A setelah ia mengenakan tarif prohibitif terhadap import dari negara C dan negara B. bSB dan cSC ialah keluk penawaran import dari negara B dan C, masing-masing. Jika negara A dan negara B tubuhkan kesatuan kastam, adakah negara A (a) menikmati ciptaan dagangan, atau (b) mengalami lencongan dagangan, atau (c) menikmati ciptaan dagangan dan lencongan dagangan? Jelaskan.

\_\_\_\_\_

\_\_\_\_\_

\_\_\_\_\_

\_\_\_\_\_

\_\_\_\_\_

\_\_\_\_\_

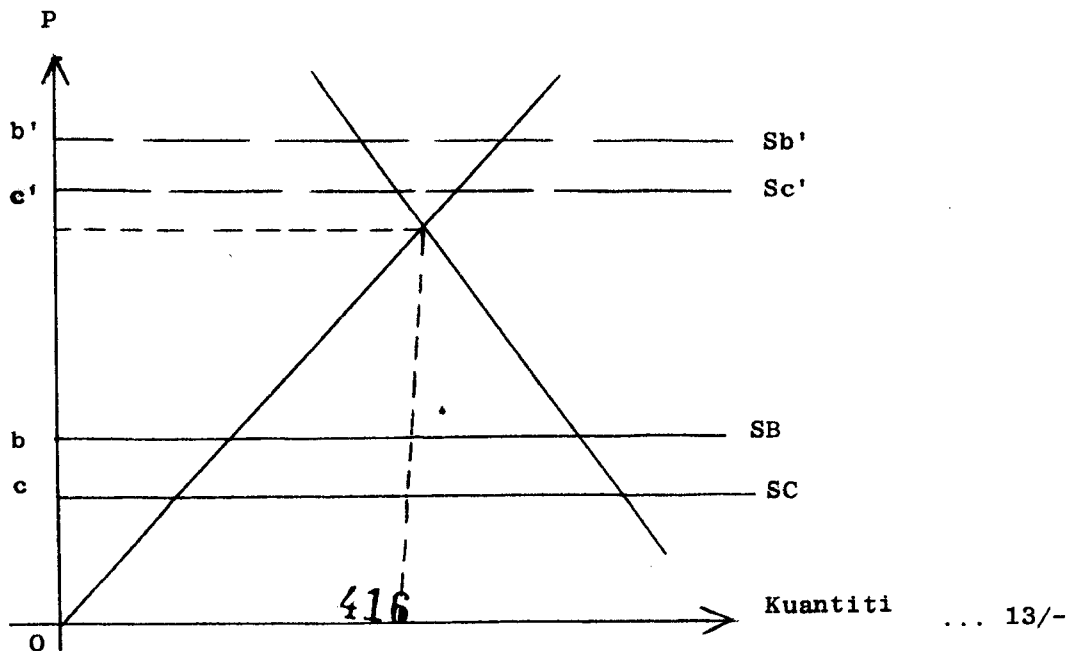
\_\_\_\_\_

\_\_\_\_\_

\_\_\_\_\_

\_\_\_\_\_

Rajah K





[SEU 314]

Angka Giliran: \_\_\_\_\_

BAHAGIAN B

Jawab 1 (SATU) soalan sahaja dari bahagian ini; gunakan halaman bergaris berikut (muka surat 15 - 18) untuk menulis jawapan anda.

2. Mengikut model Heckscher-Ohlin, apakah asas perdagangan antarabangsa? Apa akan terjadi kepada agihan pulangan relatif faktor pengeluaran apabila negara berdagang? Gunakan rajah-rajah yang sesuai untuk mengukuhkan jawapan anda.  
[20 markah]
3. Dengan bantuan analisis imbangan am, analisis kesan-kesan pengenaan tarif oleh sebuah negara kecil.  
[20 markah]
4. Apakah hujah perlindungan tarif untuk industri muda? Dalam jangka masa panjang, adakah sesebuah negara akan menikmati keuntungan kerana perlindungan ini? Jelaskan.  
[20 markah]
5. Bagaimanakah (a) subsidi pengeluaran, dan (b) cukai pengeluaran mempengaruhi perdagangan antarabangsa sesebuah negara? Jelaskan dengan bantuan rajah-rajah yang sesuai.  
[20 markah]
6. "Bagi pengguna, apa yang penting ialah kadar tarif nominal; bagi pihak pengeluar pula, apa yang penting ialah kadar tarif (perlindungan) berkesan". Bincangkan.  
[20 markah]
7. "Pertumbuhan dan perdagangan tidak semestinya membawa kepada peningkatan kebajikan masyarakat". Bincangkan.  
[20 markah]
8. Takrifkan bentuk-bentuk integrasi ekonomi. Bagaimanakah penubuhan kesatuan kastam boleh mempengaruhi kebajikan masyarakat dalam jangka pendek dan dalam jangka panjang?  
[20 markah]









