

Angka Giliran: _____

UNIVERSITI SAINS MALAYSIA

Peperiksaan Akhir
Sidang Akademik 2008/2009

April 2009

JKE 318 – Perdagangan Antarabangsa

Masa: 3 jam

Sila pastikan bahawa kertas peperiksaan ini mengandungi **TUJUH BELAS** muka surat yang bercetak sebelum anda memulakan peperiksaan.

Jawab soalan SATU di Bahagian A dan mana-mana ENAM soalan di Bahagian B. Jawapan hendaklah ditulis pada ruang yang disediakan di atas buku soalan ini.

Baca arahan dengan teliti sebelum menjawab soalan.

Mesin hitung elektronik tak berprogram boleh digunakan untuk peperiksaan ini.

BAHAGIAN A

[28 MARKAH]

Jawab soalan SATU. Soalan ini bernilai 28 markah.

1. Jawab semua soalan berikut:

(a) Senaraikan 3 teori perdagangan antarabangsa.

(i) _____

(ii) _____

(iii) _____

(1.5 markah)

(b) Senaraikan 3 usaha/penjelasan yang cuba merujuk (reconcile) dapatan kajian Leontief dengan ramalan teori perdagangan antarabangsa bagi Amerika Syarikat.

(i) _____

(ii) _____

(2 markah)

(c) Senaraikan 10 cara bagaimana campur tangan kerajaan boleh mempengaruhi perdagangan antarabangsa.

(i) _____

(ii) _____

(iii) _____

(iv) _____

(v) _____

(vi) _____

(vii) _____

(viii) _____

(ix) _____

(x) _____

(7 markah)

(d) Senaraikan 5 jenis integrasi ekonomi wilayah.

(i) _____

(ii) _____

(iii) _____

(iv) _____

(v) _____

(2.5 markah)

...3/-

(e) Senaraikan 5 pertubuhan antarabangsa atau/dan perjanjian antarabangsa atau/dan persidangan antarabangsa atau/dan jurnal ilmiah yang berhubung terus dengan perdagangan antarabangsa.

- (i) _____
- (ii) _____
- (iii) _____
- (iv) _____
- (v) _____

(5 markah)

(f) Senaraikan 20 konsep/terminologi tentang perdagangan antarabangsa yang anda temui di dalam kursus JKE318/317 Perdagangan Antarabangsa.

- (i) _____
- (ii) _____
- (iii) _____
- (iv) _____
- (v) _____
- (vi) _____
- (vii) _____
- (viii) _____
- (ix) _____
- (x) _____
- (xi) _____
- (xii) _____
- (xiii) _____
- (xiv) _____
- (xv) _____
- (xvi) _____
- (xvii) _____
- (xviii) _____
- (xix) _____
- (xx) _____

(10 markah)

...4/-

BAHAGIAN B**(72 markah)**

Jawab mana-mana ENAM soalan. Setiap soalan bernilai 12 markah.

2. Jadual di bawah mengandungi maklumat tentang komoditi X dan komoditi M yang boleh dihasilkan oleh 1 unit buruh di 2 buah negara, A dan B.

	Output per unit buruh	
	Komoditi X	Komoditi M
Negara A	20	30
Negara B	4	5

- (a) Negara manakah mempunyai kebaikan mutlak dalam pengeluaran komoditi X?

- (b) Berapakah harga relatif X, dalam keadaan autarki? Di
Negara A: _____ Negara B: _____
- (c) Pada harga relatif X manakah hanya negara A sahaja yang akan mendapat laba dari perdagangan antarabangsa?

- (d) Pada harga relatif X manakah hanya negara B sahaja yang akan mendapat laba dari perdagangan antarabangsa?

- (e) Andaikan negara A mempunyai 6000 unit buruh dan negara B mempunyai 8000 unit buruh. Dalam keadaan autarki, setiap negara memperuntukkan 60% daripada buruh kepada pengeluaran komoditi X.
- (i) Dalam keadaan autarki, berapakah saiz penggunaan output M di setiap negara?
Negara A: _____ Negara B: _____
- (ii) Berapakah saiz output X dan M di dunia dalam keadaan autarki?
Output X: _____ Output M: _____
- (iii) Berapakah saiz output X dan M di dunia apabila kedua-dua negara berdagang?
Output X: _____ Output M: _____

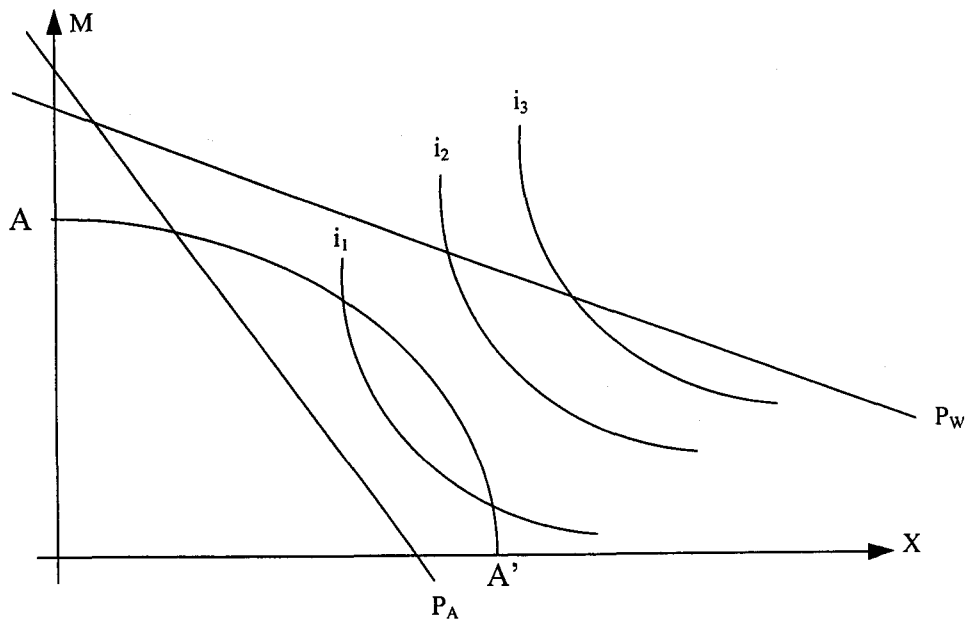
...5/-

3. Rajah 3 menunjukkan keluk transformasi negara A, AA', sebuah negara kecil, yang boleh mengeluarkan komoditi X dan komoditi M, beberapa keluk puas sama, i_1 , i_2 , dan i_3 , dan harga relatif X yang diberi oleh cerun garisan P_A dalam keadaan autarki. Harga relatif X di pasaran dunia diberi oleh cerun garis P_W . Anda boleh melukis keluk puas sama yang lain untuk menjawab soalan berikut.

(a) Tandakan titik pengeluaran di negara A dalam keadaan autarki; tandakan dengan huruf **a**. Mengapakah anda memilih titik ini?

(b) Jika negara A berdagang, di manakah titik pengeluaran (tandakan dengan huruf **p**) dan titik penggunaan (tandakan dengan huruf **c**)? Lorekan segi tiga dagangan. Di atas rajah ini, catatkan jarak import dan jarak eksport negara A.

(c) Apakah bukti yang negara A telah menikmati laba dari perdagangan dan laba dari pengkhususan? Terangkan.



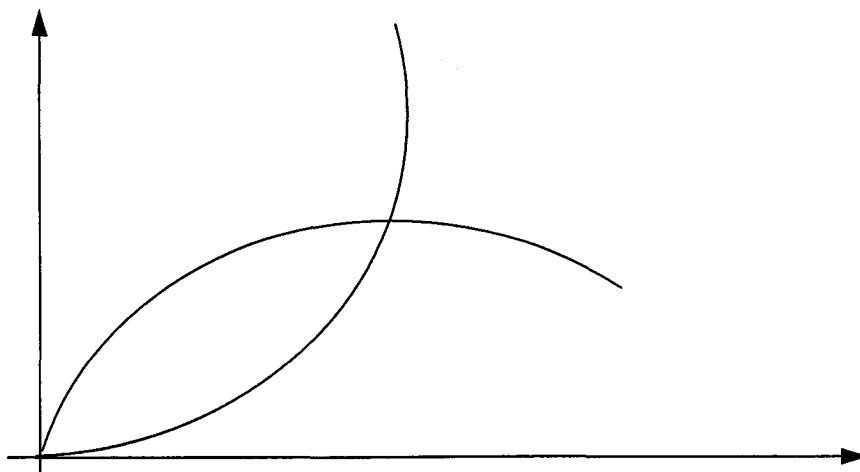
Rajah 3

...6/-

4. Rajah 4 di bawah menunjukkan keluk tawaran 2 buah negara, negara S, sebuah negara kaya buruh, dan negara T, sebuah negara kaya modal. 2 komoditi yang didagang di pasaran dunia ialah D, satu barang intensif faktor buruh, dan barang E, satu barang intensif faktor modal.

- (a) Labelkan paksi tegak; labelkan paksi lentang
- (b) Labelkan keluk tawaran negara S dengan huruf S, dan labelkan keluk tawaran negara T dengan huruf T.
- (c) Lukiskan garisan syarat niaga negara T dan tandakannya dengan huruf a.
- (d) Andaikan di negara S, buruh semakin banyak dan semakin cekap. Lukiskan keluk tawaran baru negara S dan tandakannya dengan huruf S₁ dan lukiskan garisan syarat niaga baru negara S dan tandakannya S₂. Apakah erti perubahan syarat niaga ini terhadap negara S? Terangkan. Apa terjadi kepada volume perdagangan dunia?

- (e) Setelah berlaku perubahan di (d), negara T pula mengalami tambahan stok modal dan peningkatan kecekapan modal. Lukiskan keluk tawaran baru negara T dan tandakannya dengan huruf T₁ dan lukiskan garisan syarat niaga baru negara T dan tandakannya T₂. Apakah erti perubahan syarat niaga ini terhadap negara T? Terangkan. Apa terjadi kepada volume perdagangan dunia?



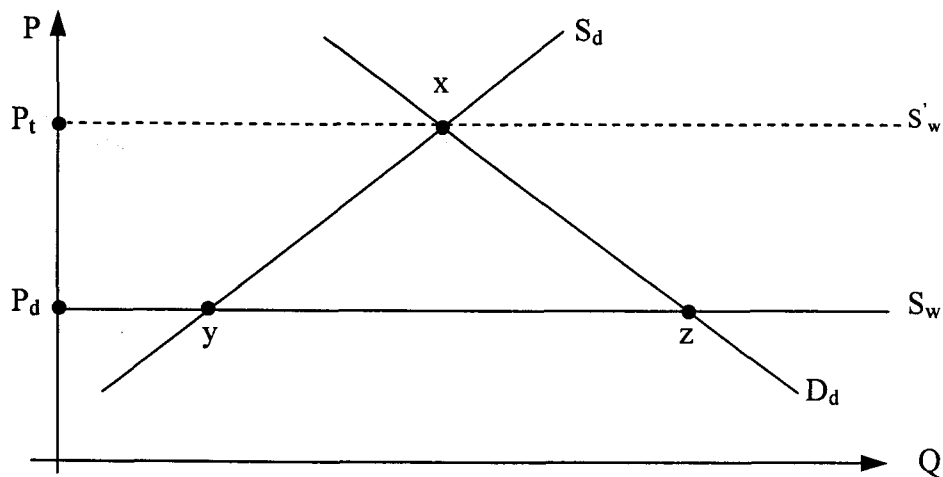
Rajah 4

...7/-

5. Rajah 5 menunjukkan pasaran kereta 1.6cc di sebuah negara kecil setelah negara ini mengenakan tarif pada kadar P_dP_t per unit kereta. Segi tiga xyz mengukur kerugian bersih yang dialami setiap masa oleh negara ini kerana pengenaan tarif ini. D_d dan S_d ialah keluk permintaan dan keluk penawaran dalam negeri manakala S_w ialah keluk penawaran dunia dalam keadaan perdagangan bebas.

(a) Apakah jenis tarif yang telah dikenakan oleh negara ini?

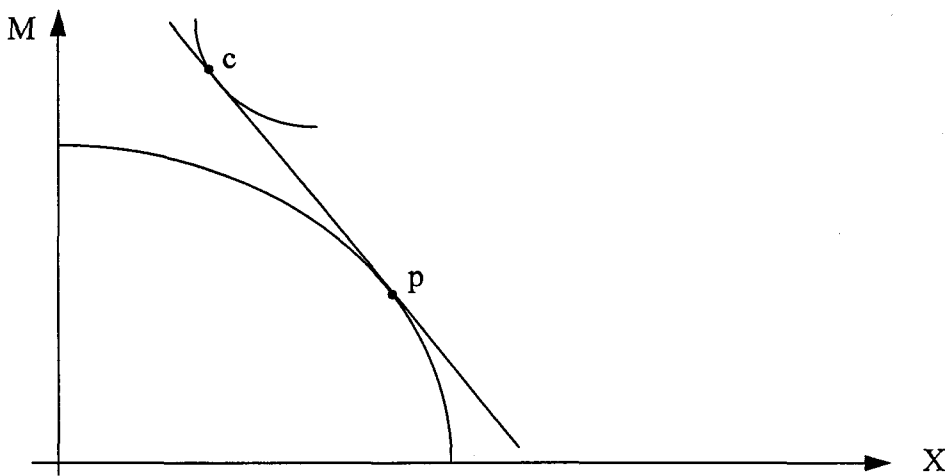
(b) Dengan bantuan rajah ini, terangkan bahawa pengurangan tarif sebanyak 50% akan menguntungkan negara ini.



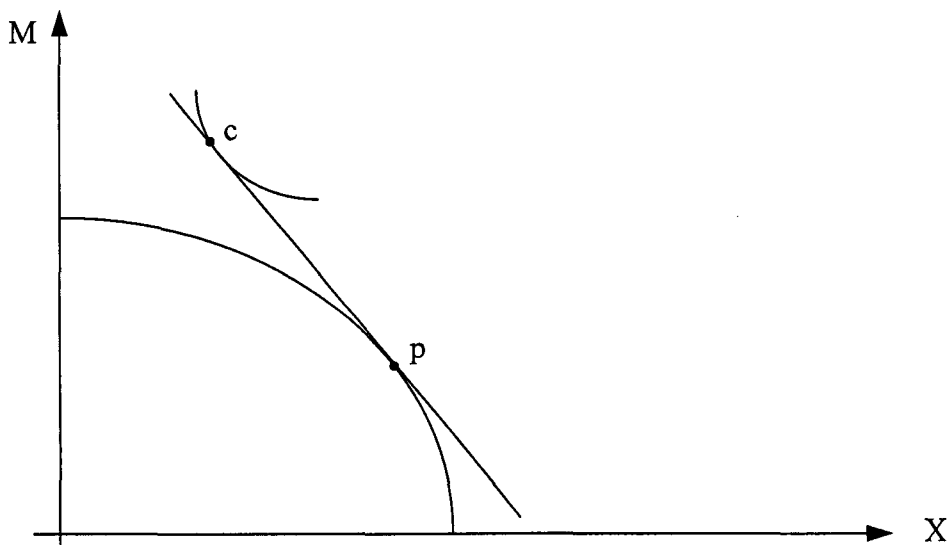
Rajah 5

6. Andaikan dunia dua input, buruh dan modal; dua komoditi, X dan M; dan dua buah negara, A dan B. Rajah 6a dan Rajah 6b menunjukkan titik pengeluaran, p, dan titik penggunaan, c, negara A, sebuah negara kaya buruh, dalam keadaan perdagangan bebas tetapi sebelum berlaku pertumbuhan faktor.

- (a) Buktikan di atas Rajah 6a bahawa jika negara A mengalami pertumbuhan buruh sahaja, perdagangan antarabangsa memburukkan syarat niaga negara A dan negara mengalami kerugian akibat pertumbuhan ini.
- (b) Buktikan di atas Rajah 6b bahawa jika negara A mengalami pertumbuhan modal sahaja, perdagangan antarabangsa memperbaiki syarat niaga negara A dan kebajikan negara telah meningkat akibat pertumbuhan ini.



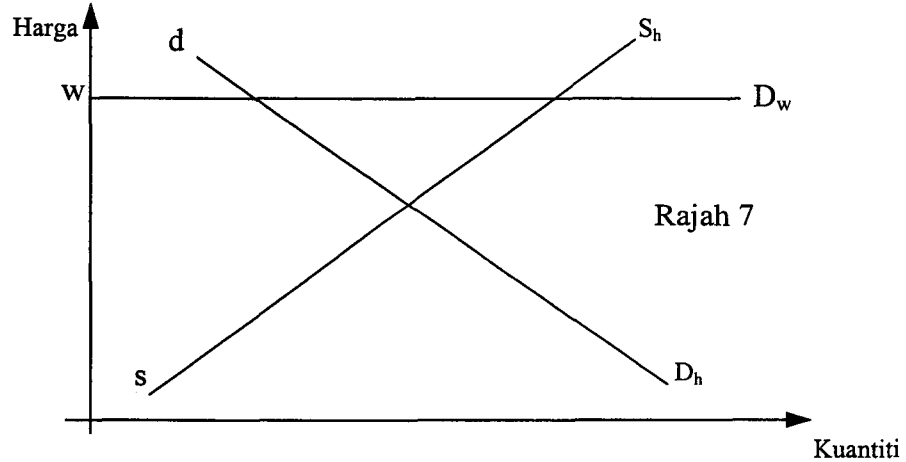
Rajah 6a



Rajah 6b

...9/-

7. Kaji Rajah 7 yang menunjukkan pasaran komputer mudah alih negara **h**, sebuah negara kecil. sS_h dan dD_h ialah, masing-masing, keluk penawaran dan keluk permintaan komputer di negara **h**. wD_w ialah keluk permintaan komputer mudah alih di pasaran dunia. Andaikan negara ini berdagang.



Tandakan titik-titik dan lukiskan garisan yang sesuai untuk menjawab soalan berikut.

- (a) Berapakah jumlah pengeluaran, jumlah jualan dalam negeri, jumlah eksport dan harga per unit komputer mudah alih?

Kerajaan negara ini (negara **h**) memutuskan mengenakan cukai eksport prohibitif, iaitu, cukai eksport yang menghapuskan eksport komputer mudah alih.

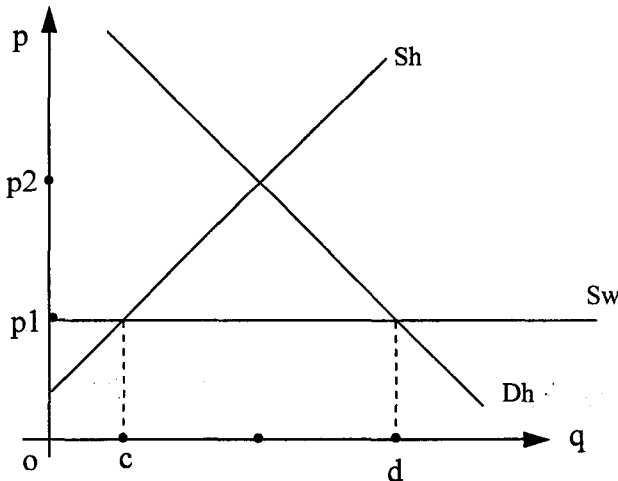
- (b) Lukiskan garisan harga berkesan yang diterima oleh pengeluar; tandakannya P^* .
- (c) Berapakah harga komputer mudah alih di pasaran dunia dan di pasaran domestik? _____

- (d) Berapakah jumlah pengeluaran, jumlah eksport dan jumlah jualan dalam negeri komputer mudah alih?

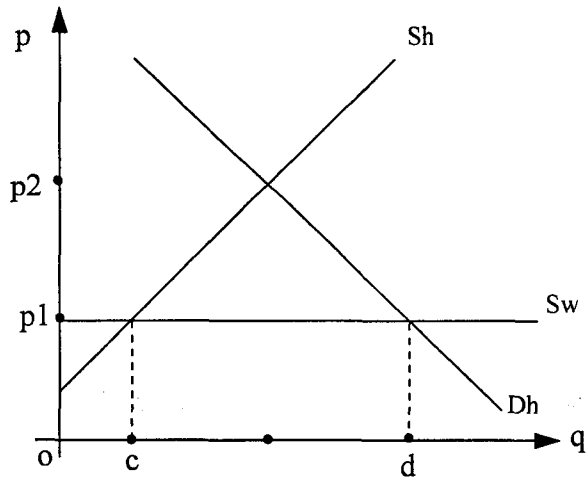
- (e) Adakah langkah mengenakan cukai eksport prohibitif ini menguntungkan negara ini? Terangkan.

...10/-

8. Rajah 8a dan 8b di bawah menunjukkan pasaran beras di sebuah negara kecil, yang mana Sh , Sw dan Dh , masing-masing, ialah keluk penawaran dalam negeri, keluk penawaran dunia dan keluk permintaan dalam negeri. Harga dalam negeri dalam keadaan perdagangan bebas ialah p_1 dan kuantiti import ialah cd .



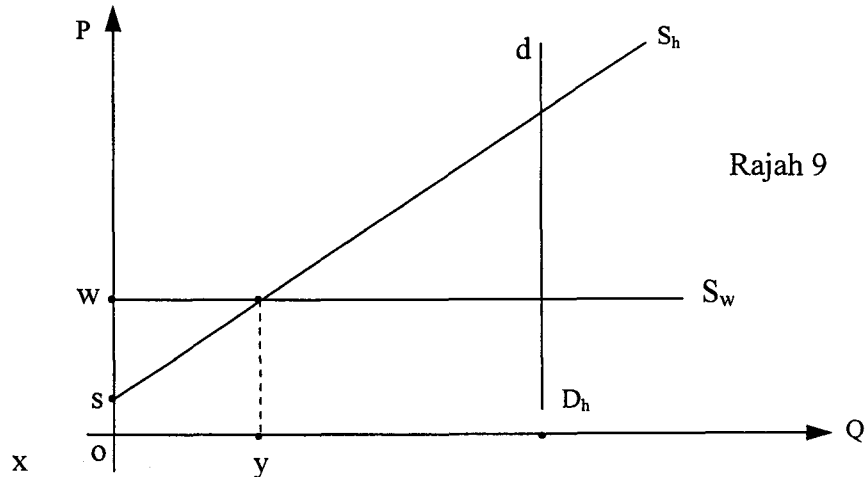
Rajah 8 a



Rajah 8 b

- (a) Subsidi pengeluaran ialah tambahan harga yang diterima oleh **pengeluar** manakala pengguna membayar harga pasaran tanpa subsidi. Tunjukkan di atas Rajah 8a, pemberian subsidi pengeluaran pada kadar p_1p_2 per unit dapat mencapai objektif meningkatkan output domestik sebanyak 50% daripada import ($50\% \times cd$) tetapi masyarakat mengalami kerugian yang lebih kecil berbanding pengenaan tarif import untuk mencapai objektif yang sama. Lorekkan kawasan kerugian yang dihadapi masyarakat kesan pemberian subsidi pengeluaran.
- (b) Cukai penggunaan ialah tambahan harga yang dibayar oleh **pengguna** manakala pengeluar menerima harga pasaran tanpa cukai penggunaan. Tunjukkan di atas Rajah 8b, pengenaan cukai penggunaan pada kadar p_1p_2 per unit dapat mencapai objektif mengurangkan kuantiti penggunaan sebanyak 50% daripada import ($50\% \times cd$) tetapi masyarakat mengalami kerugian yang lebih kecil berbanding pengenaan tarif import untuk mencapai objektif yang sama. Lorekkan kawasan kerugian yang dihadapi masyarakat kesan pengenaan cukai penggunaan.

9. Rajah 9 menggambarkan pasaran untuk telefon bimbit di Malaysia dalam keadaan perdagangan bebas, yang mana dD_h , sS_h dan sS_w ialah, masing-masing, keluk permintaan dalam negeri, keluk penawaran dalam negeri dan keluk penawaran dunia.

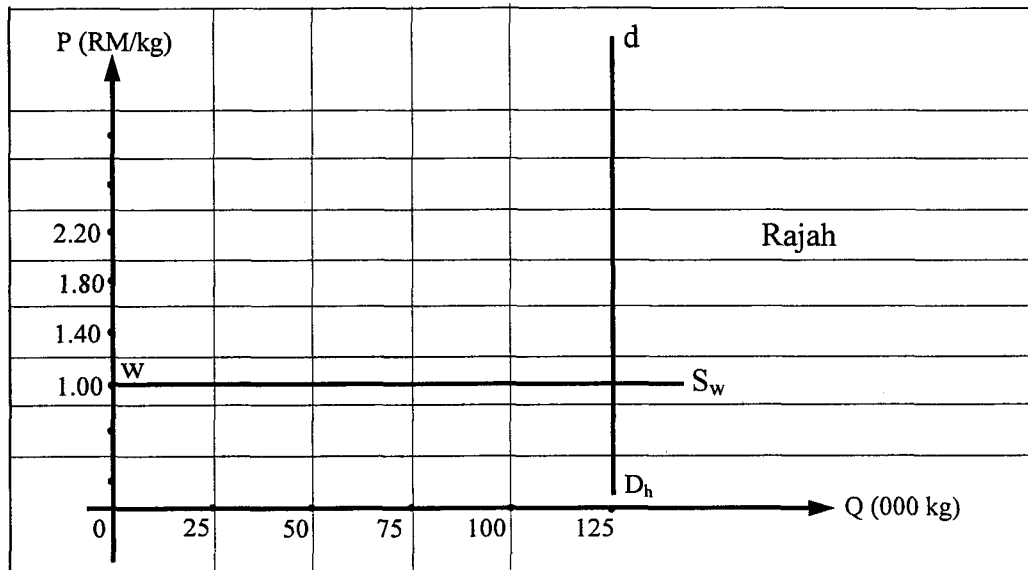


- (a) Secara ringkas, terangkan pasaran telefon bimbit di Malaysia.

- (b) Kerajaan ingin menghadkan jumlah import telefon bimbit ke 50% daripada jumlah import sekarang dengan mengenakan kuota import yang bersesuaian. Gunakan Rajah 9 untuk menghurai pasaran telefon bimbit setelah dasar ini dilaksanakan; pastikan anda juga jelaskan kesan kebijakan kerana pelaksanaan dasar ini.

...12/-

10. Rajah 10 menggambarkan pasaran apel di Malaysia, yang mana keseluruhan penggunaan apel diimport. Keluk penawaran import ialah wS_w .



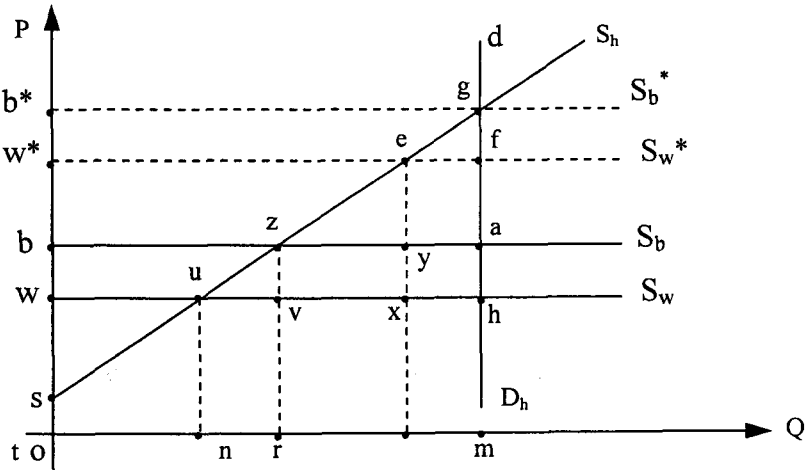
Kerajaan menetapkan kuota tarif seperti yang diberikan di jadual berikut:

Jumlah Import	Kadar Tarif (%)
25,000 kg pertama	0
25,000 kg berikutnya	20
25,000 kg berikutnya	60
25,000 kg berikutnya	100
25,000 kg berikutnya	140

- Berapakah harga dalam negeri dan kuantiti apel yang diimport setelah kuota tarif ini dilaksanakan? _____
- Lorekkan kawasan yang mengukur saiz tarif dan bintik-bintikkan kawasan yang mengukur keuntungan kuota.
- Berapakah nilai tarif yang dipungut dan berapakah nilai keuntungan kuota?

- Adakah Malaysia mengalami kerugian atau menikmati keuntungan kerana pelaksanaan kuota tarif ini?

11. Rajah 11 menunjukkan pasaran beras di negara h. sS_h dan dD_h ialah keluk penawaran dan keluk permintaan di negara h. wS_w dan bS_b ialah keluk penawaran negara w dan negara b. $w^*S_w^*$ dan $b^*S_b^*$ ialah keluk penawaran dari negara w dan b, masing-masing, apabila tarif bukan-diskriminatori dikenakan.



Rajah 11

- (a) Pada masa ini, negara h telah mengenakan tarif bukan-diskriminatori. Huraikan pasaran beras di negara h pada masa ini.

- (b) Haruskah negara h dan negara b tubuhkan kesatuan kastam? Mengapa?

...14/-

Lined writing area with 25 horizontal lines.