

**UNIVERSITI SAINS MALAYSIA**

**Peperiksaan Semester Pertama  
Sidang Akademik 2000/2001**

**September/Oktober 2000**

**DTM 323/2 - Biostatistik**

**Masa : [2 jam]**

---

**BAHAGIAN A : Wajib. (Tiap-tiap soalan bernilai 20 markah).**

**BAHAGIAN B : Jawab DUA (2) daripada TIGA (3) soalan.**

**(Tiap-tiap soalan bernilai 30 markah).**

---

....2/-

**BAHAGIAN A (Wajib)**

1. Kandungan prothrombin di dalam plasma (mg/100ml plasma) telah ditentukan bagi suatu sampel lelaki dan suatu sampel wanita. Berdasarkan data di bawah:

Kandungan prothrombin (mg/100 ml plasma)	
Lelaki, $X_1$	Perempuan, $X_2$
17	19
16	17
18	22
21	24
22	26
17	14
23	25
19	22

- (a) Beri alasan ujian statistik yang anda telah pilih.

(3 markah)

- (b) Lakukan ujian hipotesis untuk menentukan sama ada kandungan prothrombin pada wanita dan lelaki berbeza.

(17 markah)

...3/-

2. Suatu kajian telah dijalankan untuk membentuk persamaan kepekatan estron dalam air liur yang akan digunakan untuk meramalkan kepekatan estron dalam plasma darah. Berikut adalah data yang diperolehi bagi 14 lelaki dewasa:

x (kepekatan estron dalam air liur pg/ml)	y (kepekatan estron dalam plasma pg/ml)
7.4	30.0
7.5	25.0
8.5	31.5
9.0	27.5
9.0	39.5
11.0	38.0
13.0	43.0
14.0	49.0
14.5	55.0
16.0	48.5
17.0	51.0
18.0	64.5
20.0	63.0
23.0	68.0

- (a) Lakarkan plot serakan untuk data di atas
- (b) Hitung  $\sum x$ ,  $\sum x^2$ ,  $\sum y$ ,  $\sum xy$
- (c) Tentukan nilai  $\alpha$  dan  $\beta$  serta tuliskan persamaan regresi bagi data di atas. Pembolehubah yang mana satu adalah pembolehubah peramal (tak bersandar).
- (d) Lukiskan garis regresi linear yang anda telah tentukan dalam plot serakan anda.
- (e) Dengan menggunakan garis regresi tersebut, ramalkan aras estron dalam plasma seorang lelaki yang mengandungi estron air liur sebanyak 17.5 pg/ml.

(20 markah)

**BAHAGIAN B** (Jawab DUA (2) daripada **TIGA** (3) soalan).

3. Sebanyak 30 biji benih kacang dibahagikan secara rawak kepada 3 kumpulan yang setiap satunya terdiri daripada 10 biji benih. Kumpulan pertama dicambahkan dengan kehadiran bahan kimia A, kumpulan yang kedua dicambahkan dengan kehadiran bahan kimia B dan yang ketiga digunakan sebagai kawalan. Selepas 5 hari, panjang akar primer telah diukur (dalam milimeter) seperti berikut:-

Bahan Kimia A	Bahan Kimia B	Kawalan
115	120	82
103	125	97
98	122	105
121	100	90
130	90	102
107	128	98
106	121	105
120	115	89
100	130	100
125	120	90

- (a) Jalankan ujian statistik untuk menentukan sama ada terdapat kesan bahan kimia terhadap pertumbuhan akar. ( $\alpha = 0.05$ )
- (b) Lakukan perbandingan semua min dengan kaedah LSD ( $\alpha = 0.05$ ) dan tunjukkan keputusan dengan sistem abjad.

(30 markah)

...5/-

[DTM 323/2]

4. (a) Tekanan sistolik bagi 90 orang lelaki mempunyai min 128.9 mm raksa dan sisihan piawai 17 mm raksa.
- (i) Hitung selang keyakinan 95% bagi min pop tekanan darah sistolik orang lelaki?  
(5 markah)
- (ii) Apakah anggapan yang anda perlu buat terhadap tekanan darah sistolik orang lelaki.  
(2 markah)
- (iii) Berapa lebar selang keyakinan ini, jika selang keyakinan dinaikkan ke 99%?  
(5 markah)
- (iv) Jika saiz sample meningkat ke 360, berapa lebar selang keyakinan 95% yang baru ini. Bandingkan dengan jawapan (a) dan beri ulasan.  
(8 markah)
- (b) Kajian terdahulu mendapati min berat badan ikan keli Afrika yang matang (selepas 6 bulan) adalah 3,500 gram. Tetapi seorang penternak ikan berpendapat ikan keli ini boleh menambahkan lagi berat badannya dengan memberi makanan baru yang telah dicipta oleh beliau. Maka dipilih 20 ekor anak ikan keli Afrika secara rambang dan diberi makanan baru beliau. Selepas enam bulan, kesemua 20 ekor ikan yang matang itu ditimbang. Data adalah seperti berikut (unit gram).

...6/-

3420	4000
3373	3670
3580	3700
3220	3800
3600	3770
3890	3991
3770	3760
3810	3220
3710	3830
3830	3910

- (i) Jalankan ujian statistik yang sesuai untuk menguji pendapat penternak ikan itu. ( $\alpha = 0.05$ ).
- (ii) Pada pendapat anda, adakah anda akan syorkan diet makanan baru itu kepada penternak ikan yang lain.

(10 markah)

5. (a) Sebanyak 300 orang yang menghidap penyakit tekanan darah tinggi telah dirawat di sebuah klinik selama 2 tahun dan pesakit diberi salah satu daripada 3 jenis ubat (ubat A, B atau C). Pada akhir bulan ketiga, keadaan pesakit dikategorikan sebagai 'tidak berubah' atau 'bertambah baik'. Data dibawah menunjukkan bilangan yang terdapat dalam setiap kategori:

	Tidak Berubah	Bertambah Baik	
Ubat A	20	20	40
Ubat B	40	60	100
Ubat C	40	120	160
	100	200	300

Jalankan ujian statistik untuk menentukan sama ada terdapat perbezaan di antara ubat-ubat tersebut. Gunakan aras keertian,  $\alpha = 0.05$ .

(15 markah)

(b) Tuliskan nota ringkas tentang yang berikut:-

- (i) Aras keertian sesuatu ujian statistik.
- (ii) Perbezaan antara data ordinal dan data nominal.
- (iii) Teorem had memusat.
- (iv) Taburan Poisson dan contohnya.
- (v) Taburan Normal dan contohnya.

(15 markah)

-oooOooo-

...8/-

**RUMUSAN-RUMUSAN PANDUAN**

1. **Taburan Kebarangkalian Binomial**

$$P_{k,p}(x) = \binom{k}{x} p^x q^{k-x}$$

2. **Taburan Kebarangkalian Poisson**

$$f(x) = \frac{\alpha^x e^{-\alpha}}{x!}$$

3. **Ujian-t bagi dua sampel berpasangan**

$$(i) \quad S_{\bar{d}} = \frac{S_d}{\sqrt{n}}$$

$$(ii) \quad S_d = \sqrt{\frac{\sum (d_i - \bar{d})^2}{n-1}}$$

4. **Ujian-t bagi dua sampel tak bersandaran**

Anggaran bagi varians populasi

$$(i) \quad S_p^2 = \frac{S_1^2 + S_2^2}{2}, \quad \text{bagi } n_1 = n_2$$

$$(ii) \quad S_{\bar{x}_1 - \bar{x}_2}^2 = \frac{2 S_p^2}{n}$$

5. Selang keyakinan untuk min =  $\bar{x} \pm L$  di mana,  $L = \frac{k \sigma}{\sqrt{n}}$

dan k = nilai t atau z yang berkenaan.



6. Anggaran kecerunan garis regresi linear

$$b = \frac{\sum x_i y_i - \frac{\sum x_i \sum y_i}{n}}{\sum x_i^2 - \frac{(\sum x_i)^2}{n}}$$

7. Ujian Kebaikan cocokan

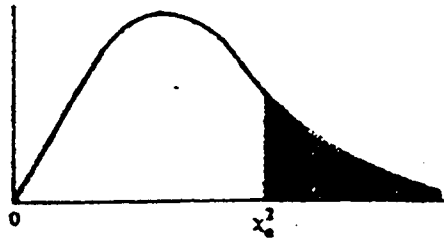
$$\chi^2 = \sum_{i=1}^k \frac{(O_i - E_i)^2}{E_i}$$

8. Anggaran pekali korelasi Pearson

$$r = \frac{n \sum x_i y_i - \sum x_i \sum y_i}{\sqrt{[n \sum x_i^2 - (\sum x_i)^2] [n \sum y_i^2 - (\sum y_i)^2]}}$$

9. L.S.D. = t x ralat piawai =  $t \times \sqrt{\frac{2s^2}{n}}$

Sifir Nilai-Nilai Genting Bagi Taburan  $\chi^2$

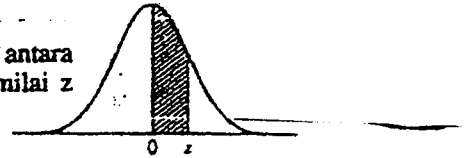


df	$\alpha$							
	0.995	0.99	0.975	0.95	0.05	0.025	0.01	0.005
1	0.00393	0.0157	0.00982	0.00393	3.841	5.024	6.635	7.879
2	0.0100	0.0201	0.0306	0.103	5.991	7.378	9.210	10.597
3	0.0717	0.115	0.216	0.352	7.815	9.348	11.345	12.838
4	0.207	0.297	0.484	0.711	9.488	11.143	13.277	14.860
5	0.412	0.534	0.831	1.145	11.070	12.832	15.086	16.750
6	0.676	0.872	1.237	1.635	12.592	14.449	16.812	18.548
7	0.989	1.239	1.690	2.167	14.067	16.013	18.475	20.278
8	1.344	1.646	2.180	2.733	15.507	17.535	20.090	21.955
9	1.735	2.088	2.700	3.325	16.919	19.023	21.666	23.589
10	2.156	2.558	3.247	3.940	18.307	20.483	23.209	25.188
11	2.603	3.053	3.816	4.575	19.675	21.920	24.725	26.757
12	3.074	3.571	4.404	5.226	21.026	23.337	26.217	28.300
13	3.565	4.107	5.009	5.892	22.362	24.736	27.688	29.819
14	4.075	4.660	5.629	6.571	23.685	26.119	29.141	31.319
15	4.601	5.229	6.262	7.261	24.996	27.488	30.578	32.801
16	5.142	5.812	6.908	7.962	26.296	28.845	32.000	34.267
17	5.697	6.408	7.564	8.672	27.587	30.191	33.409	35.718
18	6.265	7.015	8.231	9.390	28.869	31.526	34.805	37.156
19	6.844	7.633	8.907	10.117	30.144	32.852	36.191	38.582
20	7.434	8.260	9.591	10.851	31.410	34.170	37.566	39.997
21	8.034	8.897	10.283	11.591	32.671	35.479	38.932	41.401
22	8.643	9.542	10.982	12.338	33.924	36.781	40.289	42.796
23	9.260	10.196	11.689	13.091	35.172	38.076	41.638	44.181
24	9.886	10.856	12.401	13.848	36.415	39.364	42.980	45.558
25	10.520	11.524	13.120	14.611	37.652	40.646	44.314	46.928
26	11.160	12.198	13.844	15.379	38.885	41.923	45.642	48.290
27	11.808	12.879	14.573	16.151	40.113	43.194	46.963	49.645
28	12.461	13.565	15.308	16.928	41.337	44.461	48.278	50.993
29	13.121	14.256	16.047	17.708	42.557	45.722	49.583	52.336
30	13.787	14.953	16.791	18.493	43.773	46.979	50.892	53.672

\* Abridged from Table 8 of *Biometrika Tables for Statisticians*, Vol. 1, by permission of E. S. Pearson and the Biometrika Trustees.

Jadual 1 : Sifir Keluasan Di Bawah Lengkung Normal Piawai

Nilai di dalam sifir ialah kadaran di bawah lengkung di antara  $z = 0$  dan sesuatu nilai  $z$  positif. Keluasan bagi nilai-nilai  $z$  negatif boleh didapatkan dengan simetri.



Tempat perpuluhan kedua untuk  $z$

$z$	.00	.01	.02	.03	.04	.05	.06	.07	.08	.09
0.0	.0000	.0040	.0080	.0120	.0160	.0199	.0239	.0279	.0319	.0359
0.1	.0398	.0438	.0478	.0517	.0557	.0596	.0636	.0675	.0714	.0753
0.2	.0793	.0832	.0871	.0910	.0948	.0987	.1026	.1064	.1103	.1141
0.3	.1179	.1217	.1255	.1293	.1331	.1368	.1406	.1443	.1480	.1517
0.4	.1554	.1591	.1628	.1664	.1700	.1736	.1772	.1808	.1844	.1879
0.5	.1915	.1950	.1985	.2019	.2054	.2088	.2123	.2157	.2190	.2224
0.6	.2257	.2291	.2324	.2357	.2389	.2422	.2454	.2486	.2517	.2549
0.7	.2580	.2611	.2642	.2673	.2703	.2734	.2764	.2794	.2823	.2852
0.8	.2881	.2910	.2939	.2967	.2995	.3023	.3051	.3078	.3106	.3133
0.9	.3159	.3186	.3212	.3238	.3264	.3289	.3315	.3340	.3365	.3389
1.0	.3413	.3438	.3461	.3485	.3508	.3531	.3554	.3577	.3599	.3621
1.1	.3643	.3665	.3686	.3708	.3729	.3749	.3770	.3790	.3810	.3830
1.2	.3849	.3869	.3888	.3907	.3925	.3944	.3962	.3980	.3997	.4015
1.3	.4032	.4049	.4066	.4082	.4099	.4115	.4131	.4147	.4162	.4177
1.4	.4192	.4207	.4222	.4236	.4251	.4265	.4279	.4292	.4306	.4319
1.5	.4332	.4345	.4357	.4370	.4382	.4394	.4406	.4418	.4429	.4441
1.6	.4452	.4463	.4474	.4484	.4495	.4505	.4515	.4525	.4535	.4545
1.7	.4554	.4564	.4573	.4582	.4591	.4599	.4608	.4616	.4625	.4633
1.8	.4641	.4649	.4656	.4664	.4671	.4678	.4686	.4693	.4699	.4706
1.9	.4713	.4719	.4726	.4732	.4738	.4744	.4750	.4756	.4761	.4767
2.0	.4772	.4778	.4783	.4788	.4793	.4798	.4803	.4808	.4812	.4817
2.1	.4821	.4826	.4830	.4834	.4838	.4842	.4846	.4850	.4854	.4857
2.2	.4861	.4864	.4868	.4871	.4875	.4878	.4881	.4884	.4887	.4890
2.3	.4893	.4896	.4898	.4901	.4904	.4906	.4909	.4911	.4913	.4916
2.4	.4918	.4920	.4922	.4925	.4927	.4929	.4931	.4932	.4934	.4936
2.5	.4938	.4940	.4941	.4943	.4945	.4946	.4948	.4949	.4951	.4952
2.6	.4953	.4955	.4956	.4957	.4959	.4960	.4961	.4962	.4963	.4964
2.7	.4965	.4966	.4967	.4968	.4969	.4970	.4971	.4972	.4973	.4974
2.8	.4974	.4975	.4976	.4977	.4977	.4978	.4979	.4979	.4980	.4981
2.9	.4981	.4982	.4982	.4983	.4984	.4984	.4985	.4985	.4986	.4986
3.0	.4987	.4987	.4987	.4988	.4988	.4989	.4989	.4989	.4990	.4990

From Paul G. Hoel, *Elementary Statistics*, 3rd ed., ©1971, John Wiley and Sons, Inc., New York, p. 287.

Jadual 2 : Sifir Nilai-Nilai Genting untuk t

df	Aras keertian untuk ujian satu hujung					
	.10	.05	.025	.01	.005	.0005
	Aras keertian untuk ujian dua hujung					
	20	.10	.05	.02	.01	.001
1	3.078	6.314	12.706	31.821	63.657	636.619
2	1.886	2.920	4.303	6.965	9.925	31.598
3	1.638	2.353	3.182	4.541	5.841	12.941
4	1.533	2.132	2.776	3.747	4.604	8.610
5	1.476	2.016	2.671	3.365	4.032	6.859
6	1.440	1.943	2.447	3.143	3.707	5.959
7	1.415	1.895	2.365	2.998	3.499	5.405
8	1.397	1.860	2.306	2.896	3.355	5.041
9	1.383	1.833	2.262	2.821	3.250	4.781
10	1.372	1.812	2.228	2.764	3.169	4.587
11	1.363	1.796	2.201	2.718	3.106	4.437
12	1.356	1.782	2.179	2.661	3.055	4.318
13	1.350	1.771	2.160	2.650	3.012	4.221
14	1.345	1.761	2.145	2.624	2.977	4.140
15	1.341	1.753	2.131	2.602	2.947	4.073
16	1.337	1.746	2.120	2.583	2.921	4.015
17	1.333	1.740	2.110	2.567	2.898	3.965
18	1.330	1.734	2.101	2.553	2.878	3.922
19	1.328	1.729	2.093	2.539	2.861	3.883
20	1.325	1.725	2.086	2.528	2.845	3.850
21	1.323	1.721	2.080	2.518	2.831	3.819
22	1.321	1.717	2.074	2.508	2.819	3.792
23	1.319	1.714	2.069	2.500	2.807	3.767
24	1.318	1.711	2.064	2.492	2.797	3.745
25	1.316	1.708	2.060	2.485	2.787	3.725
26	1.315	1.706	2.056	2.479	2.779	3.707
27	1.314	1.703	2.052	2.473	2.771	3.690
28	1.313	1.701	2.048	2.467	2.763	3.674
29	1.311	1.699	2.045	2.462	2.756	3.659
30	1.310	1.697	2.042	2.457	2.750	3.646
40	1.303	1.684	2.021	2.423	2.704	3.551
60	1.296	1.671	2.000	2.390	2.660	3.460
120	1.289	1.658	1.980	2.358	2.617	3.373
∞	1.282	1.645	1.960	2.326	2.576	3.291

\* Table B is abridged from Table III of Fisher and Yates: *Statistical tables for biological, agricultural, and medical research*, published by Oliver and Boyd Ltd., Edinburgh, by permission of the authors and publishers.

Sifir Kebarangkalian Yang Berkait Dengan Nilai X Yang Sekecil Nilai Cerapan Di Dalam Ujian Binomial.

Yang diberikan di dalam badan sifir ini ialah kebarangkalian satu hujung di bawah  $H : p = q = 0.5$ . Untuk menjimatkan ruang, titik desimal untuk p tidak dicatatkan.

n \ x	0	1	2	3	4	5	6	7	8	9	10	11	12	13	14	15
5	031	188	500	812	969	†										
6	016	109	344	656	891	984	†									
7	008	062	227	500	773	938	992	†								
8	004	035	145	363	637	855	965	996	†							
9	002	020	090	254	500	746	910	980	998	†						
10	001	011	055	172	377	623	828	945	989	999	†					
11		006	033	113	274	500	726	887	967	994	†	†				
12		003	019	073	194	387	613	806	927	981	997	†	†			
13		002	011	046	133	291	500	709	867	954	989	998	†	†		
14		001	006	029	090	212	395	605	788	910	971	994	999	†	†	
15			004	018	059	151	304	500	696	849	941	982	996	†	†	†
16			002	011	038	105	227	402	598	773	895	962	989	998	†	†
17			001	006	025	072	166	315	500	685	834	928	975	994	999	†
18			001	004	015	048	119	240	407	593	760	881	952	985	996	999
19				002	010	032	084	180	324	500	676	820	916	968	990	998
20				001	006	021	058	132	252	412	588	748	868	942	979	994
21				001	004	013	039	095	192	332	500	668	808	905	961	987
22					002	008	026	067	143	262	416	584	738	857	933	974
23					001	005	017	047	105	202	339	500	661	798	895	953
24					001	003	011	032	076	154	271	419	581	729	846	924
25						002	007	022	054	115	212	345	500	655	788	885

\* Adapted from Table IV, B, of Walker, Helen, and Lev, J. 1953. *Statistical inference*. New York: Holt, p. 458, with the kind permission of the authors and publisher.

† 1.0 or approximately 1.0.

18 BASIC DISTRIBUTIONS AND SIGNIFICANCE TABLES

PERCENTAGE POINTS OF THE F DISTRIBUTION

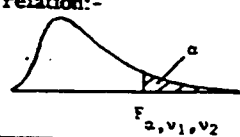
The table gives the values of  $F_{\alpha; \nu_1, \nu_2}$  the 100 $\alpha$  percentage point of the F distribution having  $\nu_1$  degrees of freedom in the numerator and  $\nu_2$  degrees of freedom in the denominator.

For each pair of values of  $\nu_1$  and  $\nu_2$ ,  $F_{\alpha; \nu_1, \nu_2}$  is tabulated for  $\alpha = 0.05, 0.025, 0.01, 0.001$ , the 0.025 values being bracketed.

The lower percentage points of the distribution may be obtained from the relation:-

$$F_{1-\alpha; \nu_1, \nu_2} = 1/F_{\alpha; \nu_2, \nu_1}$$

e.g.  $F_{.95; 12, 8} = 1/F_{.05; 8, 12} = 1/2.85 = 0.351$



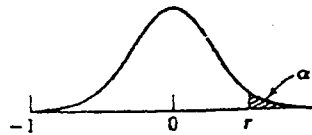
$\nu_2 \backslash \nu_1$	1	2	3	4	5	6	7	8	10	12	24	$\infty$
1	161.4 (648) 4052 4053*	199.5 (800) 5200 5200*	215.7 (864) 5403 5404*	224.6 (900) 5625 5625*	230.2 (922) 5764 5764*	234.0 (937) 5859 5859*	236.8 (948) 5928 5929*	238.9 (957) 5981 5981*	241.9 (969) 6056 6056*	243.9 (977) 6106 6107*	249.0 (997) 6235 6235*	254.3 (1018) 6366 6366*
2	18.5 (38.5) 98.5 998.5	19.0 (39.0) 99.0 999.0	19.2 (39.2) 99.2 999.2	19.2 (39.2) 99.2 999.2	19.3 (39.3) 99.3 999.3	19.3 (39.3) 99.3 999.3	19.4 (39.4) 99.4 999.4	19.4 (39.4) 99.4 999.4	19.4 (39.4) 99.4 999.4	19.4 (39.4) 99.4 999.4	19.5 (39.5) 99.5 999.5	19.5 (39.5) 99.5 999.5
3	10.13 (17.4) 34.1 167.0	9.55 (16.0) 30.8 148.5	9.28 (15.4) 29.5 141.1	9.12 (15.1) 28.7 137.1	9.01 (14.9) 28.2 134.6	8.94 (14.7) 27.9 132.8	8.89 (14.6) 27.7 131.5	8.85 (14.5) 27.5 130.6	8.79 (14.4) 27.2 129.2	8.74 (14.3) 27.1 128.3	8.64 (14.1) 26.6 125.9	8.53 (13.9) 26.1 123.5
4	7.71 (12.22) 21.2 74.14	6.94 (10.65) 18.0 61.25	6.59 (9.98) 16.7 56.18	6.39 (9.60) 16.0 53.44	6.26 (9.36) 15.5 51.71	6.16 (9.20) 15.2 50.53	6.09 (9.07) 15.0 49.66	6.04 (8.98) 14.8 49.00	5.96 (8.84) 14.5 48.05	5.91 (8.75) 14.4 47.41	5.77 (8.51) 13.9 45.77	5.63 (8.26) 13.5 44.05
5	6.61 (10.01) 16.26 47.18	5.79 (8.43) 13.27 37.12	5.41 (7.76) 12.06 33.20	5.19 (7.39) 11.39 31.09	5.05 (7.15) 10.97 29.75	4.95 (6.98) 10.67 28.83	4.88 (6.85) 10.46 28.16	4.82 (6.76) 10.29 27.65	4.74 (6.62) 10.05 26.92	4.68 (6.52) 9.89 26.42	4.53 (6.28) 9.47 25.14	4.36 (6.02) 9.02 23.79
6	5.99 (8.81) 13.74 35.51	5.14 (7.26) 10.92 27.00	4.76 (6.60) 9.78 23.70	4.53 (6.23) 9.15 21.92	4.39 (5.99) 8.75 20.80	4.28 (5.82) 8.47 20.03	4.21 (5.70) 8.26 19.46	4.15 (5.60) 8.10 19.03	4.06 (5.46) 7.87 18.41	4.00 (5.37) 7.72 17.99	3.84 (5.12) 7.31 16.90	3.67 (4.85) 6.88 15.75
7	5.59 (8.07) 12.25 29.25	4.74 (6.54) 9.55 21.69	4.35 (5.89) 8.45 18.77	4.12 (5.52) 7.85 17.20	3.97 (5.29) 7.46 16.21	3.87 (5.12) 7.19 15.52	3.79 (4.99) 6.99 15.02	3.73 (4.90) 6.84 14.63	3.64 (4.76) 6.62 14.08	3.57 (4.67) 6.47 13.71	3.41 (4.42) 6.07 12.73	3.23 (4.14) 5.65 11.70
8	5.32 (7.57) 11.26 25.42	4.46 (6.06) 8.65 18.49	4.07 (5.42) 7.59 15.83	3.84 (5.05) 7.01 14.39	3.69 (4.82) 6.63 13.48	3.58 (4.65) 6.37 12.86	3.50 (4.53) 6.18 12.40	3.44 (4.43) 6.03 12.05	3.35 (4.30) 5.81 11.54	3.28 (4.20) 5.67 11.19	3.12 (3.95) 5.28 10.30	2.93 (3.67) 4.86 9.34
9	5.12 (7.21) 10.56 22.86	4.26 (5.71) 8.02 16.39	3.86 (5.08) 6.99 13.90	3.63 (4.72) 6.42 12.56	3.48 (4.48) 6.06 11.71	3.37 (4.32) 5.80 11.13	3.29 (4.20) 5.61 10.69	3.23 (4.10) 5.47 10.37	3.14 (3.96) 5.26 9.87	3.07 (3.87) 5.11 9.57	2.90 (3.61) 4.73 8.72	2.71 (3.33) 4.31 7.81
10	4.96 (6.94) 10.04 21.04	4.10 (5.46) 7.56 14.91	3.71 (4.83) 6.55 12.55	3.48 (4.47) 5.99 11.28	3.33 (4.24) 5.64 10.48	3.22 (4.07) 5.39 9.93	3.14 (3.95) 5.20 9.52	3.07 (3.85) 5.06 9.20	2.98 (3.72) 4.85 8.74	2.91 (3.62) 4.71 8.44	2.74 (3.37) 4.33 7.64	2.54 (3.08) 3.91 6.76
11	4.84 (6.72) 9.65 19.69	3.98 (5.26) 7.21 13.81	3.59 (4.63) 6.22 11.56	3.36 (4.28) 5.67 10.35	3.20 (4.04) 5.32 9.58	3.09 (3.88) 5.07 9.05	3.01 (3.76) 4.89 8.66	2.95 (3.66) 4.74 8.35	2.85 (3.53) 4.54 7.92	2.79 (3.43) 4.40 7.63	2.61 (3.17) 4.02 6.85	2.40 (2.88) 3.80 6.00
12	4.75 (6.55) 9.33 18.64	3.89 (5.10) 6.93 12.97	3.49 (4.47) 5.95 10.80	3.26 (4.12) 5.41 9.63	3.11 (3.89) 5.06 8.89	3.00 (3.73) 4.82 8.38	2.91 (3.61) 4.64 8.00	2.85 (3.51) 4.50 7.71	2.75 (3.37) 4.30 7.29	2.69 (3.28) 4.16 7.00	2.51 (3.02) 3.78 6.25	2.30 (2.72) 3.36 5.42
13	4.67 (6.41) 9.07 17.82	3.81 (4.97) 6.70 12.31	3.41 (4.35) 5.74 10.21	3.18 (4.00) 5.21 9.07	3.03 (3.77) 4.86 8.35	2.92 (3.60) 4.62 7.86	2.83 (3.48) 4.44 7.49	2.77 (3.39) 4.30 7.21	2.67 (3.25) 4.10 6.80	2.60 (3.15) 3.96 6.52	2.42 (2.89) 3.59 5.78	2.21 (2.60) 3.17 4.97

\* Entries marked thus must be multiplied by 100

Lampiran 4

Nilai-Nilai Genting Untuk Pekali Korelasi Pearson, r

Untuk ujian dua hujung,  $\alpha$  ialah dua kali nilai aras keertian yang tercatat di pangkal sifar setiap lajur untuk nilai-nilai genting bagi r. Misalnya bagi  $\alpha = 0.05$ , pilih lajur untuk 0.025.



$\alpha$ n	0.05	0.025	0.010	0.005
5	0.805	0.878	0.934	0.959
6	0.729	0.811	0.882	0.917
7	0.669	0.754	0.833	0.875
8	0.621	0.707	0.789	0.834
9	0.582	0.666	0.750	0.798
10	0.549	0.632	0.716	0.765
11	0.521	0.602	0.685	0.735
12	0.497	0.576	0.658	0.708
13	0.476	0.553	0.634	0.684
14	0.457	0.532	0.612	0.661
15	0.441	0.514	0.592	0.641
16	0.426	0.497	0.574	0.623

$\alpha$ n	0.05	0.025	0.010	0.005
17	0.412	0.482	0.558	0.606
18	0.400	0.468	0.542	0.590
19	0.389	0.456	0.528	0.575
20	0.378	0.444	0.516	0.561
25	0.337	0.396	0.462	0.505
30	0.306	0.361	0.423	0.463
40	0.264	0.312	0.366	0.402
50	0.235	0.279	0.328	0.361
60	0.214	0.254	0.300	0.330
80	0.185	0.220	0.260	0.286
100	0.165	0.196	0.232	0.256

Tables VI dan VII are from Paul G. Hoel, *Elementary Statistics*, 3rd ed., © 1971, John Wiley and Sons, Inc., New York, pp. 289, 292 - 294.

