

UNIVERSITI SAINS MALAYSIA

Peperiksaan Semester Pertama

Sidang 1987/88

RPE 445 - Sejarah Perancangan

Tarikh: 2 November 1987

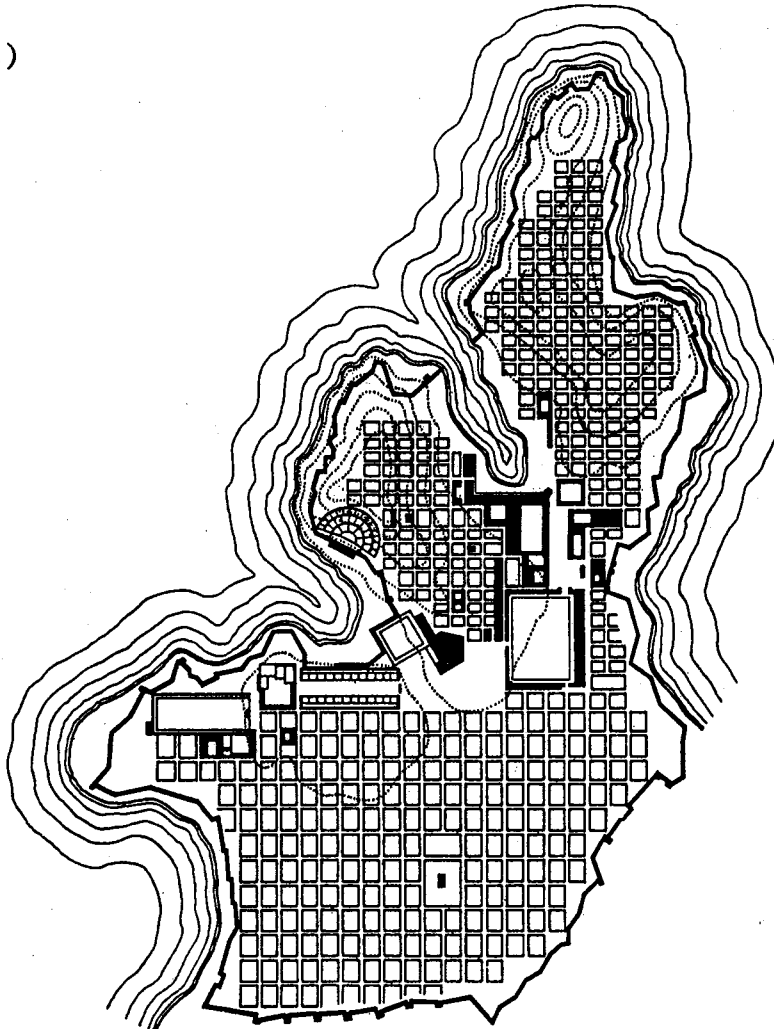
Masa: 9.00 pagi - 12.00 t/hari
(3 jam)

Sila pastikan bahawa kertas peperiksaan ini mengandungi TUJUH muka surat yang tercetak sebelum anda memulakan peperiksaan ini.

Jawab SEMUA soalan.

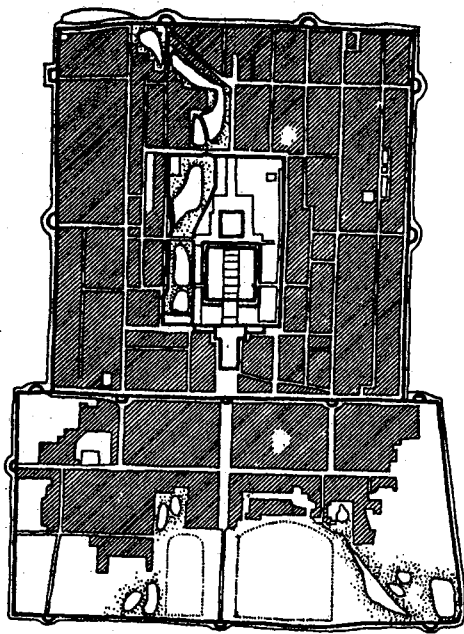
1. Pilih lima dari pelan-pelan yang di bawah dan nyatakan zaman/tamaddun dimana setiap satunya terdapat.

(a)

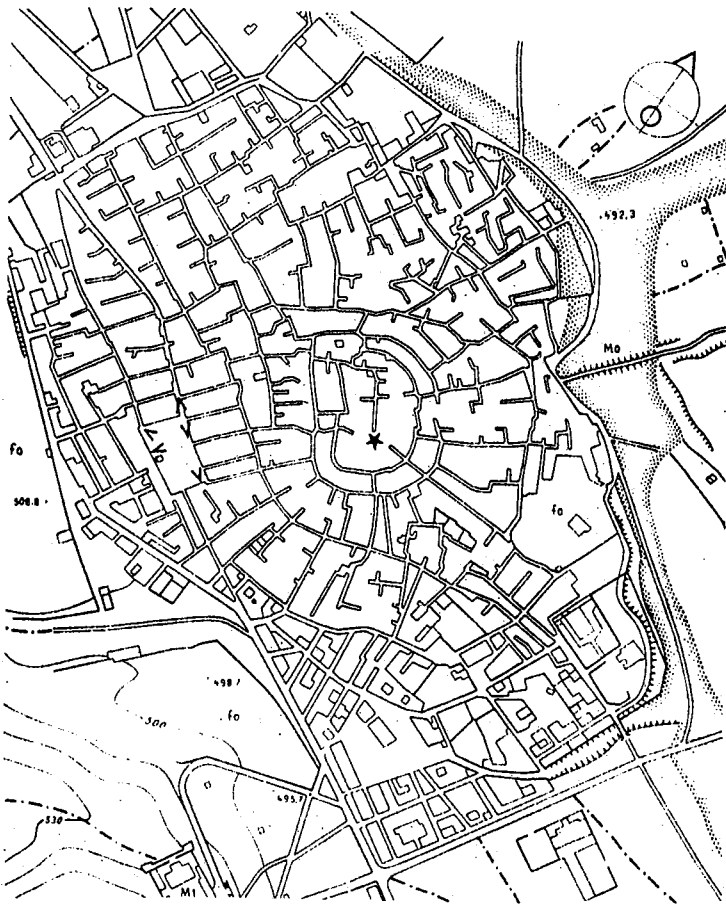


...2/-

(b)

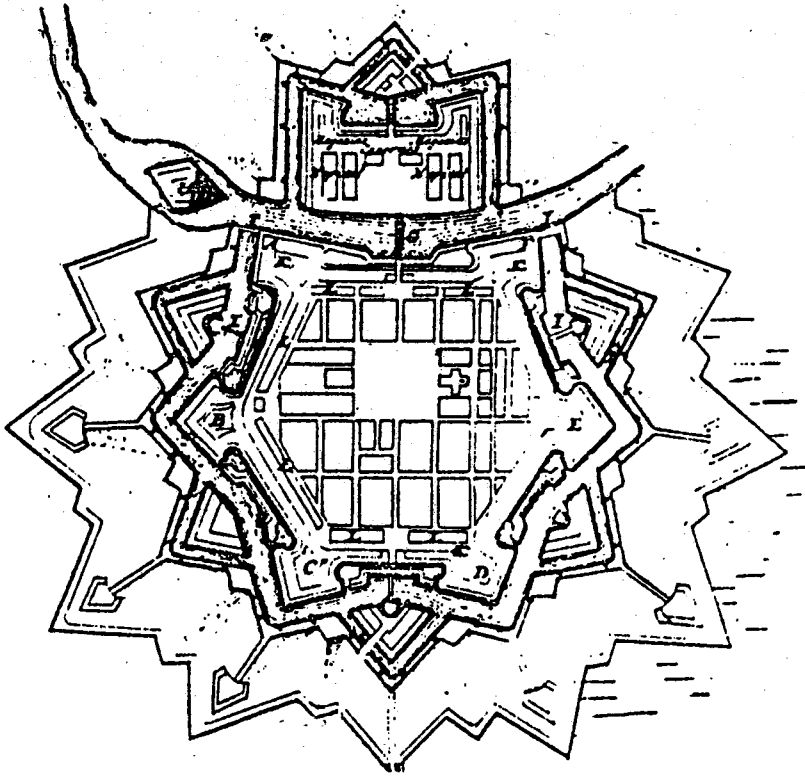


(c)

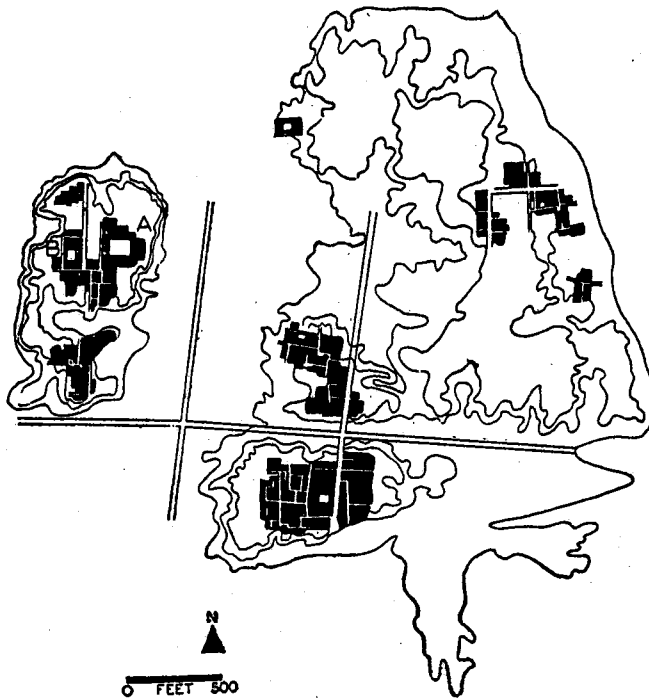


...3/-

(d)

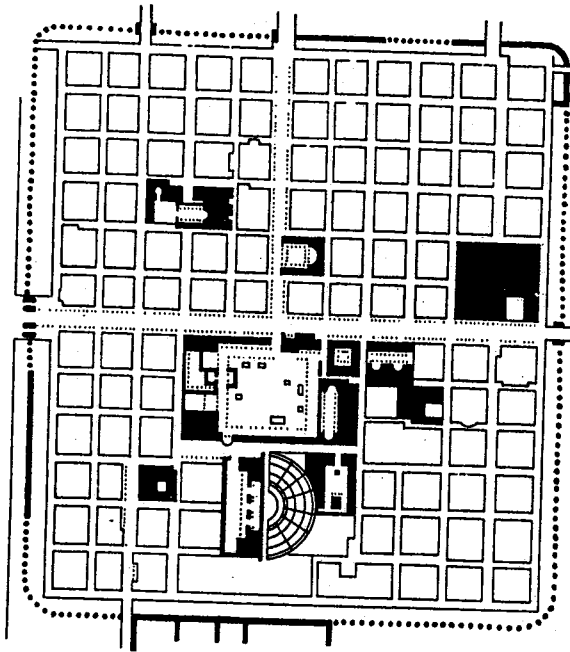


(e)

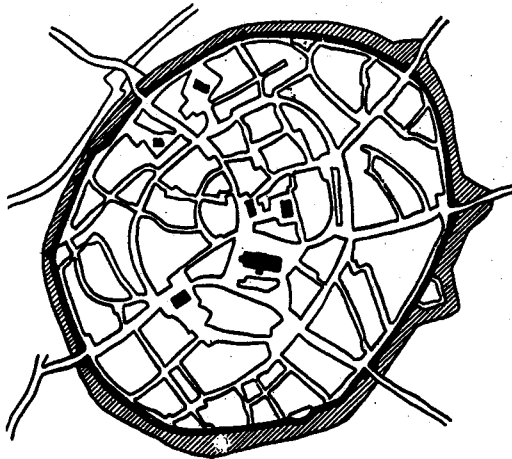


...4/-

(f)



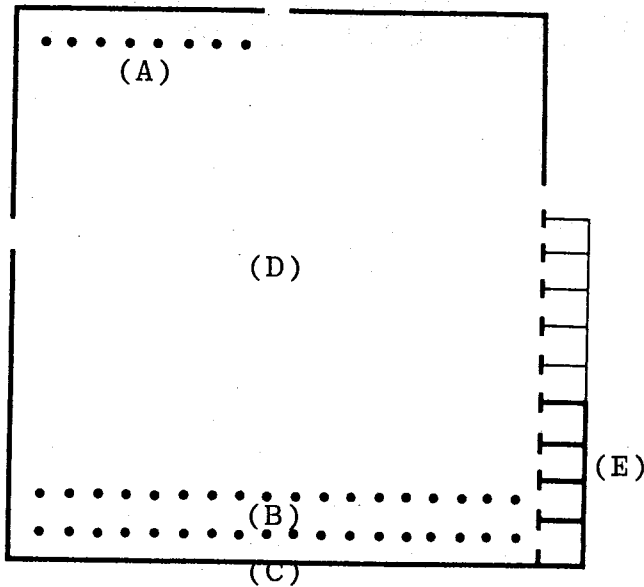
(g)



(5 markah)

...5/-

2.



- (a) Berikan nama pelan yang tertera di atas.
- (b) Namakan ruang-ruang yang ditandakan (A, B, C, D, E)

(5 markah)

3. SAMA ADA

- (a) berikan dua (2) contoh bentuk-bentuk bandar "Utopia".
- (b) Namakan pemikir-pemikir/pereka-pereka bentuk yang diberikan.

ATAU

Namakan dua (2) tokoh perancangan yang terlibat dengan setiap satu bandar-bandar berikut:-

- (a) bandar Penjajah
- (b) bandar Zaman Pembaharuan

(5 markah)

4. (a) Namakan satu akta yang digubal untuk meningkatkan kualiti hidup di bandar sebelum Perang Dunia Kedua.
- (b) Di manakah akta ini digubalkan dan untuk tujuan apakah ianya dihasilkan (Ringkas).

(5 markah)

5. (a) Apakah "plaza"?
- (b) Pada zaman manakah ianya terdapat?
- (c) Di manakah lokasinya di dalam sesebuah bandar?
(Lakarkan kedudukannya, serta tandakan gunatanah-gunatanah yang terdapat berhampiran dengannya).

(10 markah)

6. (a) Apakah bentuk pengangkutan awam yang paling popular sekali pada awal zaman Perindustrian?
- (b) Berikan 2 sebab utama kenapa ianya popular?
(Ringkas).

(10 markah)

...7/-

7. Kenapakah benteng-benteng bandar tidak terdapat pada bandar-bandar yang dibangunkan selepas zaman Perindustrian?

Berikan 2 sebab utama.

(10 markah)

8. (a) Jelaskan kenapa tidak terdapat jalan-jalan yang teratur pada bandar-bandar tradisional Islam.
- (b) Berikan 2 sebab kenapa bandar-bandar baru dibangunkan di dalam tamaddun Islam.

(15 markah)

9. Pilih sama ada bandar Georgetown (Pulau Pinang) atau Kuala Lumpur sebagai latarbelakang perbincangan untuk soalan ini.

Apakah faktor-faktor sejarah yang telah mempengaruhi rupa-bentuk (fizikal) bandar-bandar di Malaysia?

Tumpukan perbincangan kepada perkara-perkara pokok. Namakan jalan, bangunan dan sebagainya dengan khusus bila memberi contoh. Buat lakaran-lakaran kecil (dengan jelas) untuk membantu hujjah-hujjah.

(25 markah)

10. (a) Apakah "Jerryhouse"? Jelaskan secara ringkas.
- (b) Pada zaman manakah ianya terdapat?

(10 markah)

